

الجمهورية الإسلامية الموريتانية
شرف - إخاء - عدل



وزارة التهذيب الوطني وإصلاح النظام التعليمي
المعهد التربوي الوطني

كتاب الجغرافيا

للسنة السادسة الابتدائية

تأليف:

سيدي محمد ول محمد ول محمد ول محمد ول مفتش تعليم أساسي متقاعد
سيدي محمد الكنتي عباس مستشار تربوي بالمعهد التربوي الوطني
عبد الله إسماعيل الغزالي معلم
تصميم هيبتنا يحي أبري مصمم بالمعهد التربوي الوطني

2024





IPN



بسم الله الرحمن الرحيم

تقديم

يسرنا إخوتي المعلمين، أبنائي التلاميذ - أن نقدم لكم كتاب الجغرافيا للسنة السادسة من التعليم الأساسي، وذلك من أجل المساهمة في تحقيق غايات المراجعة الجديدة للبرنامج الهادفة إلى العمل على إرساء نظام تربوي فعال ، قوامه إشراك كل من التلميذ والمعلم في إنتاج المعرفة.

وننبه إلى أن العناية بالكتاب نظيفا سليما قيمة حضارية يجب عليكم- أعزائي التلاميذ- أن تتنبهوا إليها، فتعطوه ما يستحق من عناية، وتمنحوه صداقتكم، فهو أعتز صديق.

وفي الأخير، نشكر كل من ساهم في هذا العمل من قريب أو بعيد.

المديرة العامة
هدى باباه



IPN



بسم الله الرحمن الرحيم

المقدمة

السادة المعلمين أبناءنا التلاميذ

لنا الشرف أن نقدم لكم كتاب الجغرافيا للسنة السادسة من التعليم الأساسي ، وهو الكتاب الذي يندرج تأليفه ضمن السعي الدائم إلى توفير الكتاب المفيد الملائم الذي يلبي طلبات التلاميذ والمعلمين.

وقد تم تقسيم الكتاب إلى ست وحدات دراسية تحتوي كل وحدة على مجموعة من الدروس المدعمة بالصور والخرائط والأسئلة والأنشطة بما ينمي المعارف و المهارات ويسهل الفهم والاستيعاب ، من خلال توزيع الدرس إلى فقرات تبدأ بالتمعن والملاحظة وقراءة المضمون و النقاش واستنتاج الخلاصة ووضعية البحث التي تمكن من تعزيز المكتسبات وتنمي حب الإطلاع وروح البحث والله الموفق وعليه الاتكال

المؤلفون



IPN





الوحدة الأولى موريتانيا والدول المجاورة



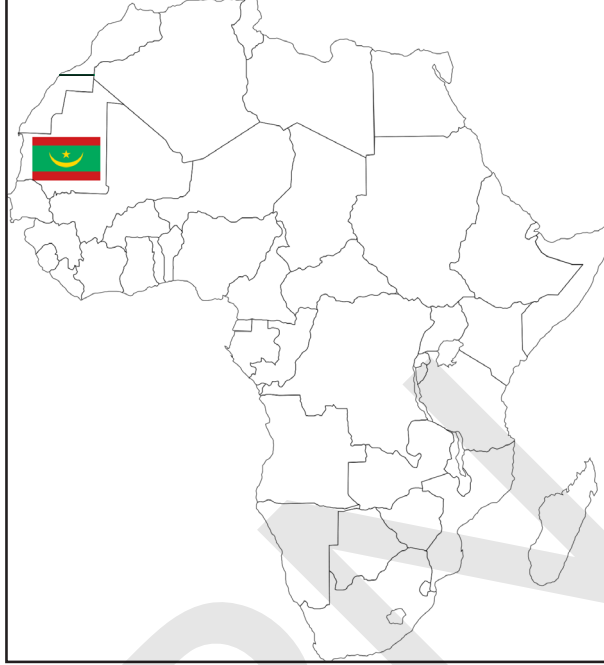


IPN

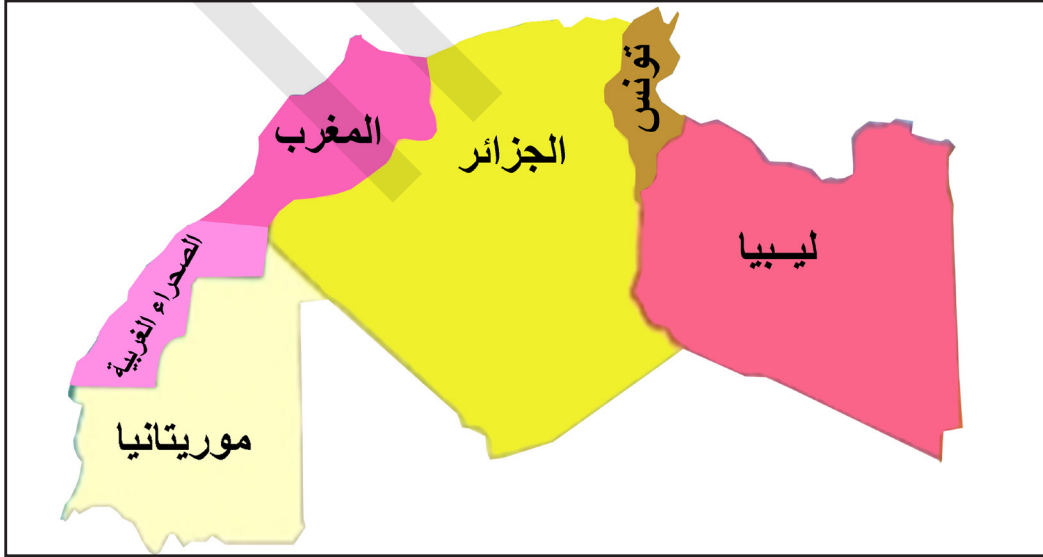


اتحاد المغرب العربي

1- ألاحظ



- ما ذا يحد قارة إفريقيا من الشرق؟
- ما ذا يحدّها من الغرب؟
- أين تقع موريتانيا في القارة الإفريقية؟



- ما أسماء دول الاتحاد المغاربي؟
- هل تقع كلها في قارة واحدة؟
- في أي جهة من القارة الإفريقية تقع دول اتحاد المغرب العربي؟

2 - أنمي معارفي:

أ- أقرأ

نظرا لأهمية التكتلات الإقليمية انتظمت بعض الدول العربية الواقعة في شمال إفريقيا في اتحاد إقليمي يعرف باتحاد المغرب العربي يضم خمس دول هي : موريتانيا والمغرب والجزائر وتونس وليبيا.

وقد تأسس هذا الاتحاد في السابع عشر من فبراير 1989 بمدينة مراكش المغربية، ويهدف إلى تقوية الروابط وتوطيد عرى التعاون بين الدول الأعضاء.

وتتميز دول الاتحاد المغربي بوحدة : اللغة والدين والتاريخ والتجاور الجغرافي.

تمتلك دول الاتحاد المغربي مقدرات اقتصادية هائلة ومتنوعة كالبترول والغاز والحديد والنحاس والذهب، إضافة إلى الثروات السمكية والحيوانية والزراعية...

ب - ناقش :

- أتعرف على دول الاتحاد المغربي داخل إفريقيا.
- خريطة الاتحاد المغربي مستقلة.
- أبين على خريطة كل دولة من دول الاتحاد اسمها وعلمها.
- أعين : دين ولغة كل دولة من دول الاتحاد المغربي.
- هل تفصل دول أخرى من غير الاتحاد بين هذه الدول ؟
- هل تفصل حدود طبيعية كالبهار والمحيطات والسلاسل الجبلية بين بعض دوله.
- أحدد مكان انعقاد مؤتمر التأسيس، الدولة، المدينة، والتاريخ.

ج - أستنتج :

تأسس اتحاد المغرب العربي في مدينة مراكش المغربية سنة 1989، ويضم هذا الاتحاد خمس دول هي : موريتانيا - المغرب - الجزائر - تونس - ليبيا. وهو منظمة إقليمية.

وتتميز دول الاتحاد المغربي بوحدة اللغة والدين وبالتجاور الجغرافي.

و تمتلك دول الاتحاد المغربي مقدرات اقتصادية هائلة كالبترول والغاز والنحاس والحديد والذهب والأسماك والتنمية الحيوانية والزراعية...

ويهدف الاتحاد إلى تقوية التعاون المشترك في كافة المجالات

3 - أطبق :

أ- أقوم درسي

علمت أن مقومات الوحدة هي القضايا المشتركة بين أفراد الأمة، والتي تجعل الوحدة ممكنة، وهي اللغة والدين والتاريخ، وكنت من بين المشاركين في حفل تربوي حول ذكرى تأسيس الاتحاد المغربي وكان دورك في مسطرة الحفل إعداد ورقة حول مقومات الوحدة لدى اتحاد دول المغرب العربي.

لتنال إعجاب المحتفلين، قم بإعداد ورقة تحدد فيها مقومات الوحدة لدى دول المغرب العربي.

-الحدود الطبيعية : هي الحواجز التي تفصل بين البلدان وليست من صنع البشر مثل الأنهار والبحار والمحيطات والسلاسل الجبلية.

-الحدود السياسية : هي العلامات التي يتفق عليها بلدان كحاجز بينهما ، وتكون عادة بالأعمدة أو الأساطين أو الجدران أو التسييج.

طلب منك معلمك في إطار تخليد ذكرى تأسيس الاتحاد المغربي أن ترسم خريطة الاتحاد المغربي وتسجل داخل خريطة كل دولة : دينها، لغتها، أهم مواردها الاقتصادية ، مساحتها، ثم تحدد نوع الحدود بين بلدان المغرب العربي.

قم بإعداد إجابتك بعناية لتنال إعجاب معلمك وثقتة.

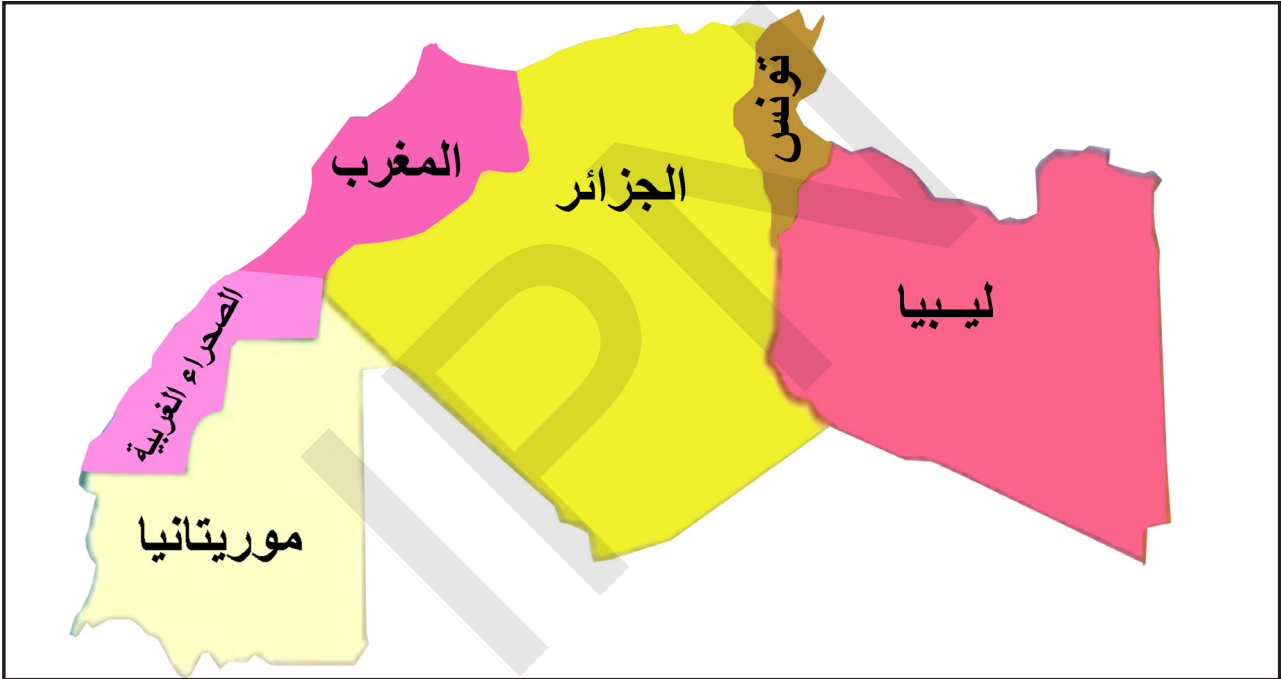
موريتانيا ومؤسسات الاتحاد المغربي

1- ألاحظ :

شاركت في مسابقة فصلية تنظمها مفتشية مقاطعتك وطلب منك تحديد تاريخ تأسيس اتحاد المغرب العربي، وذكر الهيئات المنبثقة عنه. تعاون مع زملائك في البحث عن الإجابة.

2- أنمي معارفي :

أ- أقرأ



تجسد دول المغرب العربي اتحادها من خلال مؤسسات تشاركية تعنى بالأمور التي تجمع دول الاتحاد وتنمي آفاق التعاون بينها ، وتلك المؤسسات هي :

الأمانة العامة، وهي الإطار التنفيذي للاتحاد ومقرها الرباط.
مجلس الشورى، وهو الإطار التشريعي للاتحاد ومقره الجزائر.

الهيئة القضائية مهمتها النظر في النزاعات المتعلقة بالمعاهدات والاتفاقيات في إطار الاتحاد ومقرها نواكشوط.

الأكاديمية المغربية وتهدف إلى إقامة إطار تعاوني بين مؤسسات البحث العلمي والتكوين العالي في بلدان الاتحاد المغربي والمؤسسات الدولية العربية ومقرها طرابلس.

ب - أناقش :

- أعدد المؤسسات المنبثقة عن الاتحاد المغربي.
- أعدد مقر كل واحدة من هذه المؤسسات.
- أعدد الغاية من كل مؤسسة من هذه المؤسسات.

ج - أستنتج :

لاتحاد دول المغرب العربي هيئات متخصصة تحقق وحدته وتعنى بأموره المشتركة ، وتشارك فيها جميع دول الاتحاد :

- الأمانة العامة، ومقرها الرباط.
- مجلس الشورى، ومقره الجزائر.
- الهيئة القضائية، ومقرها نواكشوط.
- الأكاديمية المغربية، ومقرها طرابلس.

3 - أطبق :

أ- أقوم درسي

أربط بسهم بين كل هيئة والعاصمة التي تقع فيها :

الرباط	الهيئة القضائية
نواكشوط	الأمانة العامة
الجزائر	الأكاديمية المغربية
طرابلس	مجلس الشورى

أربط في دفترتي بين المعلومات الآتية ، والمؤسسة المناسبة لها :

- مؤسسة تضم عددا من الموظفين ينتدبهم الأمين العام.
- مؤسسة تضم قاضيين اثنين عن كل دولة.
- مؤسسة تعتمد سياسة بحث علمي وتكنولوجي تركز على الجوانب التنموية المشتركة بين دول الاتحاد.

المؤسسات المعنية :

الهيئة القضائية - الأمانة العامة - الأكاديمية المغربية.

ب - أبحث :

تخليدا لذكرى إنشاء الاتحاد المغربي نظمت مدرستك مسابقة ورصدت جائزة للفائز الأول ؛ ويتطلب الفوز بالجائزة الإجابة على الأسئلة الآتية:

- كم عدد هيئات الاتحاد المغربي؟
 - اذكر اسم كل هيئة، والهدف منها، ومقرها.
- للفوز بالجائزة.
حرر إجابتك بعناية.

منظمة استثمار نهر السنغال

1 - ألاحظ :



- ما ذا تمثل هذه الخريطة ؟
- ما الدول الموجودة عليها؟

2 - أنمي معارفي :

أ- أقرأ :

أنشأت (موريتانيا، مالي، السنغال) سنة 1972 م منظمة تدعى منظمة استثمار نهر السنغال بغية استغلال مياه النهر لأغراض اقتصادية وتنموية، مثل الري، وتوليد الطاقة الكهربائية وتوفير المياه الصالحة للشرب وقد انضمت إليها لاحقا دولة غينيا. ينبع نهر السنغال من غرب القارة الإفريقية، من مرتفعات (فوتجالون) في غينيا كوناكري ويصب في المحيط الأطلسي مارا عبر الدول الثلاث (موريتانيا، مالي، السنغال).

ب- أناقش :

- أقوم برسم النهر محددًا منبعه ومصبه.
- أحدد الأغراض التي أنشئت من أجلها المنظمة.
- أحدد تاريخ إنشاء المنظمة، والدول الأعضاء فيها.

ج- أستنتج :

أنشئت منظمة استثمار نهر السنغال سنة 1972م بغية استخدامها لأغراض اقتصادية كالري وتوليد الطاقة الكهربائية وتوفير المياه الصالحة للشرب والملاحة النهرية. وتضم هذه المنظمة موريتانيا - السنغال - مالي - غينيا.

3- أطبق

أ- أقوم درسي

شاركت في مسابقة نظمتها منظمة استثمار نهر السنغال لمدارس من الدول الأعضاء، وكان الفوز في المسابقة يتطلب تقديم ملخص عن منظمة استثمار نهر السنغال، تاريخ تأسيسها والدول الأعضاء فيها، والهدف من إنشائها، و الأدوار المنشأة من أجلها. للفوز في المسابقة حرر إجابتك بعناية.

ب- أبحث:

المنبع هو الذي يأتي منه الماء وعادة تتبع الأنهار من الجبال وتصب في البحار والمحيطات.

- ارسم خريطة منظمة استثمار نهر السنغال موضحا عليها :
- مواقع الدول الأعضاء.
- منبع النهر ومصبه.

أكمل ما يأتي بما تراه مناسباً:

تستفيد موريتانيا من في مجالات

الدور الاقتصادي لمنظمة استثمار نهر السنغال

1- ألاحظ :

علمت خدي من خلال حوار مع إحدى زميلاتهما أن منظمة استثمار نهر السنغال أنشأت سدين مهمين لأغراض اقتصادية إلا أنها لم تعرف ما تستفيد موريتانيا منهما. ساعدها بالإجابة على الأسئلة التالية :

الغرض المنشأ من أجله	اسم السد	
		أ
		ب

- ما اسم السدين؟
- ماذا تستفيد موريتانيا من السدين؟
- أين يقع سدا ادياما وماننتالي؟

2- أنمي معارفي :

أ- أقرأ :



أنشأت دول موريتانيا والسنغال ومالي سنة 1972م منظمة تدعى : منظمة استثمار نهر السنغال بغية استغلال مياه النهر لأغراض اقتصادية وتنموية مثل الري، توليد الطاقة الكهربائية، توفير المياه الصالحة للشرب والملاحة النهرية.

ولتحقيق تلك الأهداف أنشأت المنظمة سدي ادياما وماننتالي :

- سد ادياما للري وتصفية المياه الصالحة للشرب ، ويقع في الأراضي السنغالية.

- سد ماننتالي لتوليد الطاقة الكهربائية بكميات تقدر بملايين الكيلوات ويقع في الأراضي المالية

ب- أناقش :

- أقوم برسم خريطة المنظمة، محددًا عليها موقع سدي ادياما وماننتالي.
- ما الأغراض التي أنشئت من أجلها المنظمة؟
- ما تاريخ إنشائها؟ وما الدول الأعضاء فيها؟

ج - أستنتج

أنشئت منظمة استثمار نهر السنغال سنة 1972 من أجل استغلال النهر لأغراض اقتصادية تنموية، وتضم هذه المنظمة : موريتانيا - مالي - السنغال - غينيا .

وقد أقامت منظمة استثمار نهر السنغال سدي ادياما وماننتالي لتحقيق أهدافها الاقتصادية.

3 - أطبق :

أ - أقوم درسي :

شاركت في مسابقة نظمتها منظمة استثمار نهر السنغال لمدارس من الدول الأعضاء، وكان الفوز فيها يتطلب إعداد ورقة عن تاريخ تأسيس المنظمة والدول الأعضاء فيها، والهدف الذي أنشئت من أجله، والوسائل التي أعدت لاستغلال نهر السنغال اقتصاديا.
للفوز في المسابقة حرر إجابتك بعناية.

ب - ابحث :

عرفت أن السد هو الحاجز الذي يقام على مجاري المياه للتحكم فيها واستغلالها لأغراض الري أو الزراعة أو توليد الطاقة

- قم برسم خريطة منظمة استثمار نهر السنغال موضحا عليها مواقع سدي ادياما وماننتالي.

- ما الفوائد الاقتصادية التي تستفيدها موريتانيا من خلال هذين السدين :

..... فوائد سد ادياما

..... فوائد سد ماننتالي

..... انعكاسات تلك الفوائد على اقتصادنا الوطني



IPN





الوحدة الثانية موريتانيا في العالم العربي





IPN



1 - ألاحظ

خريطة الوطن العربي



أ_ تأمل الخريطة و أبين دول الاتحاد المغربي.

أ_ أشاهد الخريطة وأقرأ أسماء دولها.

أ_ أذكر اسم الاتحاد الذي يجمع كل الدول العربية.

2 - أنمي معارفي

أ - أقرأ

يطلق الوطن العربي على منطقة جغرافية تشمل جميع الدول العربية تمتد من المحيط الأطلسي غرباً إلى الخليج العربي شرقاً على مساحة تقدر بـ 13487814 كلمتر مربع موزعة بين قارتي آسيا وأفريقيا.

تتميز دول الوطن العربي بوحدة اللغة والدين والتاريخ، وتنتظم هذه الدول في إطار منظمة تسمى جامعة الدول العربية أنشئت سنة 1945 في القاهرة وانضمت إليها موريتانيا سنة 1973م

تمتلك البلدان العربية موارد اقتصادية هائلة ومتنوعة من أهمها: البترول الغاز الطبيعي المعادن والثروة السمكية والثروة الحيوانية و المنتجات الزراعية.

تعمل الجامعة العربية على تقوية الروابط بين الدول العربية.

ب - ناقش

- _ متى أنشئت الجامعة العربية؟
- _ ما العوامل المشتركة بين الدول الأعضاء في الجامعة؟
- _ هل تجاور الدول العربية جغرافيا يدعم مشروع وحدتها؟

ج - أستنتج

الجامعة العربية عبارة عن منظمة إقليمية تضم دولاً عربية في آسيا وإفريقيا لها نفس اللغة والدين والتاريخ. تأسست سنة 1945 في القاهرة ونالت موريتانيا عضويتها في الجامعة سنة 1973 ومنذ ذلك الحين وهي تمارس دورها داخل الجامعة مثل باقي شقيقاتها العربية وتتمتع معها بنفس الحقوق.

تهدف الجامعة العربية إلى تقوية الروابط بين الدول العربية وتنسيق الجهود في المجالات الاقتصادية والثقافية وتتوفر البلاد العربية على ثروات عديدة من أهمها: البترول الغاز الطبيعي المعادن والثروة السمكية والثروة الحيوانية

3. أطبق

أ. أقوم درسي

بمناسبة انعقاد الدورة العادية لمجلس الجامعة العربية في بلادنا طلبت وزارة التهذيب من تلاميذ الأقسام السوادس إعداد تقارير عن جامعة الدول العربية.

قم بإعداد تقرير عن الجامعة العربية نيابة عن زملائك تذكر فيه:

- مكان تأسيس الجامعة العربية.
- تاريخ انضمام موريتانيا إليها.
- أهم أهداف الجامعة والدور الذي تلعبه موريتانيا في الجامعة.

ب- أبحث

الثروات الطبيعية : هي الثروات التي توجد في مكان معين دون تدخل من الإنسان بل هي هبة من الخالق

موريتانيا عضو مؤسس في منظمة استثمار نهر السنغال كما أنها تشترك مع منظمات إقليمية وقارية ودولية كالجامعة العربية التي تضم 22 دولة من بينها مصر والعراق ولبنان والسعودية وسوريا.

ابحث عن باقي الدول الأعضاء في الجامعة و سجلها في دفترك

الوحدة الثالثة موريتانيا في إفريقيا



IPN



الاتحاد الإفريقي

1- ألاحظ:



- 1) - أنظر الصورة وأحدد لون القارة الإفريقية بها.
- يظهر من خلال الصورة وجود إفريقيا بين محيطين ما هما؟
- ارسم قارة إفريقيا منفردة في ورقة.

2- أنهى معارفي

أ - أقرأ:



تُعتَبَرُ إفريقيا من أهم قارات العالم وأكبرها من حيث المساحة والسكان إذ تبلغ مساحتها 30.2 مليون كيلومتر مربعاً.

الموقع: تقع إفريقيا بين مجموعة من المحيطات والبحار هي: البحر الأحمر والبحر الأبيض المتوسط والمحيط الأطلسي والمحيط الهندي، وقد نالت بعض الدول الإفريقية استقلالها في بداية الستينيات من القرن العشرين مشكّلة فيما بعد منظمة الوحدة الإفريقية التي أنشئت سنة 1963م (بأديس أبابا) لتتحول سنة 2002م إلى الاتحاد الإفريقي الذي يسعى إلى دعم التعاون بين الدول الأعضاء سياسياً واقتصادياً وثقافياً.

ب - أناقش:

- بالتعاون مع مجموعتك داخل القسم قم برسم خريطة إفريقيا مبينا عليها موقع موريتانيا والدول التي تحدها.

- ما أهم البحار والمحيطات التي تحيط بالقارة الإفريقية؟
- متى أنشئت منظمة الوحدة الإفريقية؟
- في أي سنة تحولت إلى الاتحاد الإفريقي؟

ج - أستنتج:

أنشئت منظمة الوحدة الإفريقية يوم 25 مايو 1963م في آديس أبابا و تهدف إلى التضامن والتعاون بين الدول الإفريقية والدفاع عن سيادتها.

ومن أهم أجهزتها:

- مؤتمر الرؤساء.
- الأمانة العامة.
- مجلس الوزراء.
- لجنة الوساطة.

وقد لعبت موريتانيا بوصفها عضوا مؤسساً للاتحاد الإفريقي أدواراً هامة من خلال مقاومة الاستعمار وخدمة القضايا الإفريقية ومحاربة التمييز العنصري. تتمتع موريتانيا بعلاقات سياسية واقتصادية وثقافية مع كافة أعضاء الاتحاد.

3 - أطبق

أ - أقومُ دَرَسِي

نظمت وزارة التهذيب الوطني وإصلاح النظام التعليمي مسابقة لتلاميذ القسم السادس الابتدائي وكان من ضمن الأسئلة طلب تحديد موقع القارة الإفريقية بعد رسمها مع ذكر تاريخ إنشاء منظمة الوحدة الإفريقية، وأهم أهدافها وأجهزتها، فكيف تجيب؟

ب - أبحث:

تصفية الاستعمار: هي إنهاء الوجود الاستعماري تمهيدا لاستقلال جميع البلدان.

من خلال البحث أكمل المعلومات التالية تقع موريتانيا في الشمال الغربي من قارة إفريقيا تحدها من الشرق مالي ومن الجنوب دولتا مالي والسنغال ومن الغرب المحيط الأطلسي ومن الشمال الجزائر وتغطيها ثلاثة أقاليم مناخية هي:.....

اللجنة المشتركة لمكافحة آثار الجفاف في الساحل

1 - ألاحظ:

(1) - انظر الصورتين وأبين الفرق بينهما



- ما هي أسباب الجفاف؟
- ماذا تعرف من نتائجه؟

2 - أنمي معارفي

أ - أقرأ:

عندما تتعرض الأرض للجفاف نتيجة انعدام التساقطات المطرية لفترات



طويلة يؤدي ذلك إلى ندرة المياه التي تستخدم لأغراض الشرب والزراعة مما يتسبب في انعدام الأمن الغذائي وانتشار الأمراض وسوء التغذية داخل المجتمعات المحلية فيضعف الاقتصاد ويكثر اللجوء إلى الهجرة ونتيجة

للجفاف الذي ضرب بعض الدول الإفريقية أنشأت اللجنة المشتركة لمكافحة آثار الجفاف في الساحل سنة 1973م، وتضم كل من موريتانيا ومالي و السنغال وغامبيا و غينا بساو وبوركينا فاسو و النيجر و اتشاد و جزر الرأس الأخضر وتهدف هذه المنظمة إلى تشجيع التعاون بن الدول الأعضاء وزيادة الإنتاج ومكافحة تدمير البيئة و تسيير الثروات الطبيعية.

ب - أناقش:

- متى أنشئت اللجنة المشتركة لمكافحة آثار الجفاف في الساحل؟
- ما أسباب إنشائها وكم عدد أعضائها؟
- اذكر بعضا من أهداف اللجنة المشتركة لمكافحة آثار الجفاف في الساحل.

ج - أستنتج:

اللجنة المشتركة لمكافحة آثار الجفاف في الساحل لجنة خاصة تضم تسع دول هي: (موريتانيا، والسنغال، وبوركينا فاسو، وغامبيا، ومالي والنيجر واتشاد والرأس الأخضر وغينيا بساو) وقد أنشئت في 12/ سبتمبر/ 1973م، ومن أهم أهدافها:

- تشجيع التعاون بين الدول الأعضاء.
 - زيادة الإنتاج.
 - مكافحة تدمير البيئة.
 - تحسين تسيير الموارد الطبيعية.
- موريتانيا عضو مؤسس و فاعل في اللجنة المشتركة لمكافحة آثار الجفاف في الساحل (السلس) وقد استفادت من برامجها المختلفة كتشجير المساحات بالأحزمة الخضراء وحماية البيئة.

3 - أطبق

أ - أقومُ دَرَسِي

نتيجة للجفاف الذي ضرب بعض الدول الإفريقية أنشئت اللجنة المشتركة لمكافحة آثار الجفاف في الساحل.

حرر ورقة مفصلة عن اللجنة ذاكرة، الدول الأعضاء بها، وأهم أهدافها، والدور الذي تلعبه موريتانيا كعضو مؤسس لهذه اللجنة معززا إجابتك برسم خريطة الدول المكونة لها.

ب - أبحث:

السلس: هو اختصار لاسم اللجنة المشتركة لمكافحة آثار الجفاف في الساحل .

تشارك موريتانيا مع بعض دول الجوار مثل الجزائر و المغرب والسنغال ومالي في منظمات إقليمية ودولية منها اتحاد المغرب العربي

ابحث عن باقي هذه المنظمات ودونها في السطور التالية

.....

الوحدة الرابعة موريتانيا في العالم



IPN



منظمة التعاون الإسلامي

1- الاحظ



- هل تقع دول العالم الإسلامي في قارة واحدة؟
- ما القارتان اللتان يوجد فيهما المسلمون؟

2- أنمي معارفي :

أ- أقرأ :

موريتانيا شعب مسلم 100% تنتمي إلى العالم الإسلامي حيث ينتشر المسلمون في جميع أنحاء العالم، وتوجد غالبيتهم في قارتي آسيا وإفريقيا ويربو عدد المسلمين في العالم اليوم على ملياري نسمة.

والدول الإسلامية أكثر من خمسين دولة تنتظم في تجمع يعرف باسم منظمة التعاون الإسلامي التي كانت تسمى سابقا منظمة المؤتمر الإسلامي، والتي أنشئت بعد كارثة حريق الأقصى سنة 1969م.

وتهدف هذه المنظمة إلى دعم قضايا المسلمين والدفاع عن مقدساتهم وتشجيع التعاون بينهم.

ب- أناقش:

- بأي دين يؤمن الموريتانيون؟
- أين يوجد المسلمون؟
- هل يوجد المسلمون في قارة واحدة، أم قارتين؟ وما هما؟

- كم يبلغ عدد الدول الإسلامية في العالم؟ وكم عدد المسلمين في العالم اليوم؟
- ما اسم أول منظمة إسلامية؟ ومتى أنشئت؟
- ما أهم أهداف منظمة التعاون الإسلامي؟

ج - أستنتج :

تأسست منظمة التعاون الإسلامي سنة 1969 م بعد حادثة حريق الأقصى ، وكانت تسمى سابقا منظمة المؤتمر الإسلامي، وتضم أكثر من خمسين دولة، ويربو عدد المسلمين في العالم اليوم على ملياري نسمة، وموريتانيا دولة عضو في هذه المنظمة وشعبها مسلم %100. وتهدف منظمة التعاون الإسلامي إلى دعم قضايا المسلمين، والدفاع عن مقدساتهم وتشجيع التعاون بينهم .

3 - أطبق :

أ- أقوم درسى :

- كنت عضوا في نادي مدرستك وطلبت منك مجلة النادي مشاركة تتألف من :
 - رسم خريطة منظمة التعاون الإسلامي مسجلا داخلها تاريخ تأسيسها، أهم أهدافها. حرر مشاركتك لمجلة النادي ؟
 - ذكر ثلاث دول عربية افريقية أعضاء في منظمة التعاون الإسلامي.
 - ذكر ثلاث دول إفريقية غير عربية أعضاء في منظمة التعاون الإسلامي.
 - ذكر ثلاث دول غير عربية وغير إفريقية أعضاء في منظمة التعاون الإسلامي.

ب- أبحث

شاركت في تحرير جريدة مؤسستك وكان الدور المطلوب منك تقديم ورقة عن منظمة التعاون الإسلامي تاريخ تأسيسها، وعدد دولها، مواقعها، أهم الموارد الاقتصادية للدول الإسلامية. للفوز حرر ورقة إجابتك بعناية.

التمييز بين المنظمات والتجمعات من خلال أدوارها

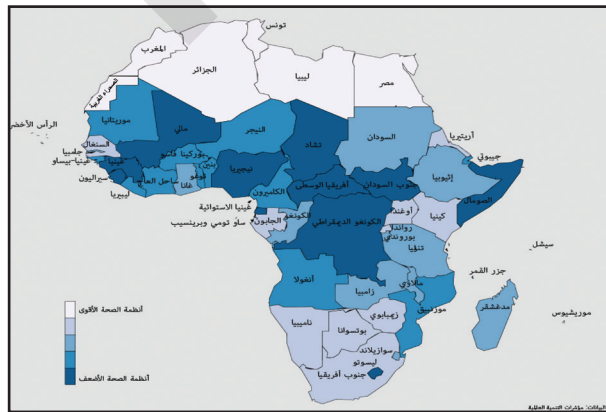
1 - ألاحظ :

استمعت و زميلك إلى حلقة إذاعية موضوعها : مقارنة بين المنظمات الإقليمية والدولية ؛ التي تضم موريتانيا وأهم الأدوار التي تقوم بها.
طلب منك زميلك أن تذكر له منظمة إقليمية وأخرى دولية تنتمي إليهما موريتانيا.
حرر إجابتك لزميلك بعناية.
- تحديد الفرق بين المنظمة الإقليمية والمنظمة الدولية.

2 - أنمي معارفي :



- ما اسم المنظمة التي تجمع الدول الموجودة على هذه الخريطة ؟



- ما اسم المنظمة التي تجمع دول قارة إفريقيا؟

أ - أقرأ

منظمة استثمار نهر السينغال منظمة إقليمية ذات أدوار اقتصادية متأدية من استغلال سدي دياما ومانتالي للري وتوليد الطاقة وتوفير مياه الشرب والملاحة النهرية

أما منظمة الوحدة الإفريقية فهي منظمة قارية تلعب أدوارا سياسية كتصفية الاستعمار، ومكافحة العنصرية، وأدوارا ثقافية وأخرى اقتصادية في مجالات التعاون الاقتصادي

ب - أناقش :

- ما الدور الأساسي لمنظمة استثمار نهر السنغال؟
- ما الأدوار التي تلعبها منظمة الوحدة الإفريقية؟
- أي المنظمتين أشمل أدوارا؟

ج - أستنتج :

منظمة استثمار نهر السنغال منظمة إقليمية أدوارها اقتصادية، أما منظمة الوحدة الإفريقية فهي منظمة قارية ذات أدوار متنوعة سياسية وثقافية واقتصادية.

3 - أطبق :

أ- أقوم درسي :

طلب منك زميلك في القسم السادس في قرية أخرى أن ترسل له معلومات عن أدوار منظمتي استثمار نهر السنغال والاتحاد الإفريقي مع توضيح أيهما أشمل أدوارا
قم بإعداد ورقة تحمل إجابة زميلك بعناية وأرسلها إليه.

ب- أبحث :

عرفت أن المنظمة الإقليمية تعني مجموعة دول متجاورة، وأن المنظمة القارية هي مجموعة دول مشمولة في قارة واحدة، أما المنظمة الدولية فهي منظمة تضم مجموعة دول لا تجمعها قارة واحدة.

وأن موريتانيا عضو في : الاتحاد المغربي - منظمة استثمار نهر السنغال - اللجنة المشتركة لمكافحة آثار الجفاف في الساحل، الجامعة العربية - منظمة التعاون الإسلامي - الاتحاد الإفريقي
قم بتوزيع هذه المنظمات إلى :

- منظمات إقليمية وهي
- أهم أدوارها
- منظمة قارية وهي :
- أهم أدوارها :
- منظمات دولية وهي :
- أهم أدوارها :



الوحدة الخامسة موريتانيا والدول الصناعية





IPN



موريتانيا والدول الصناعية الأوروبية

1 - ألاحظ

خريطة الاتحاد الأوروبي



- أشاهد الخريطة واقراً أسماء الدول المكونة للاتحاد الأوروبي.
- أحدد أي هذه الدول تربطنا بها علاقات وطيدة.
- أبين نوع هذه العلاقة.
- هل هي تجارية أم ثقافية أم سياسية؟

2 - أنمي معارفي

أ - أقرأ

الاتحاد الأوروبي من أكبر التكتلات التجارية وأهمها ويضم معظم الدول الصناعية التي تربطها علاقات التكامل الاقتصادي فيما بينها وتستخدم عملة موحدة هي اليورو.

من أهم الدول الصناعية الأوروبية فرنسا، بلجيكا، ألمانيا، بريطانيا، إيطاليا، إسبانيا، السويد.

تربط موريتانيا بدول أروبا، الغربية علاقات تجارية وثقافية وسياسية تشمل ميادين عديدة من أبرزها:

التبادلات التجارية حيث تصدر موريتانيا إلى هذه الدول خامات المعادن والمنتجات السمكية وتستورد منها الأغذية والأدوية والملابس والسيارات والأجهزة المختلفة.

أما في المجال الثقافي والسياسي فإن هذه الدول تستقبل بعض الطلاب الموريتانيين وتقدم لبلادنا بعض الدعم الفني وتبادل معها السفراء.

ب - أناقش

- أعدد أربع دول أوروبية صناعية.
- اذكر اسم العملة المشتركة لدول الاتحاد الأوروبي.
- ما أهم أنواع العلاقات التي تربط موريتانيا بالدول الصناعية الأوروبية؟

ج - أستنتج

يضم الاتحاد الأوروبي معظم الدول الأوروبية التي تربطها علاقات التكامل الاقتصادي فيما بينها وتستخدم عملة موحدة هي اليورو. من أهم الدول الصناعية الأوروبية فرنسا بلجيكا ألمانيا إيطاليا بريطانيا إسبانيا.

تربط موريتانيا بدول أوروبا الغربية علاقات تجارية وثقافية وسياسية تشمل ميادين عديدة ففي المجال التجاري تصدر موريتانيا إلى هذه الدول خامات المعادن والمنتجات السمكية وتستورد منها الأغذية والأدوية والملابس والسيارات والأجهزة المختلفة، أما في المجال الثقافي والسياسي فتستقبل هذه الدول بعض الطلاب الموريتانيين وتقدم لبلادنا بعض الدعم الفني وتبادل معها السفراء.

3 - أطبق

أ - أقوم درسي

في إطار التعاون المتبادل بين موريتانيا والدول الصناعية الأوروبية زار وفد من الاتحاد الأوروبي مدرستك فطلب المدير من تلاميذ القسم السادس إعداد ملخص عن علاقة موريتانيا والدول الصناعية الأوروبية يقدم ضمن الاستقبال المخصص للضيوف.

قم بإعداد الملخص المطلوب لتشارك به.

ب - أبحث

الدول الصناعية هي الدول التي تحول المواد الخام إلى مواد مصنعة.

تجسد موريتانيا علاقتها مع دول العالم من خلال انضمامها إلى المنظمات والتجمعات القارية والدولية، كما تربطها علاقات التعاون والتبادل التجاري مع بعض الدول الصناعية في أوروبا.

ابحث عن أهم صادرات موريتانيا إلى هذه الدول وأهم ما تستورده منها واكتبها في دفترك

موريتانيا والدول الصناعية في أمريكا الشمالية

1- ألاحظ

خريطة الولايات المتحدة الأمريكية



- أشاهد خريطة الولايات المتحدة الأمريكية وأقرأ أسماء الدول المجاورة لها.
- أتأمل خريطة الولايات المتحدة الأمريكية وأبين موقعها وحدودها.

2- انمي معارفي

أ- أقرأ

تقع الولايات المتحدة الأمريكية في أمريكا الشمالية، يحدها المحيط الأطلسي شرقاً والمحيط الهادي غرباً، وهي دولة صناعية كبرى تملك أكبر اقتصاد في العالم.

تربط موريتانيا والولايات المتحدة الأمريكية علاقات تجارية وثقافية، حيث تستقبل أمريكا بعض الطلاب الموريتانيين، كما تصدر إليها موريتانيا المعادن وتستورد منها بعض المنتجات الصناعية.

تقع كندا في أمريكا الشمالية يحدها شرقاً المحيط الأطلسي وغرباً المحيط

الهادي وشمالا المحيط المتجمد الشمالي وجنوبا الولايات المتحدة الأمريكية، تتوفر كندا على ثروات معدنية هائلة ومتنوعة وتزدهر فيها الزراعة و الصناعة وترتبط بلادنا بكندا علاقات ثقافية وتجارية هامة.

ب- أناقش

- في أي قارة تقع الولايات المتحدة الأمريكية؟
- في أي قارة تقع كندا؟
- حدد حدود كندا من الشمال والجنوب.
- حدد مجال العلاقات بين موريتانيا والولايات المتحدة.

ج- أستنتج

الولايات المتحدة الأمريكية دولة صناعية كبرى. تمتلك أكبر اقتصاد في العالم، تقع في أمريكا الشمالية، يحدها شرقا المحيط الأطلسي وغربا المحيط الهادي وشمالا كندا وجنوبا المكسيك وخليجها تربط موريتانيا والولايات المتحدة الأمريكية علاقات تجارية وثقافية، حيث تصدر إليها موريتانيا المعادن وتستورد منها بعض المنتجات الصناعية، كما تستقبل أمريكا بعض الطلاب الموريتانيين، أما كندا فدولة تقع في أمريكا الشمالية يحدها المحيط الأطلسي شرقا والمحيط الهادي وألاسكا غربا وشمالا المحيط المتجمد الشمالي ومن الجنوب الولايات المتحدة تتوفر كندا على ثروات معدنية هائلة ومتنوعة وتزدهر فيها الزراعة و الصناعة، تربطها ببلادنا علاقات ثقافية وتجارية هامة.

3 - أطبق

أ- أقوم درسي

تابعت مع أخيك برنامجا في إحدى القنوات الوطنية يتعلق بالدول الصناعية العظمى طرح فيه مقدم البرنامج سؤالاً يطلب فيه التعريف بالولايات المتحدة الأمريكية وكندا، بعد انتهاء البرنامج طلب منك أخوك إعداد ملخص يعرف بدول أمريكا الشمالية. حرر ورقة تجيب فيها أخاك؟

ب- أبحث

المعرض: نشاط يحدد زمانا ومكانا لعرض منتجات معينة بغية إطلاع الزبناء عليها.

تربط موريتانيا والدول الصناعية الكبرى في أوروبا وآسيا وأمريكا الشمالية علاقات وثيقة مثل التبادلات التجارية والمجالات الثقافية المتنوعة نذكر من هذه الدول فرنسا -الصين و كندا. ابحث عن باقي هذه الدول وسجلها في دفترك.

موريتانيا وبعض الدول الصناعية الشرقية

1 - ألاحظ


لاحظ سعيد في طريق عودته من مدينة كيفه إلى نواكشوط عبر طريق الأمل انتشار الأعمدة العملاقة التي تربطها أسلاك كهربائية فاستفسر مرافقيه فأخبروه بأنها جزء من منشآت أديني التي بنتها جمهورية الصين لتزويد مدينة نواكشوط بمياه الشرب، لكن سعيدا طلب المزيد من المعلومات عن الصين فذكر أحد الركاب أنها إحدى الدول الصناعية الشرقية. ساعده بإعطائه معلومات عن الصين.

2 - انمي معارفي

أ- أقرأ



- جمهورية الصين الشعبية دولة صناعية تقع في شرق آسيا وتعتبر من أكثر بلدان العالم سكانا إذ يزيد سكانها عن مليار نسمة ويعتمد اقتصادها على الزراعة و الصناعة
_ تربط موريتانيا والصين علاقات وطيدة حيث شيدت الصين في بلادنا عدة مرافق اقتصادية وثقافية وصحية من بينها: ميناء الصداقة، وشبكة مياه أديني، وتستورد موريتانيا من الصين الشاي والأرز والأقمشة



- اليابان دولة صناعية تقع في شرق آسيا وهي عبارة عن مجموعة من الجزر في المحيط الهادي يعتمد اقتصادها على الصيد البحري وصناعة السيارات والأجهزة وتربط موريتانيا بها علاقات تجارية وصناعية



- تقع جمهورية روسيا الاتحادية في شرق القارة الأوروبية وشمال القارة الآسيوية، وهي دولة صناعية تقوم فيها صناعات عملاقة وخصوصا صناعة البواخر والطائرات.
تربط موريتانيا وروسيا علاقات ثقافية وتجارية هامة

ب - ناقش

- اذكر أهم الدول الصناعية الشرقية.
- اذكر أهم المرافق التي شيدها الصين في بلادنا.
- ما أهم مقومات الاقتصاد في الصين؟
- ماذا تستورد موريتانيا من اليابان؟

ج - أستنتج

من أهم الدول الصناعية الشرقية: جمهورية الصين الشعبية واليابان وروسيا. تقع جمهورية الصين في شرق آسيا وتعتبر من أكثر بلدان العالم سكانا، يعتمد الاقتصاد الصيني على الزراعة والصناعة. تربط موريتانيا والصين علاقات وطيدة حيث شيدها الصين في بلادنا عدة مرافق اقتصادية وثقافية وصحية من بينها: ميناء الصداقة، وشبكة مياه إديني. أما اليابان فدولة تقع في شرق القارة الآسيوية وهي عبارة عن مجموعة من الجزر المحاطة بالمياه في المحيط الهادي، يعتمد الاقتصاد في اليابان على الصيد البحري وصناعة السيارات. تربط موريتانيا واليابان علاقات تجارية هامة حيث تستورد موريتانيا من اليابان السيارات والأجهزة، بينما تستفيد اليابان من اتفاقيات الصيد مع موريتانيا. تقع جمهورية روسيا الاتحادية في شرق القارة الأوروبية وشمال القارة الآسيوية وتقوم فيها صناعات عملاقة وخصوصا صناعة البواخر والطائرات وتمتلك أكبر أسطول في العالم. تربط موريتانيا وروسيا علاقات ثقافية وتجارية هامة.

3 - أطبق

أ - أقوم درسي

بمناسبة تنظيم معرض لمنتجات الدول الصناعية الشرقية في انواكشوط لإطلاع الزوار على طبيعة المنتجات المعروضة وأسعارها، طلب بعض التجار من المشرف على المعرض أن يبين لهم طبيعة علاقات التعاون بين موريتانيا وهذه الدول. اكتب ملخصا يعرف بالدول الصناعية الشرقية، ويبين طبيعة علاقات التعاون بين موريتانيا وهذه الدول لمساعدة زوار المعرض.

ب - أبحث

المرافق: جمع مرفق وهو هنا بمعنى المؤسسة التي تقدم خدمة مهمة للمجتمع مثل المستشفيات والمدارس وشبكات المياه والكهرباء والموانئ والمطارات ودور الثقافة.

فرنسا ، ابريطانيا، المانيا، روسيا، الصين و اسبانيا دول صناعية تربط موريتانيا ببعضها علاقات تجارية هامة. ابحث عن باقي الدول الموجودة منها ضمن الاتحاد الأوروبي ودونها في دفترك، ثم اذكر تنوع هذه العلاقات ومجالاتها



الوحدة السادسة القارات والمحيطات والأنهار





IPN



القارات

1 - ألاحظ:

- أنظر الصورة وأحدد أيهما أكبر مساحة اليابسة أم الماء؟



- ما المحيطات الموجودة على الخريطة؟
- أحدد عدد القارات من خلال الصورة، وأبين أسمائها.

2 - أنمي معارفي

أ - أقرأ:

تتكون الكرة الأرضية من مسطحات مائية ضخمة تعرف بالمحيطات تتخللها كتل يابسة كبيرة تشكل مجتمعة ما يسمى بقارات العالم



تتفاوت هذه الكتل في المساحة فمنها ما هو كبير (قارة آسيا) تليها من حيث المساحة (قارة إفريقيا) ثم أوروبا وأمريكا وأستراليا التي تعتبر من أصغر القارات بالإضافة إلى القارة القطبية الجنوبية وتعرف القارة بأنها إحدى كتل اليابسة

الرئيسية على الأرض بما في ذلك الأراضي البرية و الرفوف القارية وتعني المناطق الضحلة المغمورة بالمياه ومن هنا تكون حافة الجرف القاري هي الحافة الحقيقية للقارة ويشمل الجرف القاري الجزر القريبة من القارة كجزر مدغشقر التي تعتبر جزءا من إفريقيا.

ج - أستنتج:

القارة هي مساحة واسعة من الأرض محاطة بالمحيطات، ويقسم بعض الجيولوجيين الكرة الأرضية إلى مناطق يابسة غير متساوية من حيث المساحة تشكل مجتمعة ما يعرف بقارات العالم وهذه القارات هي: آسيا، وإفريقيا، وأروبا، وأمريكا، وأستراليا، بالإضافة إلى القارة القطبية الجنوبية وتعتبر آسيا أكبر قارات العالم وأستراليا أصغرها.

3 - أطبق

أ - أقم دَرْسِي

بينما كنت تراجع مع زميلك دروس مادة الجغرافيا إذ قرأت أن موريتانيا دولة من دول إفريقيا التي هي إحدى قارات العالم فسألك عن أسماء هذه القارات وعددها كما طلب منك أن تحدد له إلى أي القارات تنتمي الدول التالية: مصر وفرنسا والصين أجب زميلك انطلاقاً من دروسك السابقة.

ب - أبحث:

القارة: جزء واسع من الكرة الأرضية يكون محاطاً بالمحيطات أو المحيطات والبحار من جميع الجهات مثل قارة إفريقيا... الخ.

أكمل من خلال البحث ما لم يدونه زميلك في هذه الخلاصة:

يضم الاتحاد الأوروبي أغلبية الدول الأوروبية التي تربطها علاقات التكامل الاقتصادي فيما بينها وتستخدم عملة موحدة هي اليورو ومن أهم الدول الصناعية الأوروبية فرنسا وبريطانيا و.....
وتربط موريتانيا بدول أوروبا الغربية علاقات ثقافية وتجارية وسياسية ففي مجال التجارة تصدر موريتانيا إلى هذه الدول..... وتستورد منها الأغذية والملابس والسيارات والآليات المختلفة.

المحيطات

1- الألفظ:

- ما المحيطات الظاهرة في الصورة؟



- يظهر من خلال الصورة وجود إفريقيا بين محيطين ما هما؟
- هل للمحيطات نفس المساحة والحجم؟

2- أنمي معارفي

أ- أقرأ:

تشكل المسطحات المائية من بحار، ومحيطات، وغيرها نحو 71% من مساحة الكرة الأرضية، وتساعد هذه المحيطات على إبقاء مناخ الأرض صحياً، وذلك بتنظيم درجة حرارة الهواء وتوفير الرطوبة للأمطار، وتختلف المحيطات عن بعضها البعض من حيث المساحة والعمق والحياة البحرية، وتقسّم المحيطات جغرافياً إلى خمس محيطات هي:

المحيط الهادي ويتميز بكونه أكبر مسطح مائي على وجه الأرض والمحيط الأطلنسي الذي يحتل المرتبة الثانية بين المحيطات من حيث المساحة ويعد طريقاً رئيساً للتجارة بفضل موقعه المتميز والمحيط الهندي وهو ثالث أكبر محيط على الأرض ويلعب دوراً مهماً في التأثير على المناخ، والمتجمد الشمالي هو أصغر محيطات العالم، والمتجمد الجنوبي الذي يحيط بالقارة القطبية الجنوبية.

ب - أناقش:

- أيهما أكبر مساحة على سطح الأرض اليابسة أم الماء؟
- كم يبلغ عدد المحيطات في العالم؟
- ما أصغر هذه المحيطات؟

ج - أستنتج:

يحتل الماء الجزء الأعظم من سطح الأرض حيث يمثل 71 % من مساحة سطح الكرة الأرضية تقريبا وتعتبر المحيطات هي الجزء الأكبر والأعظم من الغلاف المائي ويبلغ عددها خمس محيطات وهي: المحيط الهادي والمحيط الأطلسي والمحيط الهندي والمتجمد الشمالي والمتجمد الجنوبي وتساعد هذه المحيطات على إبقاء مناخ الأرض صحيا، وذلك بتنظيم درجة حرارة الهواء وتوفير الرطوبة للأمطار.

3 - أطبق

أ - أقومُ دَرَسِي

تمهيدا لمسابقة دخول السنة الأولى إعدادية نظمت مدرستك مسابقة في مادة الجغرافيا طلب منظموها من التلاميذ تقديم معلومات عن المحيطات وأهميتها بالنسبة للحياة على الأرض مع ذكر أعدادها وأسمائها. حرر ملخصا تبين فيه للمنظمين المعلومات التي يطلبونها.

ب - أبحث:

سطح البحر: هو المستوى الذي تصل إليه مياه البحار والمحيطات عند الشواطئ

أتمم من خلال البحث المعلومات التالية مع رسم خريطة الدول العربية:
الدول العربية عبارة عن مجموعة من الدول لها نفس اللغة والدين والتاريخ وقد انتظمت في منظمة تسمىتأسست سنة19م في القاهرة ومن أهم أهداف هذه المنظمة

البحار وبعض الأنهار

1 - الألاحظ:

- أنظر الصور و أميز صورة النهر.



- اذكر رقم الصورة التي تبين التقاء البحر بالنهر.
- أرتب من الأكبر إلى الأصغر البحار والمحيطات والأنهار.

2 - أنمي معارفي

أ - أقرأ:

لا يمكن حصر عدد البحار في العالم، نظراً لعدم وجود تعريف علمي واضح لكلمة بحر ولكن على الرغم من ذلك، تُشير بعض التصنيفات إلى وجود ما يُقارب 50 بحراً حول العالم، في حين تشير تصنيفات أخرى إلى عدد يفوق ذلك بكثير وتختلف البحار عن بعضها بشكل كبير من حيث الحجم، ودرجة الحرارة، والموقع، والنظام البيئي ومن أشهرها:



البحر الأبيض المتوسط الذي يشكل جزءاً من المحيط الأطلسي وهو أكبر بحار العالم، ويعد البحر الأحمر والخليج العربي مدخليين لمياه المحيط الهندي.

ومنهما البحر الأسود والخليج العربي والبحر الميت وهو عبارة عن بحيرة ملحية مغلقة وهو الأصغر بين جميع البحار.

أما الأنهار والتي هي مجاري مائية تتميز بعذوبة الماء الناتج عن مياه الأمطار أو ينابيع عيون الأرض فمن أشهرها نهر دجلة والفرات ونهر النيل ونهر السنغال وهو من بين أطول الأنهار الإفريقية.

ب - أناقش:

- ما البحار؟
- بم يتميز البحر عن النهر؟
- عدد بعض البحار مع ذكر النهر الذي يوجد في بلادنا؟

ج - أستنتج:

البحار مسطحات مائية مالحة تغطي أجزاء كبيرة من سطح الأرض، وتقع عادة في المناطق التي تتلاقى فيها المحيطات مع اليابسة، و من أشهرها البحر الأبيض المتوسط والبحر الأحمر والخليج العربي، وإلى جانب البحار توجد مسطحات مائية أصغر منها تعرف بالأنهار من أهمها نهر دجلة والفرات ونهر النيل ونهر السنغال الذي يجري في بلادنا.

3 - أطبق

أ - أقومُ دَرَسِي

طلب منك أخوك المساعدة في الإجابة على بعض الأسئلة التي وضعها عليه أحد مقدمي برامج الإذاعة المدرسية وهي أن يذكر له بعض البحار المشهورة والأنهار الموجودة بالوطن العربي، وأن يبين له أهم مميزات النهر اكتب ورقة لأخيك تجيب فيها على ما طلب منه المقدم.

ب - أبحث:

الخليج : ماء يكون داخل اليابس بينما الجزيرة يابس داخل الماء

أتمم من خلال البحث المعلومات التالية مع رسم خريطة قارة إفريقيا:
تنقسم المساحة اليابسة من الأرض إلى خمس قارات هي إفريقيا وأستراليا ووتعتبر قارة.....من أكبر هذه القارات.

المضايق والممرات البحرية

1- الألفاظ:



- ما اسم المضيق البحري الموجود بالصورة؟
- يفصل مضيق هرمز بين خليجين ما هما؟
- من خلال الصورة ما الدول الأقرب لمضيق هرمز؟

2 - أنمي معارفي

أ - أقرأ:

المضيق عبارة عن ممر بحري يصل بين مسطحين مائيين، ويفصل جزئين من اليابسة أو أكثر عن بعضهما. وقد يضيق حتى يصل لبضعة أمتار وقد يتسع عرضه ليصل إلى 32 كيلومتراً أو أكثر، وتؤدي المضايق إلى تقصير المسافات بين الدول. وقد كانت معظم المضايق في وقت ما مراكز كبيرة لمرور التجارة العالمية، مثل مضيق جبل طارق الذي يقع بين شبه جزيرة أيبيريا شمالاً وشمال إفريقيا جنوباً، ويصل بين مياه البحر الأبيض المتوسط ومياه المحيط الأطلسي.



مضيق باب المندب: هو ممر مائي يصل البحر الأحمر بخليج عدن وبحر العرب.

مضيق هرمز: هو أحد أهم الممرات المائية في العالم، وأكثرها حركة للسفن، يقع في منطقة الخليج العربي.
قناة السويس: هي ممر مائي صناعي بين مدينة بورسعيد (مصر) على البحر الأبيض المتوسط، ومدينة السويس (مصر) على البحر الأحمر.

ب - أناقش:

- ما هو المضيق البحري؟
- هل من الممكن أن يكون المضيق البحري عدة أمتار؟
- اذكر بعض المضائق البحرية.

ج - أستنتج:

المضيق عبارة عن ممر بحري يصل بين مسطحين مائيين، ويفصل جزئين من اليابسة أو أكثر عن بعضهما. وقد يضيق حتى يصل لبضعة أمتار وقد يتسع عرضه ليصل إلى 32 كيلومتراً أو أكثر ومن أشهر المضائق البحرية مضيق جبل طارق ومضيق باب المندب ومضيق هرمز وقناة السويس بمصر.

3 - أطبق

أ - أقومُ دَرَسِي

تجري وزارة الصيد مسابقة سنوية لاختيار بعض قباطنة السفن البحرية وكان من ضمن الأسئلة سؤال يقول، اذكر بعض المضائق البحرية الشهيرة مع تعريف المضيق البحري. اجب على هذا السؤال كي تفوز في المسابقة.

ب - أبحث:

الأساطيل : جمع أسطول وهو مجموعة من السفن البحرية التي تؤدي مهمة مشتركة.

ابحث وأكمل :

تتكون الكرة الأرضية من يابسة وماء ويشكل الماء معظم مساحتها وتنقسم مساحة اليابس منها إلى ستة قارات هي: القارة الإفريقية.....
و..... كما توجد بالكرة الأرضية خمس محيطات هي: المحيط الهادئ
و.....
.....

الفهرس

- ما القارة انطلقا مما درستم؟

الصفحة	العنوان
3	تقديم
5	المقدمة
7	الوحدة الأولى موريتانيا والدول المجاورة
9	اتحاد المغرب العربي
12	موريتانيا ومؤسسات الاتحاد المغربي
14	منظمة استثمار نهر السنغال
16	الدور الاقتصادي لمنظمة استثمار نهر السنغال
19	الوحدة الثانية موريتانيا في العالم العربي
21	الجامعة العربية
23	الوحدة الثالثة موريتانيا في إفريقيا
25	الاتحاد الإفريقي
27	اللجنة المشتركة لمكافحة آثار الجفاف في الساحل
29	الوحدة الرابعة موريتانيا في العالم
31	منظمة التعاون الإسلامي
33	التمييز بين المنظمات والتجمعات من خلال أدوارها
35	الوحدة الخامسة موريتانيا والدول الصناعية
37	موريتانيا والدول الصناعية الأوروبية
39	موريتانيا والدول الصناعية في أمريكا الشمالية
41	موريتانيا وبعض الدول الصناعية الشرقية
43	الوحدة السادسة القارات والمحيطات والأنهار
45	القارات
47	المحيطات
49	البحار وبعض الأنهار
51	المضايق والممرات البحرية
53	الفهرس