



الجمهورية الإسلامية الموريتانية
شرف - إخاء - عدل



وزارة التهذيب الوطني وإصلاح النظام التعليمي
المعهد التربوي الوطني

كتاب الجغرافيا للسنة الثالثة الإعدادية

لجنة التأليف

تسلم / المسومي

محمد المختار / عيده

محمد / أدو

مفتشة تعليم ثانوي

مفتش تعليم ثانوي

مستشار تربوي

المفتشية العامة للتهذيب الوطني

المعهد التربوي الوطني

المعهد التربوي الوطني

2024

كتاب الجغرافيا للسنة الثالثة الإعدادية





IPN

2

كتاب الجغرافيا للسنة الثالثة الإعدادية



بسم الله الرحمن الرحيم

تقديم

يسرنا- إخوتي الأساتذة، أبنائي التلاميذ- أن نقدم لكم كتاب الجغرافيا للسنة الثالثة من المرحلة الإعدادية، والذي يتكون من وحدات ثلاث، ليحقق غايات المراجعة الجديدة للبرنامج 2020، والهادفة إلى إرساء نظام تربوي فعال، قوامه إشراك التلميذ والأستاذ في إنتاج المعرفة. وننبه إلى أن العناية بالكتاب نظيفا سليما قيمة حضارية يجب عليكم- أعزائي التلاميذ- أن تتبها وإليها، فتعطوه ما يستحق من عناية، وتمنحوه صداقتكم، فهو أعز صديق.

وفي الأخير، نشكر كل من ساهم في هذا العمل من قريب أو بعيد.

- المؤلفون:

محمد / أذو
مستشار تربوي
المعهد التربوي الوطني
محمد المختار / عيده
مفتش تعليم ثانوي
المعهد التربوي الوطني
- تسلم / المسومي
مفتشة تعليم ثانوي
المفتشية العامة للتهذيب الوطني

- المدققون:

د/ سيدي محمد/ سيدنا
محمد المختار/ اندكسعد/ آكاه
رئيس قسم النشر بالمعهد التربوي الوطني.
أستاذ بالمعهد التربوي الوطني.

- تصميم و إخراج:

نجدي / سيد أحمد لجيد
مصممة بالمعهد التربوي الوطني.

المديرة العامة

هدى / باباه

كتاب الجغرافيا للسنة الثالثة الإعدادية



IPN



مقدمة

أعزاءنا الأساتذة؛

ها نحن بعون الله وتوفيقه نضع بين أيديكم كتاب الجغرافيا للسنة الثالثة الإعدادية، وقد حرصنا خلال تحرير وحداته اعتماد الرؤية الشمولية التي تم على أساسها كتابة البرنامج الجديد 2020 مع الحرص على تبسيط المفاهيم واعتماد وسائل إيضاح (خرائط، صور، جداول، مخططات...) من أجل تقريب الواقع الحقيقي من التلميذ مع التركيز دائما على ما يخص موريتانيا لإثراء معلومات التلميذ وتقريب الصورة أكثر.

وفي إطار إعداد هذا الكتاب تم تقديم المعارف العلمية النظرية مع التركيز على الجانب المهاري لتنمية قدرات التلميذ من خلال التطبيق على واقعه المحلي، وذلك من خلال الدعامات والأسئلة التقويمية التي نسعى من ورائها إلى معرفة درجة استيعابه للمحتويات العلمية الواردة في الكتاب سبيلا لتوظيفها في حياته اليومية.

ويتناول هذا الكتاب الجغرافيا الإقليمية ضمن ثلاث وحدات هي:

- الوحدة الأولى: مفاهيم في الجغرافيا.

- الوحدة الثانية: قارات العالم (المظاهر الطبيعية و البشرية).

- الوحدة الثالثة: نماذج من الأنشطة الاقتصادية في القارات.

ويسر المعهد التربوي الوطني أن يستقبل ملاحظاتكم واقتراحاتكم - السادة الأساتذة - حول هذا العمل الذي لا يخلو من نواقص وذلك لأخذها بعين الاعتبار في الطبعة القادمة.

المؤلفون



IPN

6

كتاب الجغرافيا للسنة الثالثة الإعدادية



محتويات الكتاب

الوحدة الأولى: مفاهيم جغرافية

- 1 - مفاهيم في الجغرافيا الإقليمية.
- 2 - مفاهيم في الجغرافيا الاقتصادية.
- 3 - مفاهيم في الجغرافيا السياسية.

الوحدة الثانية: قارات العالم (المظاهر الطبيعية والبشرية)

- 1 - المظاهر الطبيعية والبشرية في قارة افريقيا.
- 2 - المظاهر الطبيعية والبشرية في قارة أمريكا.
- 3 - المظاهر الطبيعية والبشرية في قارة آسيا.
- 4 - المظاهر الطبيعية والبشرية في قارة أوروبا.
- 5 - المظاهر الطبيعية والبشرية في قارة أوقيانوسيا.

الوحدة الثالثة: نماذج من الأنشطة الاقتصادية في القارات

- 1 - الأنشطة الاقتصادية في السودان ونيجيريا.
- 2 - الأنشطة الاقتصادية في البرازيل والولايات المتحدة الأمريكية.
- 3 - الأنشطة الاقتصادية في ماليزيا واليابان.
- 4 - الأنشطة الاقتصادية في فرنسا وألمانيا.
- 5 - الأنشطة الاقتصادية في أستراليا ونيوزيلاندا.



IPN







مفاهيم في الجغرافيا الإقليمية

الدرس الأول

الأهداف الخاصة

يتوقع في نهاية الدرس أن يكون التلميذ قادرا على:

- 1 تحديد مفهوم الجغرافيا الإقليمية.
- 2 تحديد مفهوم الإقليم .
- 3 التمكن من معرفة أنواع الأقاليم من خلال مخطط.
- 4 تحديد مفهوم القارة.



العرض



أولا: مفهوم الجغرافيا الإقليمية والإقليم

تأمل الخريطة، واقرأ النص، ثم استنتج

النشاط الأول

الخريطة: إقليم أوروبا



1- مفهوم الجغرافيا الإقليمية:

الجغرافيا الإقليمية فرع من فروع الجغرافيا تشمل دراستها كل الظواهر الطبيعية والبشرية معا في إطار مساحة معينة من سطح الأرض أو وحدة مكانية واحدة من الإقليم. تدرس الجغرافيا الإقليمية الإقليم كجزء من سطح الأرض يتميز بظواهر مشتركة ويتجانس داخلي يميزه عن باقي الأقاليم، بحيث يتم تناول الظواهر الطبيعية والبشرية في هذا الإقليم بقصد فهم شخصيته وعلاقاته مع باقي الأقاليم، والخطوة الأولى لدراسة ذلك هي تحديد الإقليم على أسس واضحة، وقد يكون ذلك على مستوى القارة الواحدة أو الدولة الواحدة أو على مستوى كيان إداري واحد داخل الدولة، ويتم تحديد ذلك على أساس عوامل مشتركة طبيعية وبشرية وحضرية.

وللجغرافيا الإقليمية أهمية تتجلى في :

* التركيز على الربط بين الظواهر الجغرافية المختلفة لإبراز العلاقة المركبة بين الإنسان والبيئة في الإقليم.

* إبراز شخصية الإقليم وأهميته السياسية والاقتصادية والاجتماعية

* إبراز أوجه الشبه أو الاختلاف بين إقليم وآخر ومدى الاستفادة من ذلك التباين أو التشابه.

2 - مفهوم الإقليم

الإقليم هو مساحة من الأرض تتسم بخصائص محددة طبيعية وبشرية تميزه عن غيره من الأقاليم الأخرى.

وقد يكون الإقليم جزء من دولة وقد يشمل مساحة واسعة من أراضي عدة دول مختلفة، كما قد يشمل جزء من قارة وأحيانا قد تشغل أبعاده مناطق مختلفة في أكثر من قارة، ومن هنا فإن مساحة الأقاليم تتفاوت.



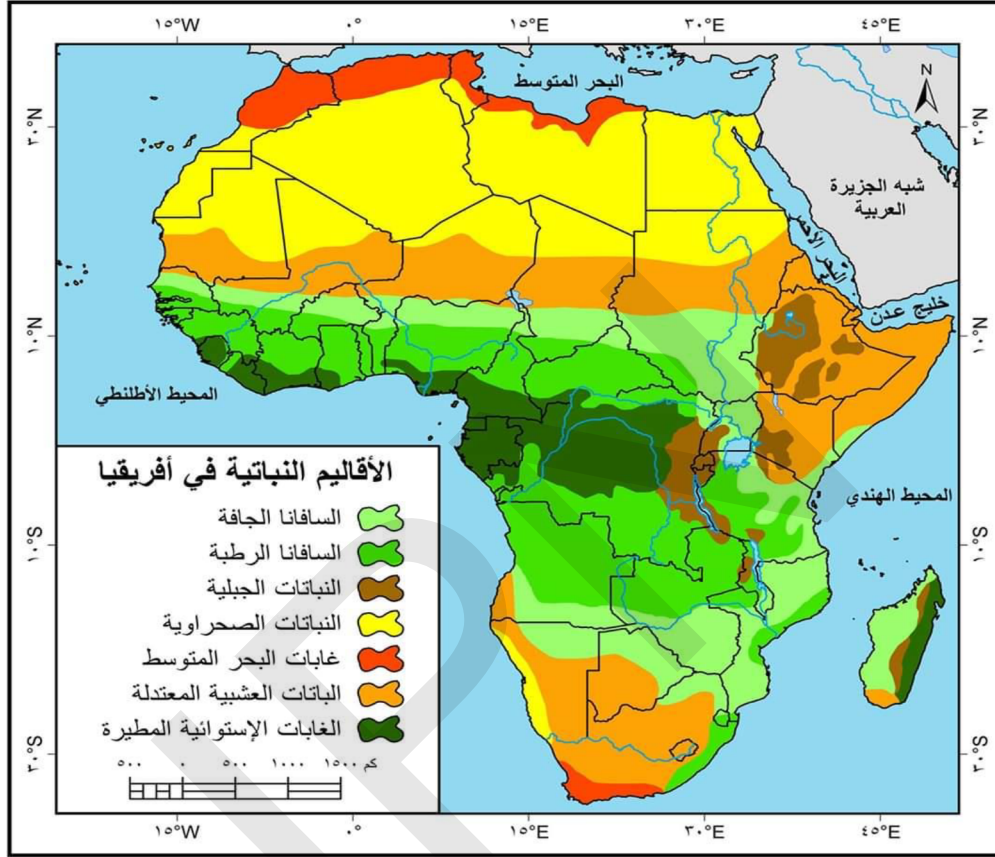
أن الجغرافيا الإقليمية فرع من فروع الجغرافيا تدرس كل الظواهر الطبيعية والبشرية في إطار مساحة معينة من الأرض، أما الإقليم عند الجغرافيين فهو مساحة أرضية تتميز بخصائص طبيعية وبشرية تميزه عن غيره من الأقاليم الأخرى.

ثانيا: أنواع الأقاليم ومفهوم القارة

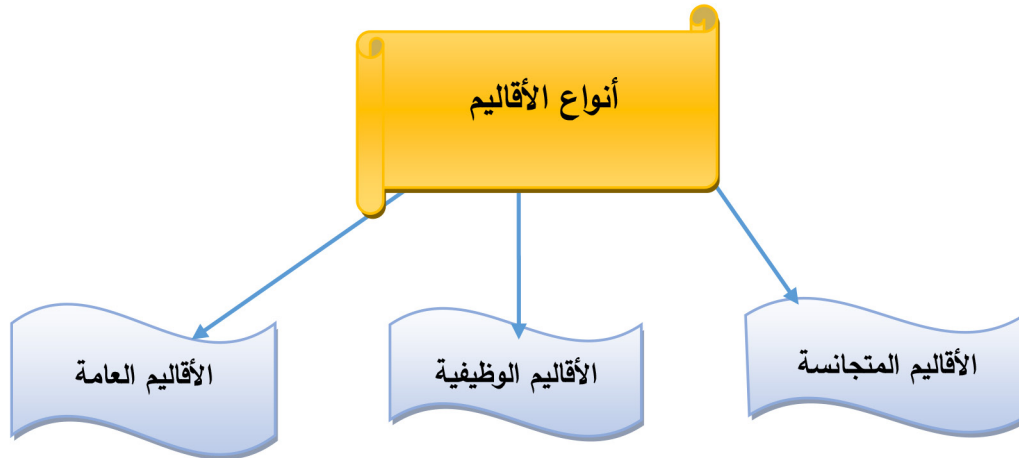
النشاط الثاني

تأمل الخريطة (1)، (2)، (3)، (4)، والمخطط، وقرأ النص، ثم استنتج

الخريطة (1): الأقاليم النباتية في إفريقيا



- أنواع الأقاليم المخطط: أنواع الأقاليم



قبل عرض أنواع الأقاليم، لابد من التعرف على المعايير التي على أساسها يتم تصنيف

الأقاليم الجغرافية ومن هذه المعايير:
المعايير الطبيعية وتشمل :

- **السطح:** إن نوعية السطح السائد في منطقة ما يعد عاملا مهما في تحديد الأقاليم من خلال مظاهر السطح من تضاريس مختلفة جبال وسهول وهضاب أو نوعية التربة (تربة فيضيه أو صحراوية) أو تنوع الغطاء النباتي بين أشجار وحشائش شوكية.
- **المناخ:** إن تنوع المناخ في منطقة جغرافية يساهم في تحديد الإقليم وخصائصه من خلال درجة الحرارة حيث نجد مناطق باردة وأخرى حارة أو التساقطات بسبب اختلاف كميتها من منطقة إلى أخرى.

المعايير البشرية:

تتمثل في اختلاف توزيع السكان الذي يختلف من إقليم إلى آخر، حيث نجد أن السكان يتركزون في الإقليم الذي تتوفر فيه جميع متطلبات الحياة.
المعايير الاقتصادية:

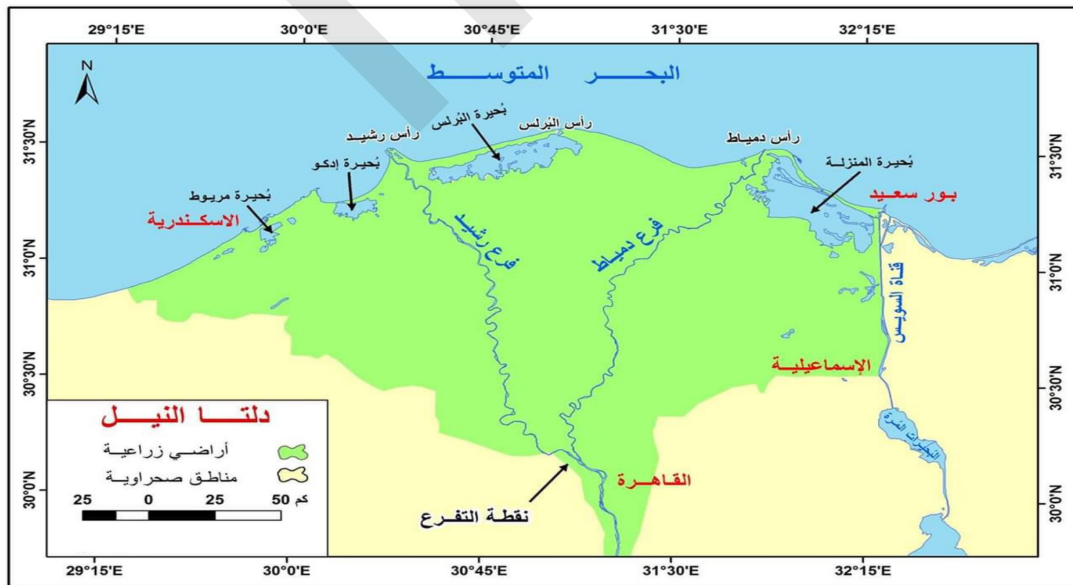
تتمثل في نوعية النشاط الاقتصادي الذي يمارسه الإنسان من زراعة وصناعة وخدمات، وبالتالي يتنوع المظهر العام للأقاليم تبعا للعوامل الجغرافية التي تشكله. ويمكن تقسيم الأقاليم إلى ثلاثة أنواع:

أ - الإقليم المتجانس:

عبارة عن منطقة تتميز بوجود صفة مميزة لها أو تتوفر فيها مجموعة من الخصائص لا تتوفر في الأقاليم الأخرى مثل الأقاليم المناخية والتضاريسية والنباتية.

ب - الإقليم الوظيفي:

الخريطة (2): إقليم دلتا النيل



هي الأقاليم التي يعتمد تحديدها من خلال نوع العلاقات الوظيفية المتميزة، حيث أن تنوع الظواهر الطبيعية والبشرية يدفع إل نوع من العلاقات الوظيفية المكانية.



ومن الأقاليم الوظيفية وأبرزها إقليم المدن وهو الذي يقوم على العلاقات المتبادلة بين المدينة ومحيطها من قرى ومدن صغيرة، وبما أن العلاقات تبادلية فإن الإقليم المحيط بالمدينة خصوصا المناطق الريفية يمد المدينة المركزية بالاحتياجات الرئيسية من الغذاء والأيدي العاملة، ومن الأمثلة على الأقاليم الوظيفية إقليم سهول الأطلس في المغرب وإقليم دلتا النيل.

ج - الإقليم العام:

الخريطة (3): إقليم الشرق الأوسط



يمتد هذا النوع من الأقاليم على مساحات شاسعة تضم عدة دول تشترك في التاريخ والحضارة مثل إقليم الشرق الأوسط وإقليم أوروبا وإقليم جنوب شرق آسيا.

2 - مفهوم القارة:

الخريطة (4): قارات العالم



القارة مساحة كبيرة من اليابس تضم بداخلها عدة دول تفصل بينها المحيطات والبحار وأحيانا يتصل بعضها ببعض عن طريق اليابس. يوجد على الكرة الأرضية سبع قارات تمثل مساحتها نسبة من اليابسة نرتبها حسب المساحة:

- قارة آسيا: تقدر مساحتها ب 44,5 مليون كلم مربع تقريبا.
- إفريقيا: تأتي في المرتبة الثانية بعد آسيا من حيث المساحة إذ تبلغ مساحتها حوالي 30,5 مليون كلم مربع.
- أمريكا الشمالية: 24,5 مليون كلم².



- أمريكا الجنوبية: 17,8 مليون كلم².

- القارة القطبية الجنوبية: 14,2 مليون كلم مربع.

- أوروبا: 10,5 مليون كلم².

- أوقيانوسيا: 8,5 مليون كلم مربع.



أن الإقليم ينقسم إلى ثلاثة أنواع هي الأقاليم المتجانسة، الأقاليم الوظيفية، الأقاليم العامة الكبرى، وأن القارة مساحة كبيرة من اليابس تفصل بينها المحيطات والبحار مثل قارة آسيا.

الملخص

الجغرافيا الإقليمية فرع من فروع الجغرافيا تدرس كل الظواهر الطبيعية والبشرية في إطار مساحة معينة من الأرض، أما الإقليم عند الجغرافيين فهو مساحة أرضية تتميز بخصائص طبيعية وبشرية تميزه عن غيره من الأقاليم الأخرى. وتنقسم الأقاليم إلى ثلاثة أنواع هي الأقاليم المتجانسة مثل الأقاليم المناخية، والأقاليم الوظيفية مثل إقليم دلتا النيل، والأقاليم العامة مثل إقليم الشرق الأوسط. أما القارة فهي مساحة كبيرة من اليابس تفصل بينها المحيطات والبحار، وقارات العالم هي: قارة آسيا، إفريقيا، أوروبا، أمريكا الشمالية، الجنوبية، أوقيانوسيا، القارة القطبية الجنوبية.

نشاط سياقي

اكتب تقريراً عن الأقاليم المناخية في موريتانيا، مدعماً تقريرك بخريطة، واعرضه على زملائك في الفصل للنقاش.

أسئلة للتقويم

1 عرف الجغرافيا الإقليمية.

2 اختر الإجابة الصحيحة:

* منطقة متشابهة في خصائصها المناخية من حرارة ورطوبة وأمطار ورياح تشير إلى مفهوم:
الإقليم السكاني - الإقليم المناخي - الإقليم الصناعي.

* أكبر قارة من حيث المساحة هي: قارة أوروبا - قارة إفريقيا - قارة آسيا؟

3 عدد أنواع الأقاليم.

4 ما هي القارة؟



مفاهيم في الجغرافيا الاقتصادية

الدرس الثاني

أهداف الدرس

- يتوقع في نهاية الدرس أن يكون التلميذ قادرا على:
- 1 معرفة مفهوم الجغرافيا الاقتصادية و مجالاتها.
 - 2 تحديد الموارد الاقتصادية وأهميتها.
 - 3 التمكن من توضيح النشاطات الاقتصادية على شكل مخطط.



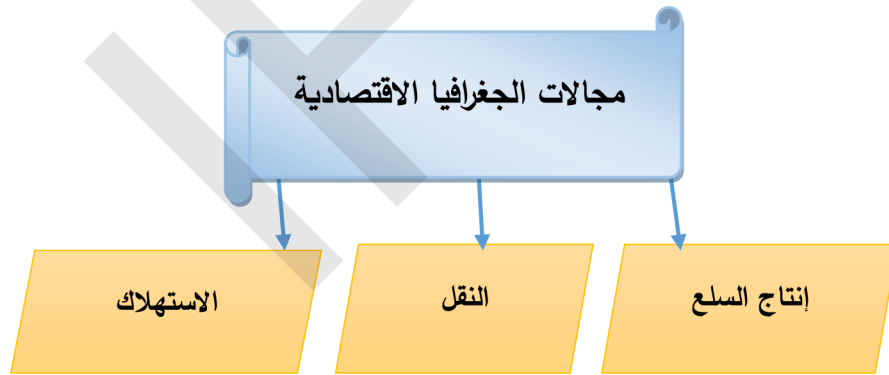
العرض



أولا: مفهوم الجغرافيا الاقتصادية والموارد الاقتصادية

النشاط الأول تأمل المخطط (1)، (2) و اقرأ النص، ثم استنتج

المخطط (1): مجالات الجغرافيا الاقتصادية



1 - مفهوم الجغرافيا الاقتصادية

تعددت التعريفات التي تناولت الجغرافيا الاقتصادية بفعل عدم تمكن الجغرافيين من إعطاء تعريف جامع لها، ومن هذه التعريفات:

- العلم الذي يبحث في أوجه النشاط الاقتصادي المختلفة التي ترتبط بإنتاج وتوزيع واستهلاك موارد الثروة الاقتصادية وعلاقة ذلك بالمكان.
- العلم الذي يدرس توزيع الأنشطة الإنتاجية على سطح الأرض.
- العلم الذي يدرس اختلافات سطح الأرض، وأثر ذلك في النشاط البشري، وعلاقته بالإنتاج والتبادل والاستهلاك.



• العلم الذي يهتم بدراسة استغلال الإنسان للموارد الطبيعية للأرض وإنتاج السلع المختلفة فضلا عن الخدمات.

وانطلاقاً من التعاريف السابقة فإن مضمون الجغرافيا الاقتصادية يتركز على حلقات ثلاثة مترابطة ومتكاملة وهي:

- إنتاج مختلف المواد والسلع والخدمات.
- نقل وتوزيع وتبادل تلك السلع والمواد المختلفة.
- أنماط ومستويات الاستهلاك لذلك الإنتاج.

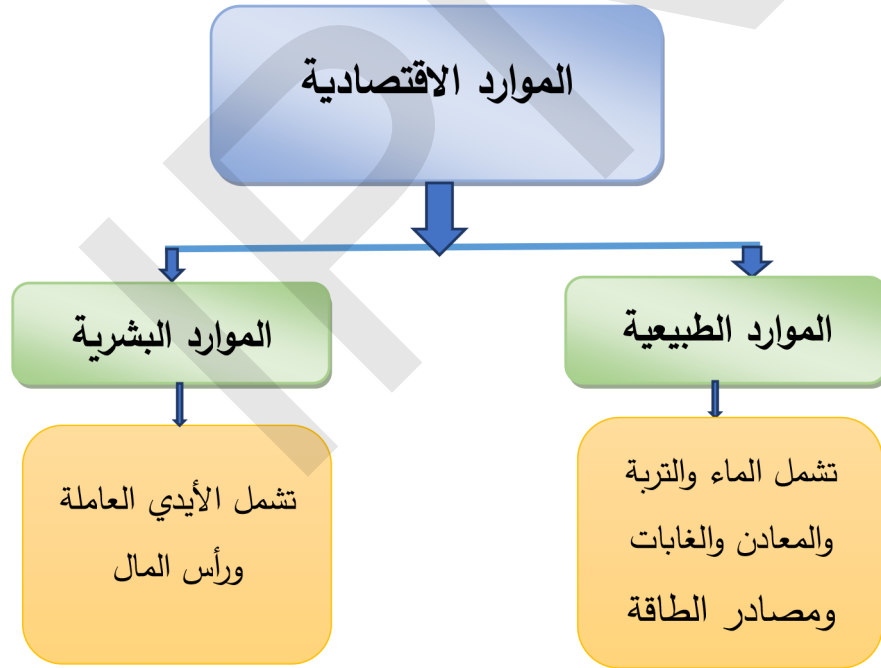
أهداف الجغرافيا الاقتصادية :

للجغرافيا الاقتصادية أهداف متعددة منها:

- معرفة التوزيع الجغرافي للأنشطة الاقتصادية على سطح الأرض.
- معرفة أثر الأنشطة الاقتصادية على توزيع السكان.
- تصنيف الأنشطة التي يمارسها الإنسان وتحديد العلاقة بينها وبين المكان.

2- الموارد الاقتصادية:

المخطط (2): الموارد الاقتصادية



الموارد الاقتصادية هي كل ما يمكن أن يستغله الإنسان من الطبيعة لإشباع حاجاته، فهي ذات منفعة كما أن لها تكلفة.

مصادر الموارد الاقتصادية: تشمل المصادر الطبيعية والبشرية .

أ - المصادر الطبيعية مثل الماء والتربة والغابات

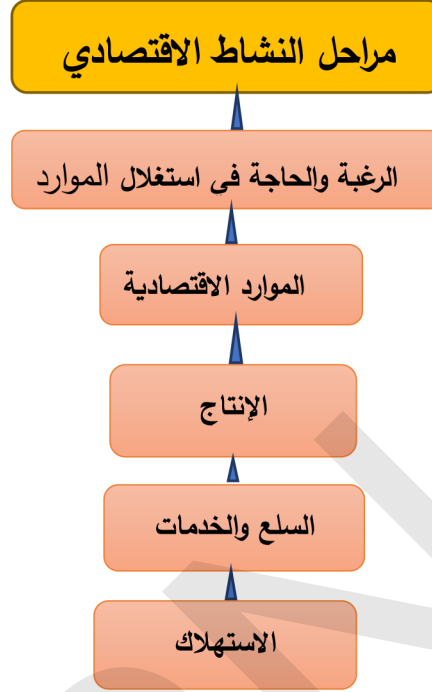
ب - المصادر البشرية مثل الأيدي العاملة ورأس المال.

ثانياً: الأنشطة الاقتصادية

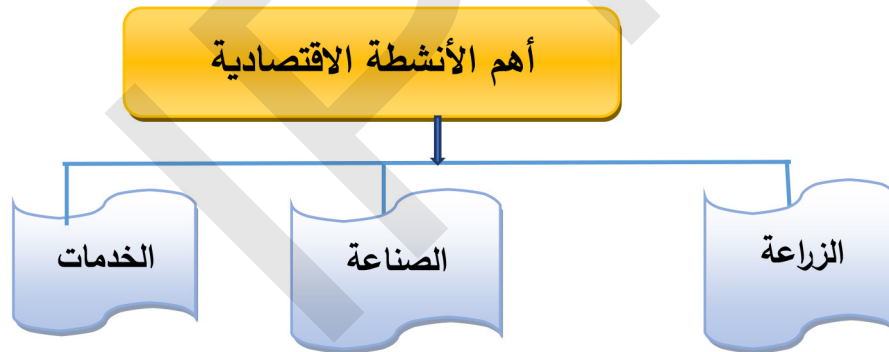
تأمل المخطط (1)، (2)، وقرأ النص، ثم استنتج

النشاط الثاني

المخطط (1): مراحل النشاط الاقتصادي



المخطط (2): الأنشطة الاقتصادية



النشاط الاقتصادي: هو الجهد أو المجهود الفردي أو الجماعي المبذول بهدف تحقيق وإشباع الحاجات المتعددة والمتزايدة، ويتمثل هذا النشاط في الإنتاج والمبادلة والاستهلاك ويمر النشاط الاقتصادي بمراحل هي:

* الحاجة والرغبة في استغلال هذه الموارد.

* استغلال الموارد ويتطلب وجود رأس المال، المواد الأولية واليد العاملة.

* إنتاج السلع والخدمات تلبية للحاجات الأساسية وغير الأساسية.

* الاستهلاك ويكون حسب الحاجة والدخل.

أنواع الأنشطة الاقتصادية:

تنقسم الأنشطة الاقتصادية إلى ثلاثة أنواع رئيسية هي:
القطاع الأول: يضم الزراعة والرعي والغابات وصيد الأسماك.

القطاع الثاني: يشمل التعدين والصناعة وإنتاج الطاقة.

القطاع الثالث: يشمل الخدمات كالتجارة والنقل والتعليم.

وللأنشطة الاقتصادية أهمية كبرى منها:

* دعم اقتصاد واستقرار الدولة.

* رفع مستوى دخل السكان ورفاهيتهم.

* توفير الحاجات الضرورية للإنسان.



أن الجغرافيا الاقتصادية فرع من فروع الجغرافيا البشرية يهتم بالإنتاج والاستهلاك والخدمات وأن الموارد الاقتصادية هي كل ما يستغله الإنسان من الطبيعة لإشباع حاجاته، وأن النشاط الاقتصادي هو سعي الفرد أو مجموعة من الأفراد لإشباع حاجاتهم الاقتصادية من طعام ولباس وسكن.

الملخص:

- الجغرافيا الاقتصادية: فرع من فروع الجغرافيا البشرية يهتم بالموارد والأنشطة الاقتصادية.

- الموارد الاقتصادية: هي كل ما يستغله الإنسان من الطبيعة وتنقسم إلى:

موارد طبيعية وهي: المياه، التربة، الغابات، المعادن، مصادر الطاقة ومصادر بشرية هي اليد العاملة التي تمارس أنشطة اقتصادية خدمة للسكان.

الأنشطة الاقتصادية: هي الجهد الذي يبذله الإنسان لتلبية حاجاته من خلال الإنتاج والاستهلاك والتوزيع.

نشاط سياقي:

اكتب تقريراً عن الأنشطة الاقتصادية في مدينتك، واعرضه على زملائك في الفصل للنقاش.

أسئلة للتقويم

- 1 عرف الجغرافيا الاقتصادية.
- 2 عدد الموارد الاقتصادية واذكر أهميتها.
- 3 وضح مراحل النشاط الاقتصادي في شكل مخطط.
- 4 وضح الأنشطة الاقتصادية في شكل مخطط.

مفاهيم في الجغرافيا السياسية

الدرس الثالث

أهداف الدرس

- 1 التعرف على مفهوم الجغرافيا السياسية و مجالاتها.
- 2 التعرف على مفهوم وأنواع الحدود السياسية.
- 3 معرفة مفهوم الدولة.
- 4 التمكن من تحديد أركان الدولة على شكل مخطط.



العرض



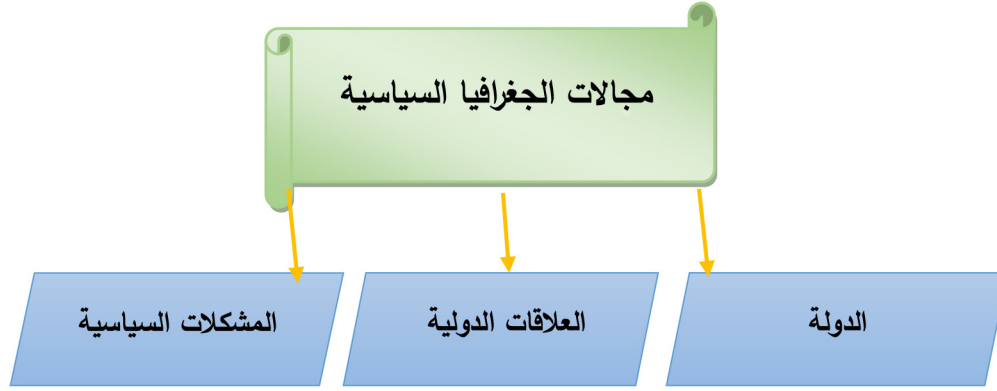
أولاً: مفهوم الجغرافيا السياسية والحدود السياسية

النشاط الأول تأمل الخريطة والمخطط (1)، (2)، وقرأ النص، ثم استنتج

خريطة العالم السياسية :



المخطط (1): مجالات الجغرافيا السياسية



1 - مفهوم الجغرافيا السياسية

فرع من فروع الجغرافيا البشرية يهتم بدراسة المقومات الطبيعية والبشرية للدولة وتنظيمها الداخلي وتأثير ذلك في قوتها السياسية وعلاقاتها الدولية.

2 - أهداف الجغرافيا السياسية

- دراسة الدولة من الجوانب الطبيعية والبشرية.
- تحديد عناصر الضعف والقوة للدول.
- التعرف بالمشكلات السياسية وتحليلها، واقتراح حلول مناسبة لها.

3 - مجالات الجغرافيا السياسية

- دراسة الوحدات السياسية (الدولة).
- العلاقات الدولية.
- المشكلات السياسية.

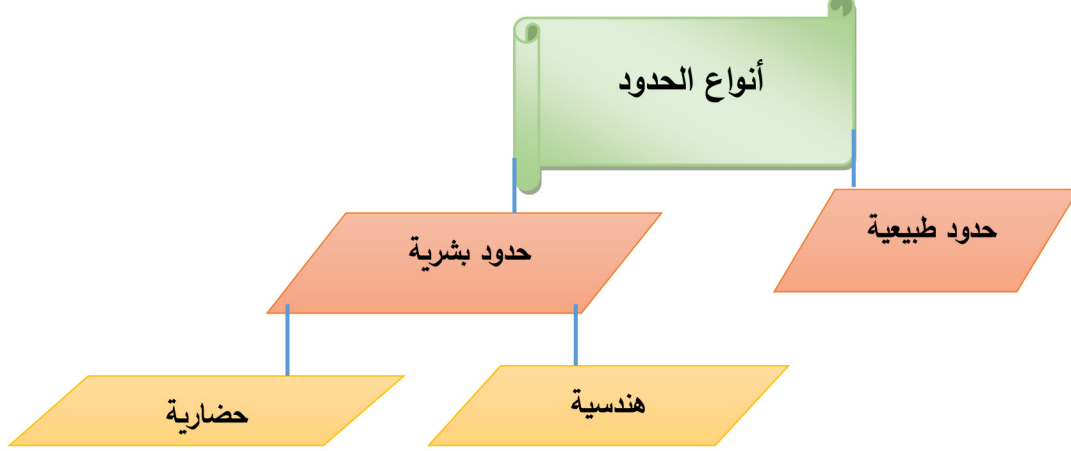
4 - الحدود السياسية

هي خطوط وهمية من صنع البشر لا وجود لها في الأصل، ويتم رسمها كخطوط متصلة أو متقطعة على الخرائط باستخدام الصور الجوية لتبين الأراضي التي تمارس فيها الدولة سيادتها والتي تتمتع فيها هذه الدولة وحدها بحق الانتفاع واستغلال الموارد السطحية والباطنية بالإضافة إلى المجال الجوي والبحري (المياه الإقليمية)، وتنتهي عند هذه الحدود سيادة الدولة، وتبدأ سيادة دولة أخرى، ولا بد أن يعترف بهذه الحدود من طرف الدول المجاورة والمجتمع الدولي.

العوامل المؤثرة على نشأة الحدود:

- * زيادة عدد السكان.
- * الحاجة إلى تنمية المناطق الهامشية واستثمارها.
- * المعاهدات المبرمة بين الدول.
- * الحروب.
- * الاستعمار.

أنواع الحدود المخطط (2): أنواع الحدود



- * **الحدود الطبيعية:** وهي الحدود السياسية التي يتم رسمها على أساس ظواهر طبيعية واضحة مثل الجبال، البحار، البحيرات، الأنهار.
- **الحدود البشرية:** وتنقسم إلى:
- **الحدود الهندسية:** وتعني تحديد موقع الدولة على أساس فلكي (دوائر عرض وخطوط طول)
- **الحدود الحضارية:** ترسيم الحدود على أساس اللغة والدين.



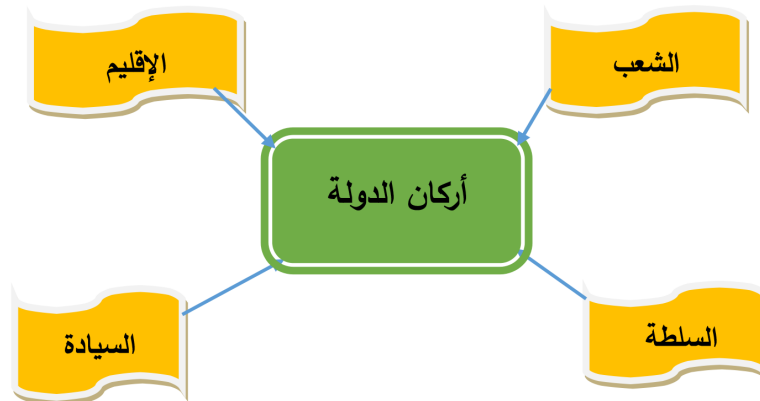
أن الجغرافيا السياسية فرع من الجغرافيا البشرية تهتم بدراسة المقومات الطبيعية والبشرية للدولة وتنظيمها الداخلي وعلاقاتها الخارجية وأن الحدود السياسية خطوط وهمية ترسم بموجب اتفاقيات دولية تحدد المجال الجغرافي وسلطة الدولة.

ثانياً: الدولة

تأمل المخطط (1)، (2)، وقرأ النص، ثم استنتج

النشاط الثاني

المخطط (1): أركان الدولة

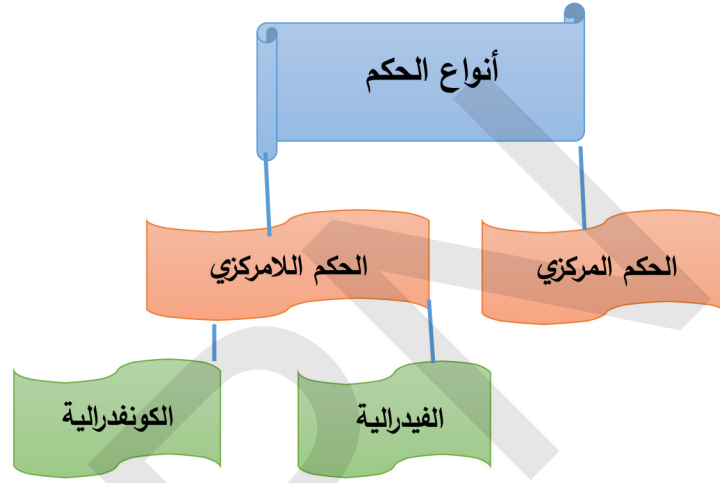


مفهوم الدولة في الجغرافيا السياسية:

الدولة: وحدة سياسية تشغل منطقة معينة من سطح الأرض، تضم سكانا دائمين تحكمها سلطة سياسية ذات سيادة (الحكومة) تدير شؤونها الداخلية والخارجية. الأمة: مجموعة من البشر يعيشون على الأرض لفترة زمنية طويلة وغالبا لهم أصل عرقي واحد ولا توجد سلطة حاكمة تدير شؤونهم وتجمع بينهم العادات والتقاليد والتراث والتاريخ واللغة غالبا مثل الأمة العربية. وللدولة مقومات هي: الأرض والإقليم والشعب والسلطة

أنواع الدول حسب الحكم السياسي:

المخطط (2): أنواع الحكم السياسي



الدول المركزية:

هي الدولة التي توجد فيها حكومة واحدة، ومجلس نيابي واحد، وتسيطر الحكومة المركزية على جميع السلطات المحلية في الأقاليم والمحافظات والمجالس البلدية، ومن الأمثلة على هذا النوع فرنسا.

الدول اللامركزية:

ينقسم نظام الحكم إلى فيدرالي وكونفدرالي، ويعتمد كل واحد منهم على حكومة مركزية، وحكومة أقاليم، ولكل منهما وظائف يحددها دستور الدولة، فيما يتعلق بأمور السيادة، وهي السياسة الخارجية والاقتصاد، والدفاع الخارجي (الجيش)، والأمن الداخلي (الشرطة)، ويضيف البعض الإعلام.

ومن أمثلة الدول الفيدرالية الولايات المتحدة الأمريكية والبرازيل، ومن الدول الكونفدرالية الإمارات العربية المتحدة، وتاريخيا هولندا 1589 - 1795، كما يمكن اعتبار الاتحاد الأوربي في الوقت الراهن شكلا من أشكال الكونفدرالية.



أن الدولة مساحة من الأرض يعيش عليها شعب تحكمه سلطة سياسية، ويوجد نوعان من الحكم هما الحكم المركزي والحكم اللامركزي.

الملخص

- الجغرافيا السياسية: فرع من فروع الجغرافيا البشرية تهتم بدراسة المقومات الطبيعية والبشرية في الدولة وتنظيمها الداخلي وتأثيرها في قوتها السياسية وعلاقتها الدولية.
- الحدود السياسية: وهي عبارة عن خطوط ترسم على الخريطة تحدد معالمها على الطبيعة من أجل تحديد الرقعة الأرضية التي تمارس عليها الدولة سيادتها وتستغل ثروتها وفقاً لاتفاقيات دولية ملزمة.

وتنقسم الحدود السياسية إلى نوعين هما الحدود الطبيعية والتي يتم فيها الترسيم على أساس ظواهر طبيعية، وأخرى بشرية لاعتبار الموقع الفلكي والعامل الحضاري (اللغة والدين).

أما الدولة فهي مساحة من الأرض يعيش عليها شعب تحكمه سلطة سياسية، ويوجد نوعان من الحكم هما الحكم المركزي والحكم اللامركزي.

نشاط سياقي

على ضوء دراستك للجغرافيا السياسية، اكتب تقريراً عن موقع موريتانيا ونوع الحكم، فيها مدعماً إجابتك بخريطة، واعرضه على زملائك للنقاش.

أسئلة للتقويم

- 1 عرف الجغرافيا السياسية.
- 2 حدد أنواع الحدود السياسية في شكل مخطط.
- 3 ما هي الدولة؟
- 4 حدد أركان الدولة على شكل مخطط.

مشروع صفي



ينجز التلاميذ خلال مراحل تنفيذ الوحدة الأولى مشروعاً صفياً وذلك تبعاً لخطوات تشمل المراحل التالية:



المشروع المقترح

إعداد تمثيلية يلعب التلاميذ فيها دور بعض مفاهيم الجغرافيا الإقليمية (الإقليم)، ومفاهيم في الجغرافيا الاقتصادية (الأنشطة الاقتصادية) ومفاهيم في الجغرافيا السياسية (الحدود).

- استشارة أستاذ اللغة العربية في التدقيق اللغوي.
- استشارة أستاذ التربية الإسلامية (ترشيد الموارد).
- استشارة أستاذ الفلسفة حول مفهوم نشأة الدولة.



IPN





الوحدة الثانية: قارات العالم (المظاهر الطبيعية والبشرية)





IPN



قارة إفريقيا (المظاهر الطبيعية و البشرية)

الدرس الرابع

أهداف الدرس

يتوقع في نهاية الدرس أن يكون التلميذ قادرا على:

- 1 معرفة الخصائص الطبيعية لقارة إفريقيا.
- 2 التمكن من تحديد الأقاليم المناخية على خريطة إفريقيا.
- 3 معرفة الخصائص الديمغرافية للقارة.



العرض

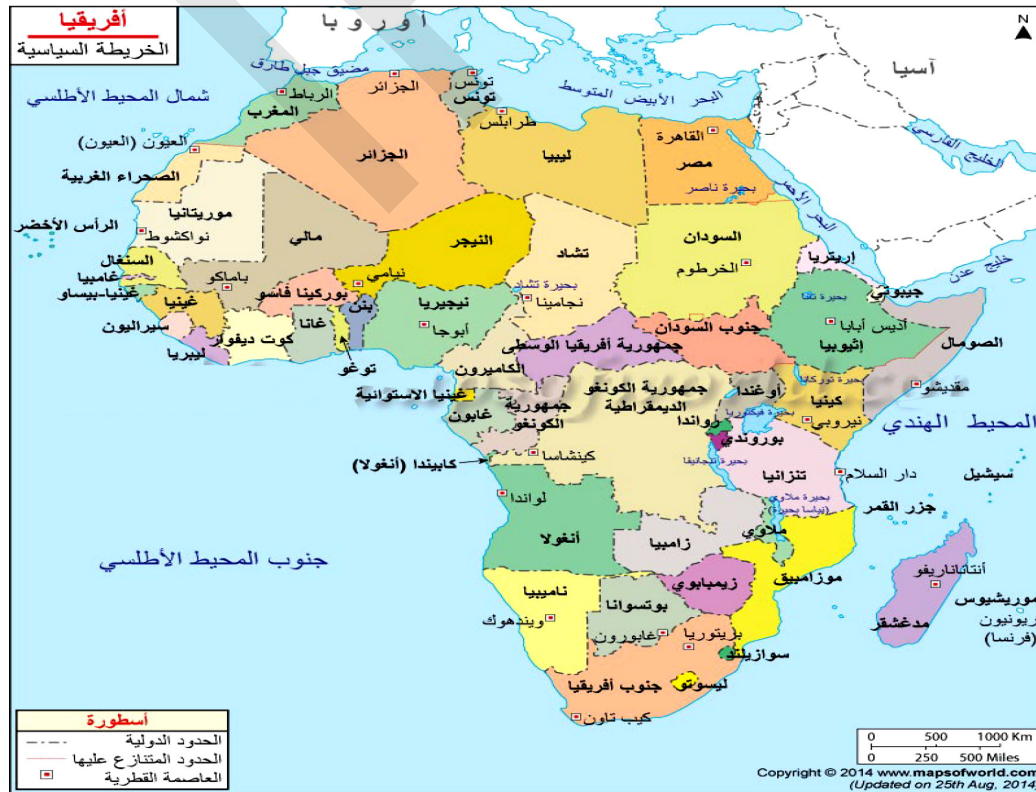


أولا: المظاهر الطبيعية

أ تأمل الخريطة (1-2-3) وأقرأ النص ثم أستنتج

النشاط الأول

الخريطة (1): قارة إفريقيا



1- الموقع والتضاريس

• الموقع والمساحة

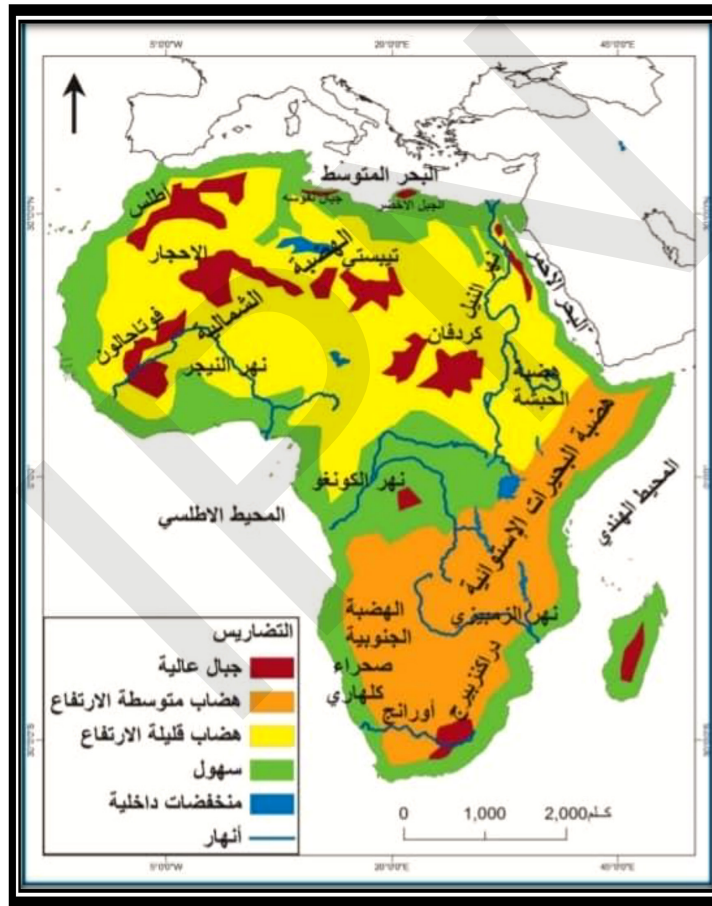
تتوسط قارة إفريقيا قارات العالم القديم، يحدها من الشمال البحر الأبيض المتوسط، ومن الجنوب التقاء المحيط الأطلسي مع الهندي، ومن الشرق المحيط الهندي والبحر الأحمر، ومن الغرب المحيط الأطلسي.

أما فلكيا فتمتد بين دائرتي عرض 37 درجة شمالا و 34 درجة جنوبا وبين خطي طول 17 درجة غربا إلى خط طول 51 درجة شرقا.

تبلغ مساحة إفريقيا حوالي 30,5 مليون كلم مربع.

• التضاريس

الخريطة (2): التضاريس في إفريقيا



تنقسم تضاريس قارة إفريقيا إلى ثلاثة أقسام رئيسية هي:

الجبال: ومن أهمها:

* جبال أطلس: وتوجد أعلى قمة بها (قمة طوبقال 4180 م) وتقع في شمال غرب القارة وتحصر بينها هضبة الشطوط.

* جبال البحر الأحمر في مصر والسودان وأريتريا.

* جبال كلمنجارو في تنزانيا والكون في شرق إفريقيا.

* جبال دراكنزبرج في أقصى جنوب شرق إفريقيا.

الهضاب: وهي المظهر التضاريسي السائد في القارة ومن أهمها:

* هضاب الصحراء الكبرى وتتمثل في هضبة الصحراء الشرقية والغربية في مصر، وهضبة تبستي جنوب ليبيا، وهضبة الأحجار جنوب الجزائر.

* هضبة البحيرات الإستوائية في الوسط وهضبة الحبشة في الشرق وينبع منهما روافد نهر النيل.

* هضبة جنوب إفريقيا ويجرى بها نهرالمبومبو وأورانج.

السهول: وتنقسم إلى ثلاثة أنواع:

* سهول ساحلية: توجد على سواحل البحار والمحيطات مثل سهول البحر الأبيض المتوسط وسهول المحيط الهندي.

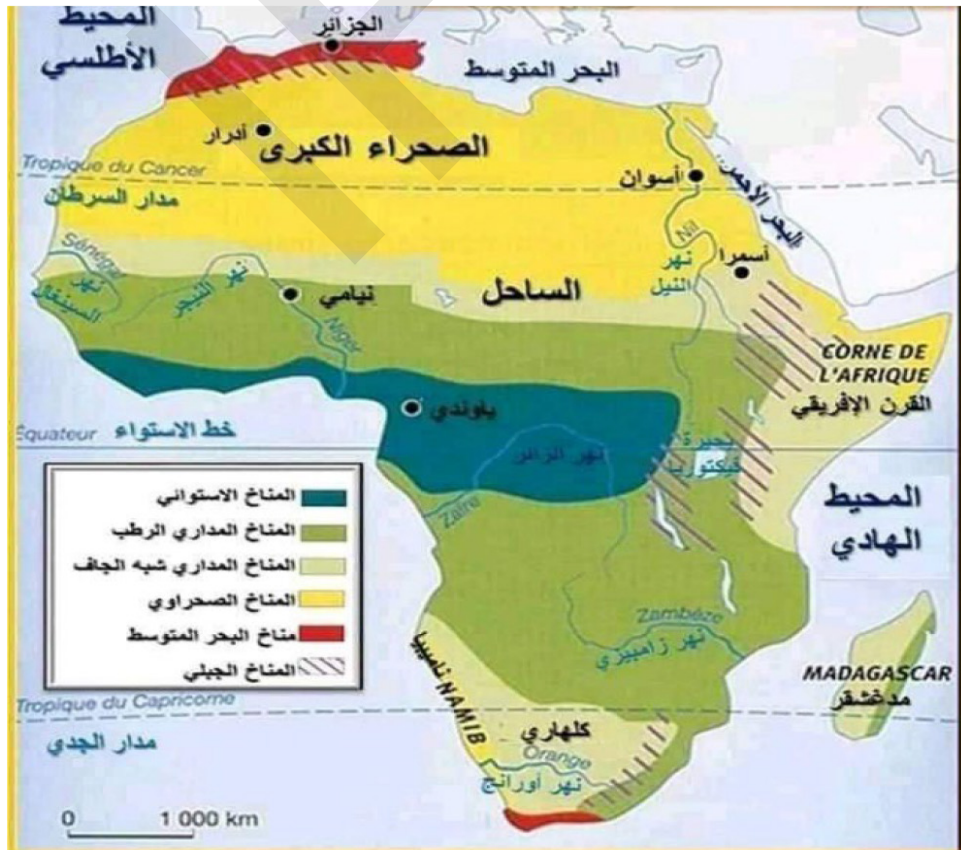
* سهول فيضية: مثل سهول نهر النيل في مصر والسودان وسهول حوض الكونغو وسهول نهر النيجر وسهول نهر الزمبيزي.

* سهول صحراوية رملية: تنتشر شمال إفريقيا وهي سهول صحراوية متسعة، ومنها سهل كلنشو في ليبيا الذي يمتد في مصر ويعرف ببحر الرمال العظيم وسهول الجزائر وموريتانيا، وتوجد سهول صخرية صلبة متماسكة تعرف بـ (الأرصفة الصحراوية).

توجد في إفريقيا أنهار هامة من أشهرها: نهر النيل والكونغو ونهر النيجر والزامبيز والأورانج والسنغال الذي يشكل الحدود الطبيعية بين موريتانيا والسنغال.

2- المناخ والنبات

الخريطة (3): الأقاليم المناخية في قارة إفريقيا



العوامل المناخية :

يتأثر المناخ بمجموعة من العوامل من أهمها:

.الموقع الفلكي: حيث يتوسط القارة خط الاستواء وهو يمثل أعظم جهات العالم حرارة،

كما أن معظم القارة تقع في المنطقة المدارية، وهي التي يغلب عليها الطابع الحار.

.القرب أو البعد من المسطحات المائية: يسود في إفريقيا المناخ القاري، نظرا لانتشار الصحاري بها والتي تبلغ 40% من مساحة القارة، ويقتصر تأثير البحار على السهول والجبال الساحلية.

.الارتفاع عن سطح البحر: تتناقص درجات الحرارة في المناطق المرتفعة مثل الهضبة الجنوبية وهضبة اثيوبيا وجبال الأطلس.

.التيارات البحرية: ومن أهمها تيار كناريا البارد الذي يؤثر على السواحل الشمالية الغربية للقارة بينما تتأثر السواحل الغربية بتيارات المحيط الأطلسي الدافئة الاستوائية وخاصة تيار غينيا.

.الرياح: تتأثر القارة الإفريقية بالرياح التجارية الشمالية الجافة والرياح التجارية الجنوبية الممطرة.

.الغطاء النباتي: يؤثر الغطاء النباتي على المناخ تأثيرا هاما ففي إفريقيا تساعد الغابات الاستوائية والمدارية على التبخر وزيادة الرطوبة في الجو وبالتالي سقوط الأمطار.

الأقاليم المناخية والنباتية

يرتبط النبات بالأقاليم المناخية ومن أهم الأقاليم المناخية:

.الإقليم الاستوائي: ويشمل حوض الكونغو وساحل غانا ويتميز هذا الإقليم بارتفاع درجة الحرارة، كما يبلغ متوسط كمية الأمطار سنويا ما بين (1500 - 2500 مم). وتنتشر الغابات الكثيفة في هذا الإقليم، وأشجار زيت النخيل.

.الإقليم المداري القاري (السوداني): يقع إلى الشمال والجنوب من الإقليم السابق وهو مرحلة انتقالية بين الإقليم الاستوائي والإقليم الصحراوي وتتراوح كمية الأمطار بين 250 - 1250 مم، وتسود في هذا الإقليم نباتات السافانا بأنواعها الطويلة والمتوسطة والقصيرة وذلك تبعا لكمية المطر.

.الإقليم المداري الموسمي: ويشمل هضبة اثيوبيا وجزء من الصومال، تسقط أمطاره صيفا نتيجة لهبوب الرياح الموسمية وتبلغ كمية الأمطار السنوية نحو 1100 مم.

*** الإقليم الصحراوي الحار:** ويشمل الصحراء الكبرى وصحراء كلهاري وتصل كمية الأمطار به 250 مم سنويا، وتسود في هذا الإقليم أشجار الطلح والسدر.

.إقليم البحر الأبيض المتوسط: ويشمل السواحل الشمالية للقارة خاصة إقليم جبال الأطلس وهو مناخ حار صيفا معتدل شتاء، تسقط أمطاره شتاء، وتتراوح كميتها ما بين 400-900 مم سنويا، وتنتشر فيه غابات الصنوبر.

.إقليم المرتفعات: تختلف درجة الحرارة والأمطار في الجبال العالية حسب الارتفاع.

كجبال كليمنجارو وكينيا وهضبة أثيوبيا وجبال الكاميرون وتسقط عليها أمطار غزيرة وتتميز بدرجة حرارة معتدلة بالرغم من وقوعها في المنطقة الاستوائية.



أن موقع القارة المتميز جعلها حلقة وصل بين قارات آسيا وأوروبا وأمريكا، وتتميز تضاريسها بسيادة الهضاب والسهول والسواحل البحرية والأنهار الهامة، كما أن أغلب مساحة إفريقيا تقع في المنطقة المدارية الحارة، وبالتالي يغلب على مناخها الطابع الحار.

ثانياً: المظاهر البشرية

النشاط الثاني
تأمل الجداول (1)، (2)، (3)، (4)، والخريطة، والشكل، وقرأ النص ثم استنتج:

الجدول (1): تطور أعداد سكان القارة الإفريقية (1950 - 2020 م)

عدد السكان بالملايين							تطور عدد سكان إفريقيا
2020	2017	2014	2000	1997	1980	1950	
1250	1138	1100	840	759	476	224	

الجدول (2): حجم سكان القارات حسب تقديرات سنة 2020

القارة	عدد السكان	نسبة السكان
آسيا	4,4 مليار نسمة	59,64%
إفريقيا	1,2 مليار نسمة	16,26%
أمريكا	993 مليون نسمة	13,46%
أوروبا	742 مليون نسمة	10,05%
أوقيانوسيا	42 مليون نسمة	0,56%

1 - التطور العددي للسكان والتوزيع

* التطور العددي للسكان

من خلال الجدول (1) نلاحظ أن سكان قارة إفريقيا في تزايد مستمر، ففي سنة 1950 بلغ عدد سكان القارة حوالي 244 مليون نسمة، ثم ارتفع ليصل 476 مليون نسمة سنة 1980، ليصل إلى 840 مليون نسمة سنة 2000، ثم انتقل العدد إلى 1,2 مليار سنة 2020. كما يمثل سكان إفريقيا 16,26% من سكان العالم كما هو موضح في الجدول (2).

* توزيع السكان الخريطة: الكثافة السكانية في إفريقيا



يتأثر توزيع سكان إفريقيا بمجموعة من العوامل من أهمها:

.العوامل الطبيعية:

- ترتفع الكثافة السكانية في إقليم السافانا حيث تصل إلى 50 نسمة/كم²، نظرا لتوفر الأمطار.
- أدت ظروف المناخ الجاف في النطاق الصحراوي إلى قلة السكان.
- ترتفع الكثافة السكانية في مناطق التربة البركانية في شرق القارة وفي مناطق التربة الفيضية.
- يتركز السكان على هوامش القارة في الشمال والشرق والغرب نظرا لتوفر الموارد السطحية كالأنهار، بينما توجد تجمعات سكانية في المناطق الصحراوية حول العيون والينابيع التي تتدفق في مناطق الواحات.

- تشهد سلاسل جبال أطلس تركيزاً سكانياً واضحاً لما يتوفر بنطاقها من فرص عمل تتعلق بالسياحة الترفيهية.

- العوامل الاقتصادية:

- ترتبط كثافة السكان بمدى احتياج الحرف التي يمارسونها للأيدي العاملة، حيث ترتفع الكثافة السكانية في مناطق التعدين في شرق القارة، كما ترتفع في مناطق استخراج البترول في شمال وغرب إفريقيا.

- تنخفض الكثافة السكانية في مناطق الرعي نظراً لعدم احتياج تلك الحرفة لعدد كبير من الأيدي العاملة.

- تعد المحاور النقلية مناطق جذب للسكان، حيث ارتفعت الكثافة السكانية في شرق القارة بعد إقامة شبكات السكك الحديدية.

نلاحظ مما سبق أن توزيع السكان في قارة إفريقيا يتحكم فيه الظروف الطبيعية والاقتصادية، وبالتالي يمكن تحديد الكثافات السكانية التالية:

- الكثافة السكانية المرتفعة أكثر من 50 نسمة/كلم² وتتركز في السهول الفيضية الخصبة مثل حوض نهر النيل، ونهر النيجر ونهر الكونغو، والسواحل كسواحل البحر الأبيض المتوسط، والمحيط الأطلسي والهندي..... إلخ.

- الكثافة السكانية المعتدلة من 1 إلى 50 نسمة/كلم² وتتركز في وسط القارة.

- الكثافة السكانية المنخفضة أقل من 1 نسمة/كلم² وتتركز في المناطق الصحراوية والاستوائية وبعض المناطق الجبلية والهضاب مثل جبال البحر الأحمر وهضبة تبستي.

2 - الخصائص الديموغرافية للسكان

جدول رقم (3): معطيات ديموغرافية لبعض دول قارة إفريقيا 2010

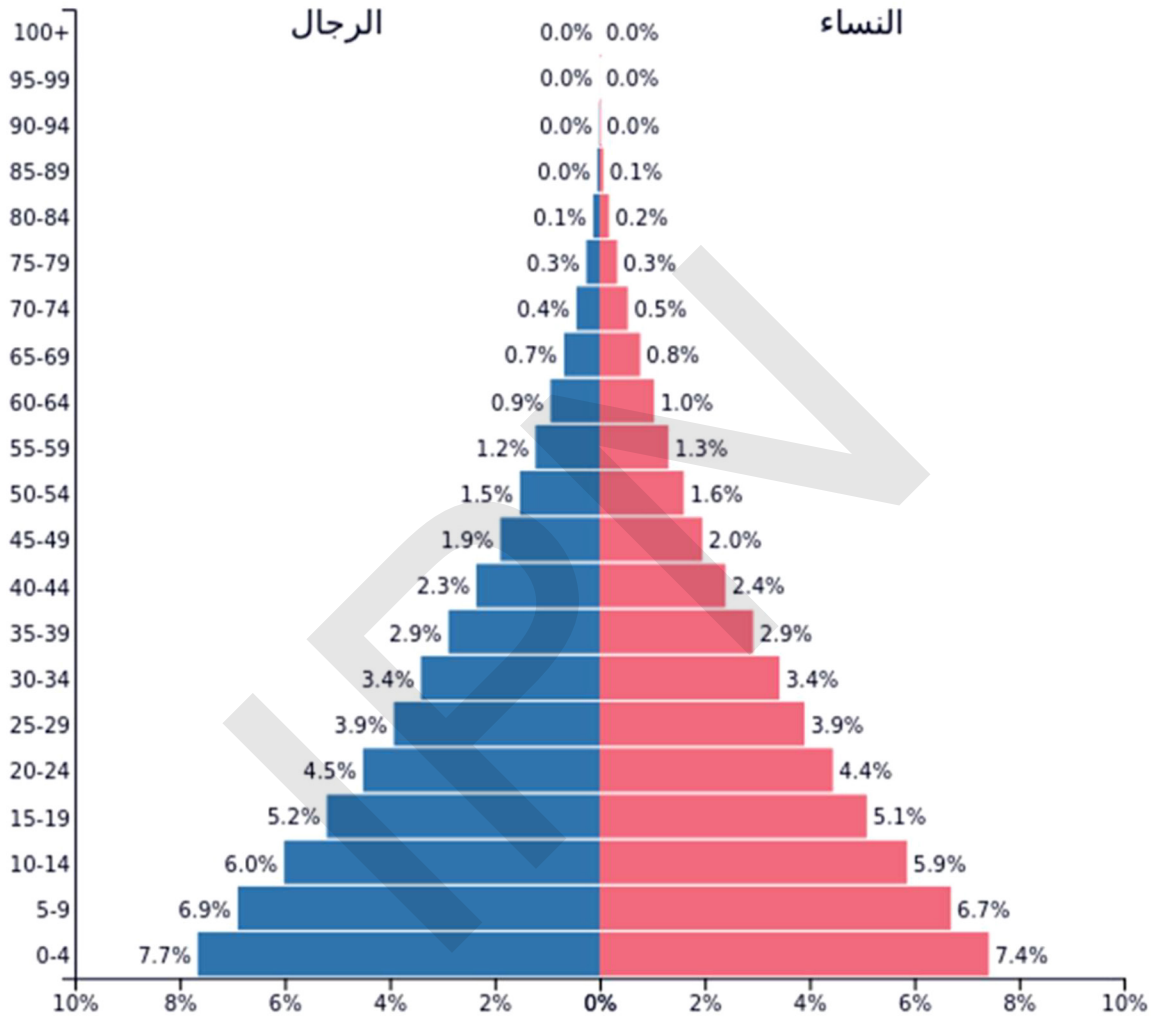
الدولة	معدل المواليد ‰	معدل الوفيات ‰	معدل الزيادة الطبيعية %
النيجر	51,08	14,47	3,6
مالي	46,9	14,64	3,1
السنغال	37,27	9,49	2,7
السودان	36,58	11,66	2,4
موريتانيا	33,67	9,00	2,4
اتشاد	40,12	15,79	2,4
ساحل العاج	31,48	10,43	2,1
مصر	25,02	4,85	2,0
نيجيريا	36,07	16,31	1,9
انغولا	43,33	23,74	1,9

الجدول (4): الفئات العمرية في القارة الإفريقية

إفريقيا	الفئات العمرية
% 41	0 - 14 سنة
%56	15 - 64 سنة
%3	ما فوق 65 سنة

الأعمار

الشكل: هرم السكان في إفريقيا سنة 2019



شهدت قارة إفريقيا نمواً سكانياً سريعاً بسبب ارتفاع معدلات المواليد، وتراجع في معدلات الوفيات بسبب تحسن الظروف الصحية والمعيشية للسكان، ونلاحظ من خلال الجدول (3) أن معدلات النمو الطبيعي السنوي تجاوزت 2% في أغلب دول القارة، وينجم عن هذه الزيادة السكانية ظهور مجتمعات شابة في قارة إفريقيا، كما هو واضح من خلال هرم السكان في إفريقيا حيث تقدر نسبة الصغار الذين تزيد أعمارهم عن 20 سنة أكثر من 50%، بينما نسبة كبار السن في القارة ضعيفة وتسبب هذه الأهرامات في ظهور العديد من المشكلات المرتبطة بشبابية المجتمعات كمشكلة الصحة والتعليم والتشغيل..... إلخ.

كما تشهد القارة حركة مجالية هامة داخلية كالهجرة من الأرياف نحو المدن أو خارجية

كهجرة الأفارقة إلى دول أوروبا الغربية.

أما المعطيات الديموغرافية في موريتانيا، فتتلخص فيما يلي:

- ◆ بلغ عدد سكان موريتانيا 3.685.373 نسمة عام 2013.
- ◆ الكثافة السكانية في موريتانيا تبلغ 3,5 نسمة لكل كم².
- ◆ تعتبر نسبة النمو السنوي للسكان عالية نسبيا عند 2,7% للفترة 2000 - 2013 مقابل 2,4% للفترة 1988 - 2000 و 2,9% للفترة 1977 - 1988م.
- ◆ غالبية السكان من النساء (50,7%) ومعظمهم من فئة الشباب أي 44,2% دون سن 15 سنة و 76,3% دون 35 سنة. وتبلغ نسبة الأفراد في سن (15 - 59 سنة) 50,2 أما نسبة المسنين أي 65 سنة فما فوق فهي تمثل 3,5% (التعداد العام للسكان والمساكن 2013).



أن توزيع السكان في قارة إفريقيا تتحكم فيه العوامل الطبيعية والإقتصادية كما تتميز بزيادة سكانية مرتفعة نظرا لارتفاع معدل الولادات وتناقص معدل الوفيات، وبالتالي ترتفع فيها فئة صغار السن على حساب الفئات العمرية الأخرى.

الملخص

أولا: المظاهر الطبيعية

الموقع الجغرافي: تقع قارة إفريقيا إلى الجنوب الغربي من قارتي أوروبا وآسيا، يحدها من الشمال البحر الأبيض المتوسط، ومن الجنوب المحيط الأطلسي والمحيط الهندي، ومن الشرق البحر الأحمر والمحيط الهندي، ومن الغرب المحيط الأطلسي وتبلغ مساحتها حوالي 30,5 مليون كلم مربع.

التضاريس: تنقسم تضاريس القارة الإفريقية إلى ثلاثة أقسام رئيسية هي:

- **الجبال:** ومن أهمها جبال الأطلس، وجبال الكاب وجبال البحر الأحمر.
 - **الهضاب:** ومن أهمها هضبة الصحراء الكبرى وهضبة أثيوبيا.
 - **السهول:** وهي إما ساحلية مثل سهول البحر الأبيض المتوسط، أو فيضية مثل سهول نهر السنغال أو صحراوية مثل سهل كلنشو في ليبيا.
- المناخ والنبات: يتأثر مناخ القارة بمجموعة من العوامل منها الموقع الفلكي، والارتفاع عن سطح البحر، كما تتميز القارة بتنوع الأقاليم المناخية والنباتية ومنها الإقليم الاستوائي، والمداري والصحراوي والمتوسطي، ومن أهم النباتات المنتشرة في القارة الغابات الاستوائية والسافانا وأشجار الطلح.

ثانيا: المظاهر البشرية

بلغ عدد سكان القارة حوالي 1,2 مليار نسمة سنة 2020، يتوزعون توزيعا غير متناسب بسبب العوامل الطبيعية والبشرية والاقتصادية وعلى هذا الأساس تتركز الكثافة السكانية في السهول الفيضية الخصبة مثل سهول نهر النيل، وسهول ساحلية مثل سهول سواحل البحر الأبيض المتوسط، بينما تنخفض الكثافة السكانية في المناطق الصحراوية والاستوائية



وبعض المناطق الجبلية.
كما تعتبر قارة إفريقيا شابة حيث ترتفع فيها نسبة صغار السن على حساب نسبة الشيوخ بسبب ارتفاع معدل المواليد وانخفاض معدل الوفيات.

نشاط سياقي

في ضوء دراستك لمختلف المظاهر الطبيعية في إفريقيا، بين تأثير المظاهر الطبيعية في موريتانيا على توزيع السكان واعرضه على زملائك في الفصل للنقاش.

أسئلة للتقويم

- 1 ما هي أهم الوحدات التضاريسية في القارة الإفريقية؟
- 2 ما هي أهم الأقاليم المناخية في القارة؟
- 3 أين توجد أهم الكثافات السكانية المرتفعة بالقارة؟
- 4 ما ذا يترتب على سرعة النمو الديمغرافي الذي تشهده القارة؟



قارة أمريكا (المظاهر الطبيعية والبشرية)

الدرس الخامس

أهداف الدرس:

يتوقع في نهاية الدرس أن يكون التلميذ قادرا على:

- 1 معرفة الخصائص الطبيعية لقارة أمريكا (الشمالية والجنوبية).
- 2 التمكن من تحديد الأقاليم المناخية على خريطة صماء لأمريكا.
- 3 معرفة الخصائص الديمغرافية للقارة.



العرض



أولا: المظاهر الطبيعية في قارة أمريكا

تأمل الخريطة (1)، (2)، (3)، (4)، (5)، والجدول
واقرا النص ثم استنتج

النشاط الأول

الخريطة (1): قارة أمريكا



1- الموقع والتضاريس * الموقع والمساحة

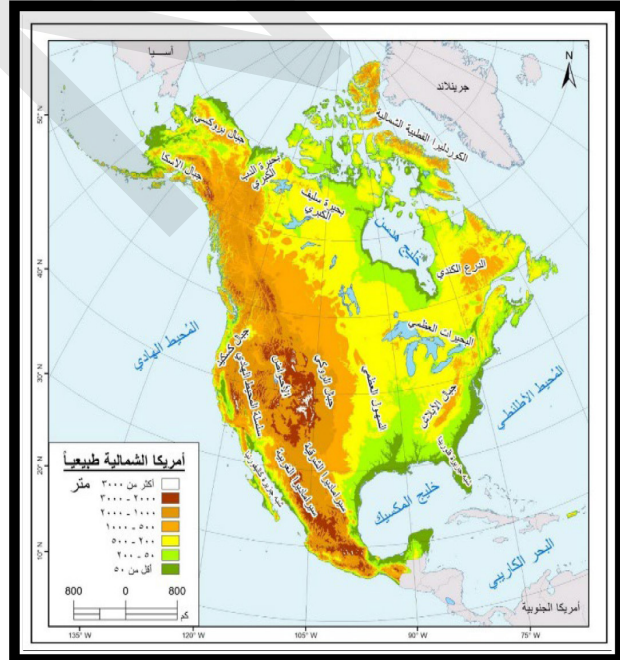
تقع القارة الأمريكية في النصف الغربي للكرة الأرضية أي غرب خط غرينتش، وتعرف أيضا بالعالم الجديد، يستخدم مصطلح الأمريكتين للجمع بين أمريكا الشمالية وأمريكا الجنوبية معاً، بالإضافة إلى الجزر والمناطق المحيطة بهما، يحدها من الشرق المحيط الأطلسي ومن الغرب المحيط الهادي ومن الشمال يحدها المحيط المتجمد الشمالي أما حدودها الجنوبية فهي المياه المشتركة للمحيطين الأطلسي والهادي.

أما فلكياً فتقع القارة بين دائرتي عرض (83° شمالاً و 56° جنوباً) وبين خطي طول (53° غرباً - 168° غرباً) وتبلغ مساحتها 42 مليون كم مربع (28.4% من مساحة اليابسة).

* التضاريس

خريطة (3): تضاريس أمريكا الجنوبية

خريطة (2): تضاريس أمريكا الشمالية



الجدول: أهم الأنهار في أمريكا

أهم الأنهار في قارة أمريكا

النهر	الدول التي يعبرها	(الطول كم)
الأمازون	بيرو، البرازيل، كولومبيا	6.800
ميسيبي - ميزوري	الولايات المتحدة	6.019
بارانا - دي لا بلاتا	الأرجنتين، البرازيل، باراغواي، الأوروغواي	4.200
ماكينزي	كندا	4.240
بوروس	بيرو، البرازيل	3.590
ساو فرانسيسكو	البرازيل	3.199
نهر باراغواي	الأرجنتين، بوليفيا، البرازيل، باراغواي	2.625
كولورادو	الولايات المتحدة، المكسيك	2.333

تنقسم تضاريس قارة أمريكا إلى ثلاثة أقسام رئيسية:

الجبال: ومن أهمها:

* **الجبال الشرقية:** جبال لابلاش التي تمتد على طول 2300 كم بمحاذاة الساحل الشرقي لأمريكا الشمالية وتبلغ قمة بلاك دوم 2045 م أقصى ارتفاع في هذه الجبال.

* **الجبال الغربية:** سلاسل جبال (روكي - ألaska - ماكينزي - سيرانيفادا - سيراماديرا) ويصل أقصى ارتفاع فيها إلى 6194م عند قمة جبل ماك كينلي.

* **جبال الأنديز:** توجد في غرب القارة بمحاذاة المحيط الهادي وهي تمتد من الشمال إلى الجنوب

الهضاب:

* في الغرب توجد هضبة كلورادو وهي هضبة مرتفعة تكثرت بها الأودية والأحواض.

* في الشمال الشرقي توجد هضبة لبرادور.

* في الجنوب توجد هضبة المكسيك.

* هضبة جيانا في الشمال .

* هضبة البرازيل في الشرق (أكبر الهضاب وأكثرها ارتفاعا) ويجري فيها نهر ساو

فرانسيسكو الذي يصب في المحيط الأطلسي.

* هضبة بتاجونيا في الجنوب وهي الأصغر مساحة.

السهول:

- **سهول ساحلية:** وتمتد على المحيط الأطلسي وخليج المكسيك في الشرق والجنوب الشرقي حول خليج هدسن في أقصى الشمال على المحيط الهادي غربا وهي سهول ساحلية ضيقة بسبب اقتراب جبال الانديز من المحيط الهادي.

- سهول فيضية:

في أمريكا الشمالية تمتد من المحيط المتجمد الشمالي إلى خليج المكسيك جنوبا وهي

سهول متسعة يغطي الجليد أطرافها الشمالية، وتوجد بها البحيرات العظمى في كندا والولايات المتحدة الأمريكية، منها سهول نهر المسيسيبي بروافده العديدة حيث الأراضي الزراعية الخصبة.

- **سهول حوض نهر الأمازون:** وهي أوسع سهول نهريّة في العالم وينمو بها الغابات الاستوائية ويجري فيها نهر الأمازون بروافده العديدة.

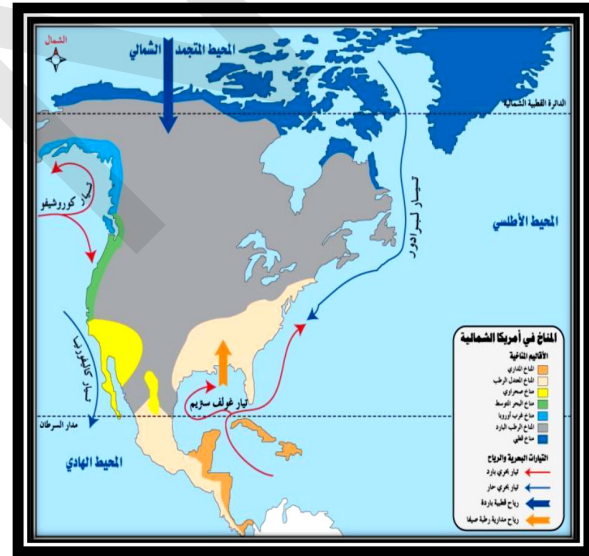
- **سهول لابلاتا:** في أورجواي والأرجنتين، وهي تمتد من الشمال نحو الجنوب، وتجري فيها أنهار بارانا وبارجواي ولابلاتا التي تصب في المحيط الأطلسي، تعرف سهول لابلاتا بسهول البمباس وهي من أغنى مناطق الأرجنتين في زراعة القمح والرعي وتربية الأبقار والأغنام.

- **سهول دلتا نهر اورينكو في الشمال:** الذي يصب في المحيط الأطلسي، كما تجري في القارة أنهار عديدة منها نهر الأمازون، ونهر المسيسيبي، ونهر ماكنزي..... إلخ.

2- المناخ والنبات

خريطة (5): المناخ في أمريكا الجنوبية

خريطة (4): المناخ في أمريكا الشمالية



يتأثر المناخ بمجموعة من العوامل من أهمها:

• الموقع الفلكي

نتيجة للموقع الفلكي الأقرب إلى القطب الشمالي بين دائرتي عرض (83° شمالاً و 56° جنوباً) قلل من تعامد أشعة الشمس إلى الأجزاء الجنوبية (أمريكا الوسطى) الشيء الذي جعل البرودة هي السمة الغالبة على الشمال والحرارة على الجنوب الغربي للقارة وأمريكا الوسطى - جزر الكاريبي.

• التضاريس

تلعب التضاريس المرتفعة (الجبال) دوراً هاماً في جلب الأمطار والثلوج وبرودة الأجواء وارتفاع الرطوبة، هذا ما نشاهده في المناطق الشرقية للقارة الأمريكية (جبال لابلاش) والساحل الغربي (جبال ألاسكا - الروكي - الأنديز).

• التيارات البحرية

تعمل التيارات البحرية الآتية من الجنوب على تكون الأعاصير (جزر الكاريبي - جنوب الولايات المتحدة) حيث يؤثر تيار الخليج الدافئ على المنطقة من حيث الأمطار الغزيرة الدائمة الدفء حتى شرق كندا شمالاً، في حين يلعب تيار كاليفورنيا البارد غرباً على نشر البرودة والجفاف، في الشمال الشرقي يهب تيار لابرادور البارد الجاف والذي يعمل على تجميد خليج سانت-لورنس، غرباً يعمل تيار كوروشيفو الياباني الدافئ على سواحل غرب كندا وجنوب ألاسكا على جلب الأمطار والدفء حتى سواحل القطب الشمالي. كما أن مرور تيار هومبولت (بيرو البارد) الذي يسير بمحاذاة الساحل الغربي يجعله أكثر برودة من الساحل الشرقي، في حين مرور تيار البرازيل الدافئ بمحاذاة الساحل الشرقي يجعله أكثر حرارة من الساحل الغربي.

تتنوع الأقاليم المناخية والنباتية في قارة أمريكا ومن أهمها:

1 - إقليم المناخ المداري المطير الاستوائي:

يتركز هذا الإقليم المناخي في سهل الأمازون وعلى سواحل جيانا إلى جانب ساحل كولومبيا الباسيفيكية في شمال غرب القارة وفي أمريكا الوسطى - جزر الكاريبي - جنوب الولايات المتحدة الأمريكية ويتميز بارتفاع درجات الحرارة على مدار السنة، فضلاً عن غزارة الأمطار إذ لا يقل مجموع أمطاره السنوية عن (2000 ملم).

تظهر في هذا الإقليم غابات السلفاس وهي أشجار دائمة الخضرة وتعد من أكبر الغابات في العالم توجد في حوض الأمازون ومن أهم أشجارها (المطاط، الكاكاو، الموز، العاج والنخيل ... وغيرها).

2 - إقليم المناخ المداري البحري

ويمتد على طول سواحل البرازيل حتى مدار الجدي، كما يسود في السواحل الشمالية الشرقية للقارة، ويتصف مناخه بأنه حار وتتراوح كمية أمطاره السنوية ما بين (762 - 1524 ملم).

3 - إقليم المناخ الدافئ الرطب

يتمثل هذا الإقليم في المناطق المرتفعة نسبياً ضمن الإقليم المداري الحار، إذ يؤدي هذا الارتفاع في طبيعة السطح إلى الاختلاف في درجات الحرارة من فصل لآخر ومن ثم الاختلاف في نظام سقوط الأمطار، إذ تزداد في فصل الحرارة وتبلغ كمياتها أكثر من الفصل البارد بحوالي (10) أضعاف. ويتوزع هذا المناخ جغرافياً في هضبة جيانا وعلى الأجزاء الجنوبية لهضبة البرازيل، وتتراوح مجموع أمطاره السنوية ما بين (762 - 1650 ملم)، ومن نباتاته حشائش السافانا.

4 - المناخ الرطب البارد

يقع جغرافياً حول حوض المسيسيبي الأعلى وجنوب البحيرات العظمى، ويكون الشتاء فيه بارداً بسبب توغل الكتل الهوائية القطبية القارية أما الصيف فيكون دافئاً تحت تأثير



الكتل المدارية الدافئة الرطبة وأمطاره صيفية بين (635-1016 ملم) ومن أهم نباتاته البلوط والصنوبر.

5 - إقليم مناخ البحر المتوسط

يتميز بأمطاره الشتوية، كما يتسم بالجفاف خلال الفصل الحار ويتركز هذا الإقليم في منطقة كاليفورنيا (غرب الولايات المتحدة) وفي القسم الغربي من القارة وسط شيلي، وكميات الأمطار فيه تتراوح ما بين 300 مم إلى 500 مم، ومن أهم نباتات هذا الإقليم (الزيتون، الكروم، البلوط والأرز وغيرها).

6 - إقليم المناخ الجاف وشبه الجاف (الصحراوي والسهوب):

يتمثل إقليم المناخ الجاف الصحراوي في القارة في كل من شمال غرب المكسيك والجزء الشمالي من هضبة المكسيك وسواحل شمال شيلي وبيرو، مع متوسط مطري يقل عن 254 ملم سنويا، أما إقليم المناخ شبه الجاف (السهوب) فيتمثل في الشريط الساحلي الضيق في فنزويلا والقسم الداخلي من البرازيل وفي شمال غرب الأرجنتين وهضبة بتاجونيا والجنوب الغربي من أمريكا الشمالية تتراوح معدلات الأمطار ضمن هذا الإقليم المناخي ما بين (254-635 ملم سنويا). ومن أهم نباتاته حشائش الاستبس، الصبار.

7 - المناخ القطبي

يتميز بأن درجة الحرارة شتاء تصل إلى الصفر وفي الصيف 10° م ويصل طول فصل الشتاء إلى أكثر من ثمانية أشهر، وانخفاض الحرارة إلى دون التجمد؛ أما الأمطار فقليلة تصل إلى (254 ملم) وتسقط على شكل ثلوج. ومن أهم أشجاره البلوط والجوز واللوز والزيتون.



أن القارة الأمريكية تقع في النصف الغربي من الكرة الأرضية، وتتميز بوجود سلاسل جبلية كبرى هي: جبال الروكي والأنديز في الغرب وجبال لا بلاش في الشرق، وتمتد بين القطبين الشمالي والجنوبي مما جعل مناخها يشمل الأقاليم الحارة والمعتدلة والباردة.



ثانياً: المظاهر البشرية

النشاط الثاني

تأمل الجدول (1)، (2)، والخريطة (1)، (2)،
والشكل (1)، (2) واقرأ النص ثم استنتج

1 - التطور العددي السكان و التوزيع

التطور العددي

الجدول (1): يبين تطور أعداد سكان القارة الأمريكية من 1950 - 2020 م

السنة	1950	1980	1997	2000	2010	2016	2020
عدد السكان (بالملايين)	64	614	794	841	934	981	993

الجدول (2): حجم سكان القارات حسب تقديرات سنة 2020

القارة	عدد السكان	نسبة السكان
آسيا	4,4 مليار نسمة	59,64 %
افريقيا	1,2 مليار نسمة	16,26 %
أمريكا	993 مليون نسمة	13,46 %
أوروبا	742 مليون نسمة	10,05 %
أوقيانوسيا	42 مليون نسمة	0,56 %

من خلال الجدول (1) نلاحظ أن عدد سكان قارة أمريكا انتقل سنة 1950 من 64 مليون نسمة ليتضاعف العدد حوالي عشرة أضعاف إلى 614 مليون نسمة سنة 1980، ثم بدأت الزيادة السكانية بشكل بطيء خلال القرن الواحد والعشرين ليصل العدد إلى 841 مليون نسمة سنة 2000، ليصل بعد ذلك إلى 993 مليون نسمة سنة 2020.

كما يمثل سكان قارة أمريكا 13.46 % من سكان العالم كما هو موضح في الجدول (2).

توزيع السكان

خريطة (1): الكثافة السكانية لأمريكا الشمالية خريطة (2): الكثافة السكانية لأمريكا الجنوبية



يتصف التوزيع الجغرافي للسكان في القارة بعدم انتظامه، ويمكن ملاحظة ذلك من خلال

الجوانب الآتية:

- 1- وجود تركيز واضح للسكان في المناطق الساحلية، إذ لا يبعد السكان أكثر من (320) كلم عن الساحل، بينما ينخفض التركيز السكاني في المناطق الداخلية، وذلك بسبب الغابات المدارية المطيرة والمناخ الحار والظروف الصحية غير الملائمة.
- 2 - انخفاض كثافة السكان في الدول الكبيرة (الدول ذات المساحة الكبيرة) مثل الأرجنتين والبرازيل وزيادتها في الدول الصغيرة (الدول ذات المساحة الصغيرة).
- 3 - يتميز التوزيع الجغرافي للسكان بوجود تجمعات (تركيزات سكانية كبيرة) معزولة عن بعضها البعض، بسبب الظروف المناخية حيث سيادة المناخ الحار الرطب، ومن هذه التجمعات التجمع السكاني حول مدينة ساو باولو جنوب البرازيل وريودي جانيرو، والتجمع السكاني وسط تشيلي حول العاصمة سانتياغو.
- 4 - تركيز السكان الأوربيون في الجهات المعتدلة كالأرجنتين وأرجواي وجنوب البرازيل وشيلي، في حين يتركز الزوج شمال شرق البرازيل وضمن مرتفعات الأنديز وأجزاء معينة من تشيلي وباراجواي.

ثانياً: الخصائص الديمغرافية لسكان القارة

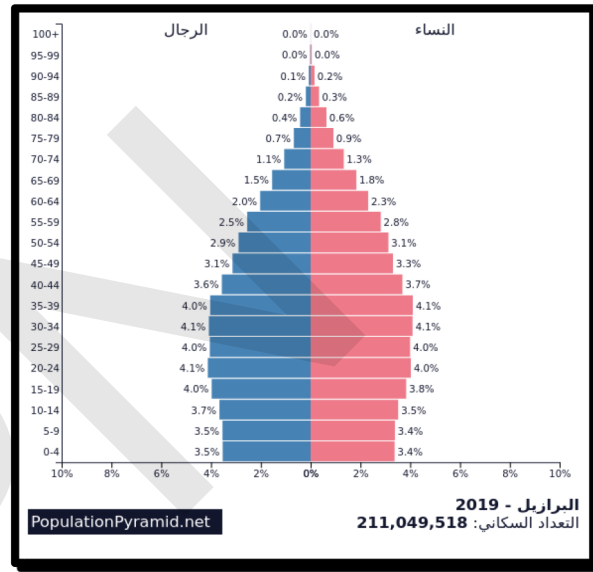
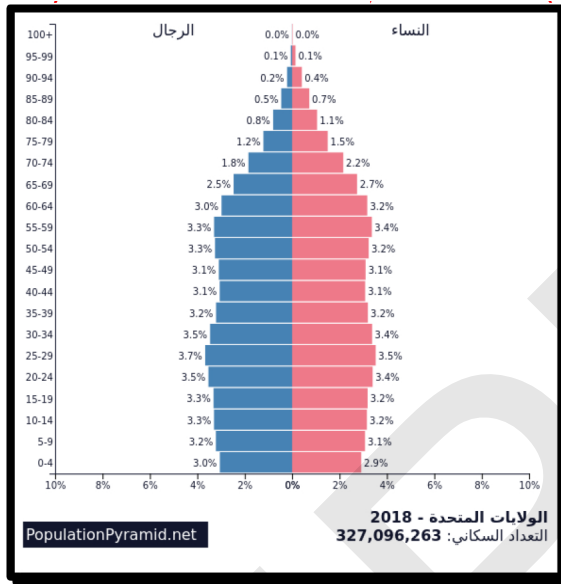
جدول رقم (3): معطيات ديموغرافية لبعض دول قارة أمريكا

الدولة	معدل المواليد ‰	معدل الوفيات ‰	معدل الزيادة الطبيعية %
كندا	10.28	7.87	0.3
كوبا	11.02	7.92	0.4
الولايات المتحدة	13.83	8.38	0.5
تشيلي	14.46	5.90	0.9
الأرجنتين	17.75	7.39	1
البرازيل	18.11	6.35	1.2
بيرو	19.00	6.13	1.3
بارغواي	17.73	4.55	1.3
فنزويلا	20.29	5.14	1.5
الأكوادور	20.32	5.00	1.5

الجدول (4): الفئات العمرية في القارة الأمريكية

قارة أمريكا		الفئات العمرية
أمريكا اللاتينية ومنطقة البحر الكاريبي	أمريكا الشمالية	
26%	19%	0 - 14 سنة
66%	67%	15 - 64 سنة
8%	15%	ما فوق 65 سنة

الشكل (1): هرم سكان دولة من أمريكا الشمالية (الولايات المتحدة الأمريكية)
 الشكل (2): هرم سكان دولة من أمريكا الجنوبية (البرازيل)



شهدت قارة أمريكا نموًا سكانيًا منخفضًا بسبب تراجع معدلات المواليد والوفيات، وإن كان هذا النمو يختلف ما بين دول أمريكا الشمالية والجنوبية، حيث نلاحظ من خلال الجدول (1) أن معدلات النمو الطبيعي في دول أمريكا الشمالية أقل من 1%، بينما في دول أمريكا الجنوبية تزيد على 1%.

نلاحظ من خلال الجدول (2) أن نسبة صغار السن مرتفعة في أمريكا الجنوبية 26%، مقارنة بأمريكا الشمالية 19%، بينما نسبة كبار السن تنخفض في أمريكا الجنوبية 8%، وترتفع في أمريكا الشمالية، وهذا يرجع إلى النمو الطبيعي البطيء في قارة أمريكا الشمالية، وبالتالي شيخوخة المجتمعات في أمريكا الشمالية.



أن السكان يتركزون أساسًا في السواحل الغربية للقارة، كما تتميز القارة بانخفاض معدلات الزيادة الطبيعية في دول أمريكا الشمالية مقارنة مع دول أمريكا الجنوبية.

الملخص

أولاً: المظاهر الطبيعية

الموقع الجغرافي: تقع قارة أمريكا في النصف الغربي من الكرة الأرضية، يحدها من الشمال المحيط المتجمد الشمالي، ومن الجنوب المحيط المتجمد الجنوبي، ومن الشرق المحيط الأطلسي، ومن الغرب المحيط الهادي.

وتضم قارة أمريكا (أمريكا الشمالية وأمريكا الجنوبية)، وتبلغ مساحتها 42 مليون كلم مربع.

التضاريس: تنقسم تضاريس القارة إلى ثلاثة أقسام رئيسية هي:

• الجبال مثل جبال الروكي، وجبال لابلاش، وجبال الأنديز.

• الهضاب مثل هضبة البرازيل، وهضبة غيانا، وهضبة لبرادور.

• السهول مثل سهول حوض نهر الأمازون، وسهول لابلاتا وسهول نهر المسيسيبي.

المناخ والنبات: يتأثر المناخ بمجموعة من العوامل منها الموقع الفلكي والتضاريس، والتيارات البحرية، ومن الأقاليم المناخية المداري والصحراوي والقطبي، كما توجد في القارة الغابات الاستوائية والمدارية وبعض الأعشاب الشوكية وبعض النباتات المثمرة مثل الفواكه.

كما تتوفر القارة على عدة أنهار منها نهر المسيسيبي، ونهر الأمازون، ونهر ماكنزي.

ثانياً: المظاهر البشرية

يعيش في القارة الأمريكية أكثر من 993 مليون نسمة حسب تقديرات 2020، يتركز معظمهم في سهول نهر المسيسيبي ومنطقة البحيرات العظمى الغنية بالموارد الاقتصادية وسواحل

البرازيل وفنزويلا، بينما تنخفض الكثافة السكانية على قمم الجبال والصحاري.

أما الزيادة الطبيعية فهي منخفضة على العموم في القارة، لكنها تختلف حسب الدول.

نشاط سياقي

من خلال البحث في المكتبات أو الانترنت، تحدث عن توزيع السكان في موريتانيا مبينا العوامل المتحكمة في هذا التوزيع.



أسئلة للتقويم

- 1 تحدث عن أهم أشكال التضاريس في القارة الأمريكية.
- 2 حدد تضاريس أمريكا الشمالية على خريطة صماء.



- 3 بين أهم مناطق تركيز السكان في أمريكا.
- 4 ماهي الخصائص الديموغرافية لقارة أمريكا؟





قارة آسيا (المظاهر الطبيعية والبشرية)

الدرس السادس

أهداف الدرس

يتوقع في نهاية الدرس أن يكون التلميذ قادرا على:

- 1 معرفة الخصائص الطبيعية لقارة آسيا.
- 2 التمكن من تحديد التضاريس على خريطة صماء لآسيا.
- 3 معرفة الخصائص الديمغرافية لآسيا.



العرض



أولا: المظاهر الطبيعية

النشاط الأول تأمل الخريطة (1)، (2)، (3)، واقرأ النص ثم استنتج

- الموقع والتضاريس

الموقع

الخريطة (1): قارة آسيا



قارة آسيا هي أكبر قارات العالم مساحةً وسكاناً، وتصل مساحتها 44.5 مليون كلم مربع فهي تشغل قرابة ثلث مساحة اليابس، وباستثناء بعض الجزر الجنوبية فإن آسيا تقع في نصف الكرة الأرضية الشمالي، وتمتد بين درجتي عرض 10° جنوباً حتى 83° شمالاً ومن خط طول 25° شرقاً حتى 170° شرقاً، ويفصلها عن قارة أمريكا الشمالية مضيق يسمى «بيرنج» وكذلك المحيط الهادي، بينما يفصلها عن قارة أوروبا سلسلة جبال «أورال» والبحر الأسود والبحر المتوسط وتقع قناة السويس بين قارتي آسيا وإفريقيا.

1- التضاريس:

الخريطة (2): تضاريس آسيا



تتنوع مظاهر السطح في قارة آسيا ويظهر ذلك كما يلي:
 في وسطها توجد مجموعة من الهضاب التي تمتد من هضبة آسيا الوسطى في الشرق متجهةً جنوب هضاب أفغانستان وإيران في الغرب، وفي هذه المنطقة ترتفع السلاسل الجبلية ومنها جبال الهمالايا، وتيان شان، وسليمان، والبرزوزاجروس.

أما هضاب آسيا الجنوبية فهي من الشرق إلى الغرب: هضبة الهند الصينية وهضبة «الدين» في بلاد الهند، وهضبة الجزيرة العربية.

وفي آسيا أحواض الأنهار الخصبة، ومنها حوض دجلة والفرات في العراق الذي كان مهداً للحضارات القديمة، وحوض السند الذي يمر فيه نهر الكانج، بالإضافة إلى أحواض أنهار الصين الواقعة إلى الشرق من هضاب آسيا الوسطى، وهذه الأحواض هي: حوض النهر الأصفر «هوانج هو» وحوض نهريانج تسي كيانج، وحوض نهر سيكيانج.

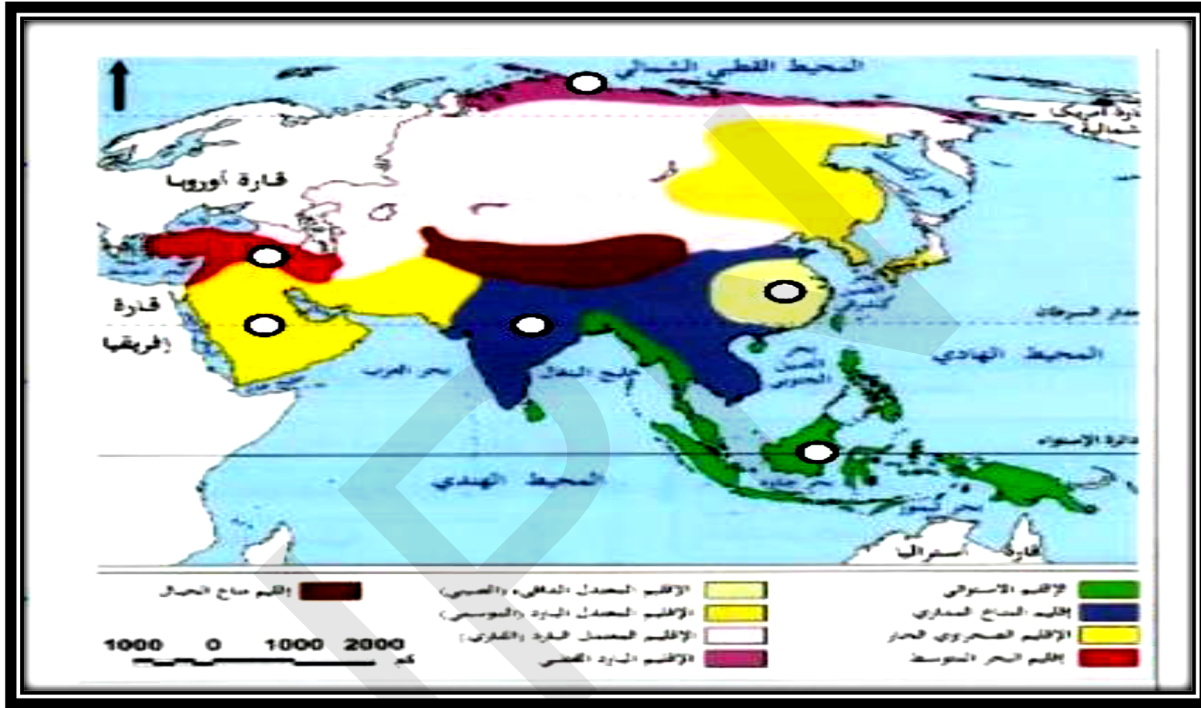
أما القسم الشمالي من آسيا فهو عبارة عن أراضٍ منخفضة تسمى سهول سيبيريا تخترقها

مجموعة من الأنهار وهي من الغرب إلى الشرق: أوب وينسي ولينا، وهي أنهار قليلة الأهمية لتجمدها معظم أيام السنة.

وفي وسط آسيا مجموعة من البحار الداخلية المغلقة مثل قزوين، وأورال، وبلكاش.
وتوجد في شرقي آسيا مجموعات من الجزر يسمى كل منها «أرخيلا» وهي أرخبيل اليابان، وأرخبيل الفلبين، وأرخبيل إندونيسيا، بالإضافة إلى جزر تقع في جنوب آسيا منها: جزر المالديف، وجزيرة سرى لانكا وجزر أندمان.
كما تجري في القارة عدة أنهار منها نهر أوب، ونهر السند، ونهر الكانج، ونهري دجلة والفرات..إلخ.

2 - المناخ والنبات

الخريطة (3): المناخ في قارة آسيا



يتأثر مناخ قارة آسيا بعوامل عديدة منها:

- الاتساع الكبير لمساحة القارة وامتدادها من الدائرة الاستوائية إلى الدائرة القطبية.
- الموقع بالنسبة لدوائر العرض: الامتداد من دائرة عرض 10 جنوبا إلى 81 شمالا تسبب في ارتفاع درجات الحرارة في جنوب القارة واعتدالها في وسطها وانخفاضها في شمالها.
- امتداد السلاسل الجبلية وسط القارة: تتسبب سلاسل جبال الهمالايا في حرمان وسط آسيا من المؤثرات القطبية الشمالية، وتعرقل وصول التيارات المحيطية الجنوبية إلى وسطها، مما تسبب في ارتفاع درجات الحرارة في جنوب القارة وانخفاضها في الوسط والشمال.
- تأثير التيارات المحيطية: لقد أثرت التيارات المحيطية الباردة على مناخ سواحل شمال شرق آسيا، فتسبب تيار أوياشيفو البارد في خفض درجات الحرارة في المياه الساحلية، بينما ارتفعت حرارة المياه الساحلية في شرق القارة بسبب تيار كوروشيفو الدافئ.
- الرياح الموسمية: تهب صيفا على جنوب شرق القارة وتتسبب في ظاهرة الفيضانات المدمرة.

يرتبط النبات بالأقاليم المناخية، ويمكن تقسيم قارة آسيا إلى الأقاليم المناخية التالية:

1 - الإقليم الاستوائي:

يسود في الجزر الإندونيسية وماليزيا نظرا لوقوعه على خط الاستواء، يتصف بارتفاع الحرارة طوال العام وأمطاره دائمة وتغطيه غابات كثيفة ذات أشجار متنوعة كجوز الهند والمطاط وبسبب الظروف لغير جاذبة للسكان يعد هذا الإقليم منطقة قليلة الكثافة السكانية.

2 - الإقليم الموسمي:

ينتشر في جنوبي وجنوبي شرق آسيا خاصة في شبه جزيرة الهند، وأطلق عليه اسم الموسمي نظرا لأن الأمطار تسقط في فصل الصيف بسبب هبوب الرياح الموسمية في هذا الفصل، باتجاه شواطئ القارة الجنوبية شمالي خط الاستواء، حيث يتصف بارتفاع الحرارة صيفا والبرودة شتاء، وتسود في هذا الإقليم غابات تساير مجاري الأنهار الكبيرة، كما تسود فيه أعشاب السافانا والخيزران.

3 - الإقليم الصحراوي:

يسود في وسط آسيا عموما بين درجتي عرض 18° و 30° شمالي خط الاستواء ويتميز بقلة تساقط الأمطار بسبب حجز الجبال الرياح المحملة بالرطوبة، كما يتصف بالفروق الحرارية العالية، أما النبات هنا فهو مقاوم للجفاف مثل الشوكيات والنخيل في الواحات (ويسمى بالصحراوي لقلة النبات وارتفاع درجة الحرارة).

4 - الإقليم القاري:

يسود هذا الإقليم بين درجتي عرض 30° و 40° شمالي خط الاستواء، سمي بالقاري لبعده عن المؤثرات البحرية، ويتصف بصيف حار وشتاء بارد، كما يتميز بمدى حراري فصلي كبير يزيد على 30 درجة مئوية.

5 - الإقليم المتوسطي:

يسود في المناطق المطلة على البحر المتوسط، ويتصف باعتدال الحرارة شتاء وارتفاعها صيفا وتنتشر فيه الغابات دائمة الخضرة والشجيرات مثل اللوز.

6 - الإقليم البارد:

يمتد شمال القارة على حدود المحيط المتجمد الشمالي ويتميز بشتاء بارد (-50° مئوية)، وفي الصيف تظهر فيه نباتات التندرا كما تنتشر الغابات المخروطية في أجزائه الجنوبية حيث تكون درجة الحرارة أكثر ارتفاعا مما في الشمال (0°) وتتميز هذه الغابات بأنها مقاومة للتجمد.

7 - إقليم الجبال:

يقع في الأجزاء المرتفعة في الهضاب العليا والجبال المرتفعة كالهimalيا، يتميز بشتاء بارد وصيف معتدل، وتزداد الأمطار فيه كلما ارتفعنا عن سطح البحر وتغطي الثلوج القمم العالية.



أن قارة آسيا هي أكبر قارات العالم مساحةً وسكاناً، وتتنوع فيها مظاهر السطح حيث توجد بها أعلى قمة في العالم هي قمة أفريست في جبال الهملايا التي يصل ارتفاعها 8848 م، كما تتميز بتنوع المناخ وتباينه نظراً للامتداد الكبير لمساحة القارة وامتدادها من الدائرة الاستوائية إلى الدائرة القطبية الشمالية.

ثانياً: المظاهر البشرية

أتمل الجدول (1)، (2)، (3)، (4) والخريطة والشكل
واقراً النص ثم استنتج

النشاط الثاني

- التطور العددي للسكان و التوزيع

* التطور العددي

الجدول (1): تطور عدد سكان آسيا في الفترة ما بين (1900 - 2020)

السنة	1900	1950	1970	1997	2000	2010	2016	2020
عدد السكان (مليون نسمة)	937	1270	2081	3538	3704	4146	4342	4436

الجدول (2): حجم سكان القارات حسب تقديرات سنة 2020

القارة	عدد السكان	نسبة السكان
آسيا	4,4 مليار نسمة	59,64%
أفريقيا	1,2 مليار نسمة	16,26%
أمريكا	993 مليون نسمة	13,46%
أوروبا	742 مليون نسمة	10,05%
أوقيانوسيا	42 مليون نسمة	0,56%

من خلال الجدول (1) نلاحظ أن سكان قارة آسيا في زيادة سكانية مرتفعة حيث انتقل سنة 1900 من 937 مليون نسمة إلى 1.2 مليار نسمة سنة 1950، ليصل إلى 3.7 مليار نسمة سنة 2000، حتى وصل إلى 4.4 مليار نسمة سنة 2020، وترجع الزيادة السكانية المرتفعة إلى ارتفاع معدلات المواليد وانخفاض الوفيات.

كما يمثل سكان قارة آسيا 59.6% من سكان العالم كما هو موضح في الجدول (2).

* توزيع السكان

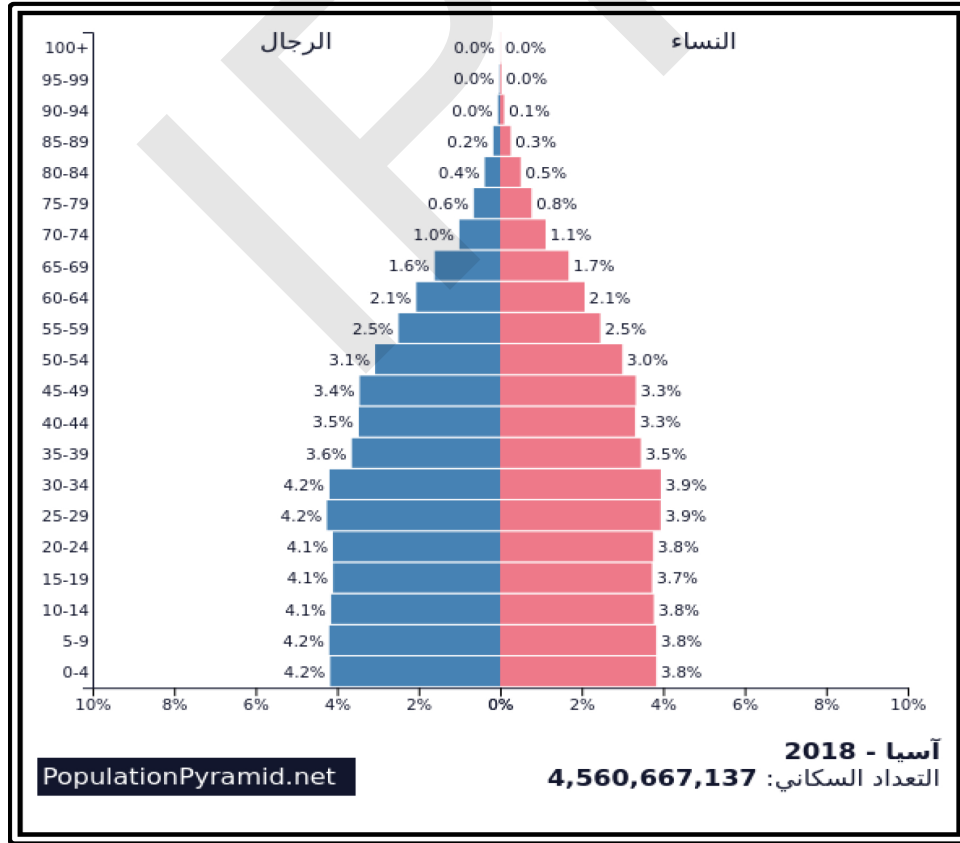
جدول رقم (3): معطيات ديموغرافية لبعض دول القارة الآسيوية 2010

الدولة	معدل المواليد ‰	معدل الوفيات ‰	معدل الزيادة الطبيعية ‰
كوريا الشمالية	8.72	6.15	0.2
الصين	12.17	6.89	0.5
اندونيسيا	18.45	6.25	1.2
البحرين	16.81	4.37	1.2
إيران	18.52	5.94	1.2
قطر	15.54	2.44	1.3
الهند	21.34	7.53	1.3
باكستان	25.30	7.06	1.8
افغانستان	38.11	17.65	2
الاردن	27.06	2.66	2.4

الجدول (4): يبين الفئات العمرية في القارة الآسيوية

الفئات العمرية	آسيا
0 - 14 سنة	24%
15 - 64 سنة	68%
ما فوق 65 سنة	8%

الشكل: هرم قارة آسيا



تميز هرم قارة آسيا بنمو ديموغرافي سريع ناتج عن ارتفاع في معدلات المواليد وانخفاض في معدلات الوفيات، غير أن هذه الزيادة السكانية تختلف حسب الدول، لأن هناك دول لا



تشجع على الزيادة السكانية مثل الصين، بينما توجد دول أخرى تشجع الزيادة السكانية مثل سلطنة عمان.

كما تتميز القارة عموماً بارتفاع نسبة صغار السن 24%، بينما كبار السن 8%، وتتسبب هذه الوضعية الديموغرافية في مشاكل متعددة كالضغط على الخدمات الصحية والتعليمية والعجز الغذائي.

كما تشهد القارة تحركات مجالية داخلها وخارجها بحثاً عن العمل وتحسين الظروف المعيشية.



أن سكان قارة آسيا يمثلون حوالي 60% من سكان العالم، لكونها تضم كلا من الصين والهند وهما أكثر دول العالم سكاناً، كما يلاحظ أن السكان يتركزون أساساً في جنوب شرق القارة نظراً لطبيعة البيئة والمناخ.

الملخص

أولاً: المظاهر الطبيعية

الموقع الجغرافي: تقع قارة آسيا إلى الشرق من قارتي أوروبا وإفريقيا، يحدها من الشمال المحيط المتجمد الشمالي، ومن الجنوب المحيط الهندي، ومن الشرق المحيط الهادي، ومن الغرب جبال أورال التي تفصلها عن قارة أوروبا، وتبلغ مساحتها 44,5 مليون كلم مربع. التضاريس: تنقسم التضاريس إلى ثلاثة أقسام رئيسة هي:

الجبال: ومن أهمها جبال الهمالايا والتي توجد فيها أعلى قمة جبلية في العالم هي قمة إفرست 8848 م، وجبال تيان شان، وجبال زاغروس.

الهضاب: ومن أهمها هضبة الدكن وهضبة التبت، وهضبة شبه الجزيرة العربية.

السهول: ومن أهمها سهول سيبيريا، وسهول دجلة والفرات.

المناخ والنبات: يتأثر مناخ القارة بعوامل عديدة منها اتساع القارة والموقع الفلكي، ومن أهم الأقاليم المناخية الإقليم الاستوائي، والصحراوي، والقطبي والجلي، ومن أهم النباتات الغابات الاستوائية وحشائش الاستبس والفواكه.



ثانياً: المظاهر البشرية

بلغ عدد سكان قارة آسيا حوالي 4,4 مليار نسمة سنة 2020، يتركز معظمهم في جنوب وجنوب شرق آسيا، بينما تقل الكثافة السكانية في سهول سيبيريا والمناطق الجبلية في وسط القارة والمناطق الصحراوية.

كما تتميز القارة بزيادة سكانية مرتفعة بسبب ارتفاع معدلات المواليد وتراجع الوفيات، غير أن هذه الزيادة السكانية تختلف حسب الدول.

نشاط سياقي

في ضوء دراستك لقارة آسيا، تحدث عن مناطق تركيز السكان في موريتانيا مبينا أهم العوامل الطبيعية التي ساهمت في ذلك و اعرضه على زملائك في الفصل.

أسئلة للتقويم

- 1 اذكر أهم الوحدات التضاريسية في قارة آسيا.
- 2 بين أهم الأقاليم المناخية في آسيا.
- 3 حدد أهم نطاقات تركيز السكان في آسيا على الخريطة.
- 4 بين الخصائص الديمغرافية لآسيا.

قارة أوروبا (المظاهر الطبيعية و البشرية)

الدرس السابع

أهداف الدرس

- 1 يتوقع في نهاية الدرس أن يكون التلميذ قادرا على:
1 معرفة الخصائص الطبيعية لقارة أوروبا.
- 2 تحديد الأقاليم المناخية على خريطة أوروبا.
- 3 معرفة الخصائص الديمغرافية للقارة.



العرض



أولا: المظاهر الطبيعية

النشاط الأول
تأمل الخريطة (1-2-3) والأشكال (1-2-3-4) و
اقرأ النص ثم استنتج

1- الموقع والتضاريس

* الموقع والمساحة

الخريطة (1): قارة أوروبا

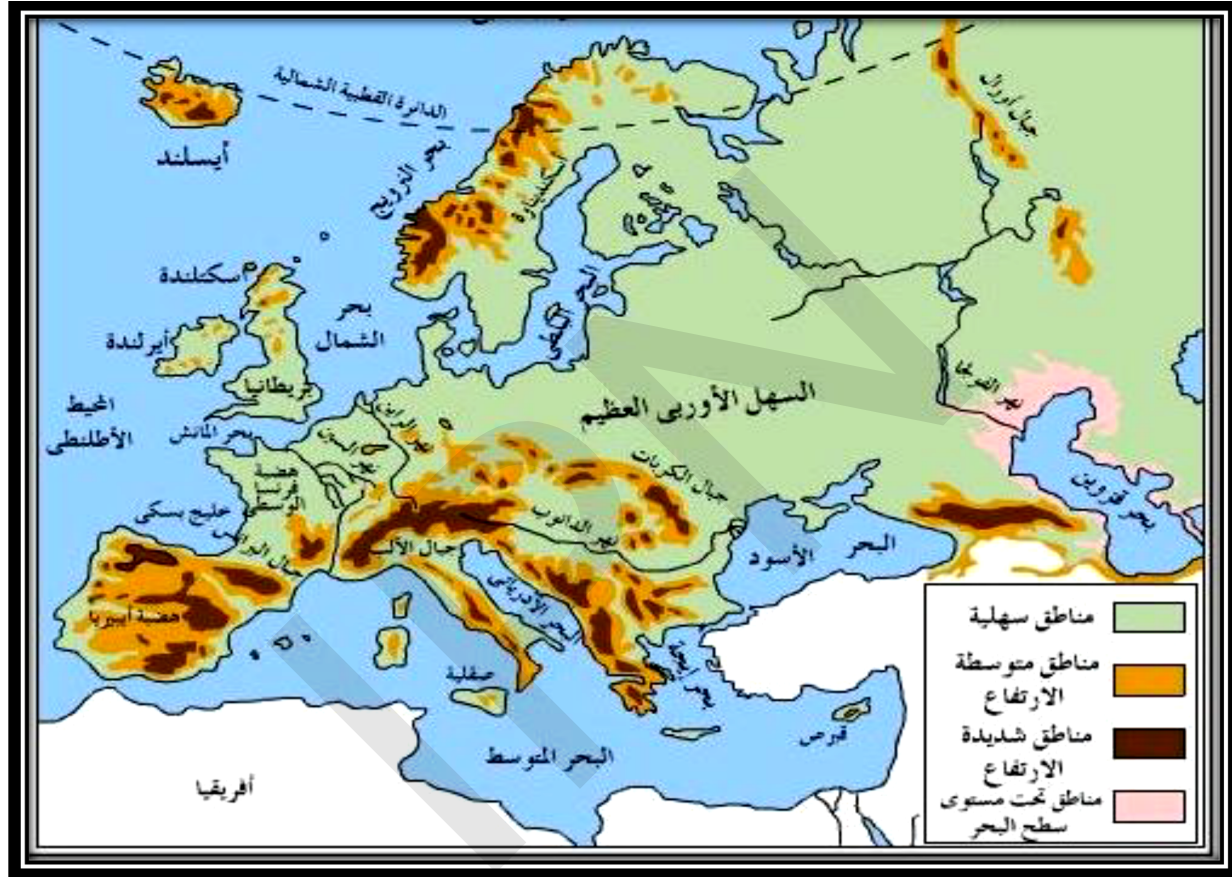


تقع قارة أوروبا في النصف الشمالي من الكرة الأرضية، يحدها من الشرق قارة آسيا ومن الغرب المحيط الأطلسي ومن الجنوب البحر الأبيض المتوسط والبحر الأسود ومن الشمال المحيط المتجمد الشمالي.

أما فلكيا فتتمدد بين خطي طول 25° غربا و66° شرقا، ودائرتي عرض 36° و71° شمالا (المنطقة المعتدلة والباردة)، وتبلغ مساحتها 10.5 مليون كلم مربع، وتعد من أصغر قارات العالم مساحة، إلا أنها من أكثرها كثافة بالسكان.

* التضاريس

الخريطة (2): تضاريس قارة أوروبا



يمكن تقسيم أوروبا إلى الأشكال التضاريسية التالية:

الجبال

- **الجبال الشمالية الغربية:** وتمتد عبر شمال غربي فرنسا وإيرلندا وشمال بريطانيا والنرويج إلى الشمال الغربي للجزء الأوروبي من روسيا.

- **المرتفعات الوسطى:** وهي جبال قليلة الارتفاع وهضاب عالية داخل أوروبا الوسطى والجبال والهضاب المنخفضة في وسط ألمانيا.

- **سلسلة جبال الألب:** تمتد من إسبانيا إلى بحر قزوين، وهي سيرانيغادا والبرانس بإسبانيا وجبال الأبين والالب الدينارية وجبال البلقان والكاريات وبها أعلى قمة أوروبية جبل مونت بلان 5000 م.

الهضاب:

تمتد في وسط القارة من الشرق إلى الغرب، وتقطعها أودية نهريّة، وتجاورها الجبال، ومن أهمها:

- **هضبة الميزيتا:** تشغل معظم دولة إسبانيا وتنقسم إلى الميزيتا الشمالية والميزيتا الجنوبية.

- **هضبة فرنسا الوسطى:** في فرنسا، تقطعها أنهار السين واللوار

- **هضبة بافاريا:** في وسط وجنوب المانيا

السهول:

- **سهول ساحلية:** تمتاز السهول الساحلية في أوروبا بأنها متسعة مثل:

1- سهول المحيط الأطلسي في الغرب والشمال الغربي.

2 - سهول البحر الأبيض المتوسط في الجنوب.

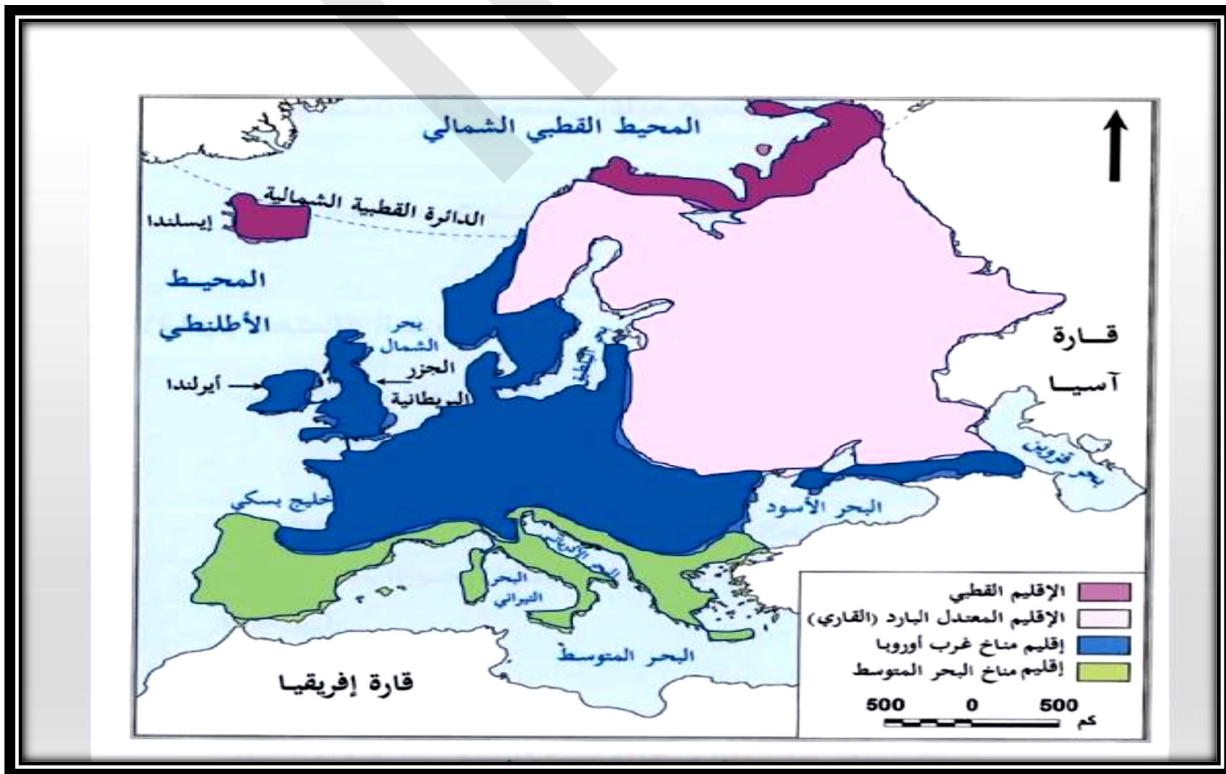
3 - سهول البحر البلطيق وبحر الشمال في الشمال.

- **سهول فيضية:** وهي سهول خصبة كونتها الأنهار مثل السهل الأوروبي العظيم الذي يمتد من المحيط الأطلسي غربا حتى جبال الأورال شرقا.

كما توجد في القارة العديد من الأنهار من أهمها: نهر الفولجا، وهو أطول أنهار أوروبا ويصب في بحر قزوين، نهر السين ويصب في بحر الشمال، ونهر الدانوب ويصب في البحر الأسود، نهر بادي (بو) ويصب في البحر الأدرياتي، ونهر الراين ويصب في بحر المانش.

المناخ والنبات

الخريطة (3): المناخ في أوروبا



يتأثر مناخ قارة أوروبا بعدة عوامل وهي:

الموقع بالنسبة لدوائر العرض:

تمتد قارة أوروبا بين دائرتي عرض 36° - 71° شمالاً، حيث تكون معظم مساحتها في المنطقة المعتدلة الشمالية، التي تمتاز باعتدال درجة الحرارة، وسيطرة الرياح الغربية الرطبة عليها، الحاملة الدفء والرطوبة، والتي تأتي من المحيط الأطلسي.

شكل قارة أوروبا:

نتيجة صغر حجم القارة بالمقارنة مع قارات العالم الأخرى فإن المؤثرات البحرية والمحيطية تقل إلى جميع أنحاء القارة.

اتجاه السلاسل الجبلية:

تعتبر جبال الألب من أهم مرتفعات قارة أوروبا، حيث أنها تمتد من الغرب إلى الشرق في جزئها الجنوبي، ويؤثر هذا الامتداد بشكل كبير على مناخ القارة، فتتوغل الرياح الغربية القادمة من المحيط الأطلسي في القارة بسبب محاذاتها لتلك السلاسل الجبلية. وتعتبر هذه السلاسل عائقاً أمام امتداد التأثيرات القطبية المتواجدة في شمال القارة باتجاه جنوبها، وعائقاً أيضاً أمام كتل الهواء التي تأتي من إفريقيا والتي تتجه إلى شمال القارة. يرتبط النبات بالمناخ ومن الأقاليم المناخية في القارة:

1 - الإقليم القطبي:

يمتد على الأجزاء الشمالية التي تطل على المحيط المتجمد الشمالي أي الدول الاسكندنافية بما في ذلك ايسلندا، ويتميز هذا المناخ بشتاء رطب شديد البرودة بسبب انخفاض درجات الحرارة فيه إلى ما دون الصفر المئوي ويستمر هذا الانخفاض لمدة تسعة أشهر، حيث تغطي الثلوج الأراضي والمساحات الخضراء وتسمح الظروف المناخية بظهور نباتات التندرا والأعشاب القطبية.

2 - الإقليم القاري (إقليم شرق أوروبا):

يغطي الإقليم القاري الجزء الأوسط والشرقي من أوروبا، ويتميز بدرجة حرارته الكبير صيفا، وشتائه البارد الطويل حيث تنخفض فيه درجة الحرارة إلى ما دون الصفر المئوي مسببة تجمد الأنهار، وتتساقط الأمطار في هذا الإقليم صيفا، وتنمو فيه الغابات النفضية والصنوبرية.

3 - إقليم مناخ غرب أوروبا:

وفيه تتباين درجات الحرارة والأمطار، نظرا لتباين مظاهر السطح فيه، فكلما ارتفعنا نجد

أن درجات الحرارة تنخفض، وتتوزع فيه الأمطار على مدار السنة وتنمو في هذا الإقليم الغابات النفضية ومن أهم أشجارها البلوط.

4 - إقليم مناخ البحر المتوسط:

يتمركز هذا المناخ في الأجزاء الجنوبية من القارة التي تطل على البحر المتوسط، فمن البلدان التي يسود فيها هذا المناخ: هي إسبانيا والبرتغال وجنوب فرنسا وإيطاليا واليونان وتركيا، ويتميز هذا المناخ بأن أمطاره تسقط في فصل الشتاء، كما يتميز باعتدال درجة الحرارة في فصل الشتاء وارتفاعها في فصل الصيف، وتنمو في هذا الإقليم أشجار الفاكهة مثل التفاح.



أن أوروبا تقع في نصف الكرة الأرضية الشمالي، وتتميز بتنوع تضاريسها وأقاليمها المناخية، حيث تقع في المنطقتين المعتدلة والباردة.

ثانياً: المظاهر البشرية

النشاط الثاني

تأمل الجدول (1)، (2)، (3)، (4) والخريطة والشكل وقرأ النص ثم استنتج

- التطور العددي للسكان والتوزيع

* التطور العددي

الجدول (1): يبين تطور عدد سكان أوروبا في الفترة ما بين (1970 - 2020)

السنة	1970	1980	1985	1990	1995	2006	2020
عدد السكان (مليون نسمة)	460	484	492	501	752.7	748	742

جدول 2: حجم سكان القارات حسب تقديرات سنة 2020

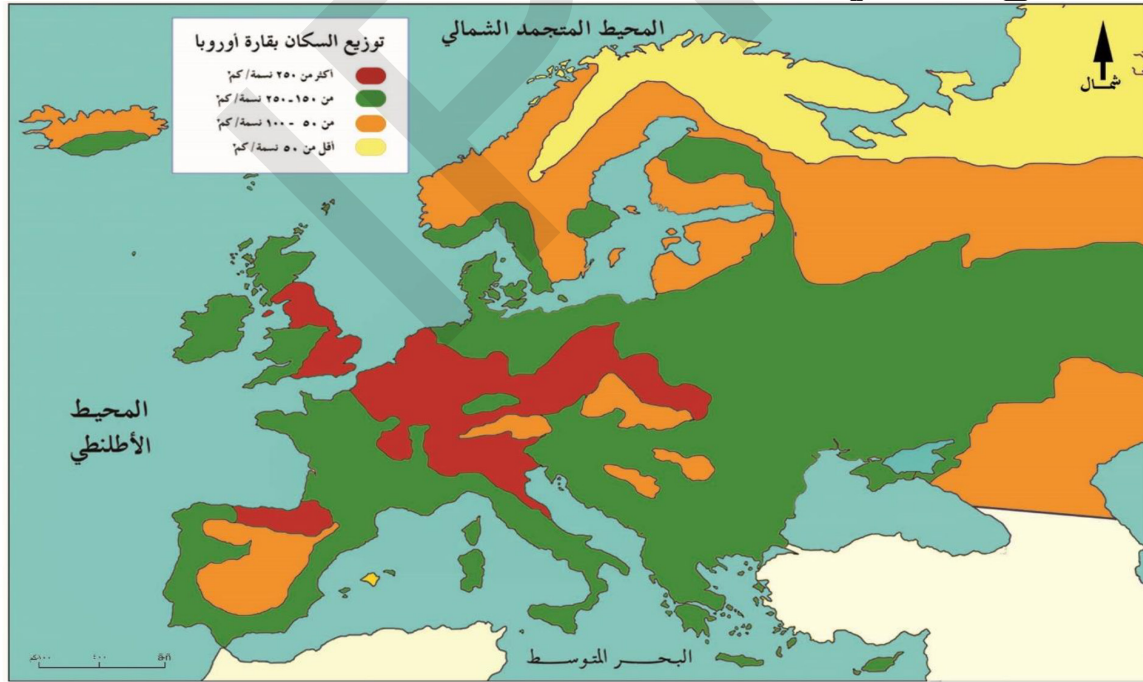
القارة	عدد السكان	نسبة السكان
آسيا	4,4 مليار نسمة	59,64%
افريقيا	1,2 مليار نسمة	16,26%
أمريكا	993 مليون نسمة	13,46%
أوروبا	742 مليون نسمة	10,05%
أوقيانوسيا	42 مليون نسمة	0,56%

من خلال الجدول (1) نلاحظ أن سكان قارة أوروبا في تزايد بطيء حيث انتقل من 460 مليون نسمة سنة 1970، إلى 501 مليون نسمة سنة 1990، ليصل إلى 748 مليون نسمة سنة 2006، ثم تراجع عدد السكان إلى 742 مليون نسمة سنة 2020 بسبب ارتفاع معدلات الوفيات وتراجع معدل المواليد في بعض الدول.

كما يمثل سكان قارة أوروبا 10% من سكان العالم كما هو موضح في الجدول (2).

* توزيع السكان

خريطة: توزيع السكان في أوروبا



يقدر عدد سكان أوروبا بحوالي 742 مليون نسمة لسنة 2020 وبلغ معدل الكثافة السكانية 70 نسمة / كلم مربع، وتمتاز أوروبا عن غيرها من القارات بارتفاع نسبة سكان المدن (بحوالي 78% من إجمالي السكان)، وتتوزع بشكل متفاوت بين مدن أوروبا، وتختلف الكثافة السكانية داخل دول القارة، وضمن الدولة الواحدة حيث تتوزع الكثافة السكانية كما يلي:



✦ كثافة سكانية مرتفعة: (أكثر من 100 نسمة/كلم مربع) بسبب قيام المدن الصناعية وتوفر الأنهار.

✦ كثافة سكانية متوسطة: (بين 50 - 100 نسمة / كلم مربع) بسبب وعورة التضاريس.

✦ كثافة سكانية منخفضة: (أقل من 50 نسمة / كلم مربع) بسبب برودة المناخ.

أما نطاقات تركيز السكان في قارة أوروبا فهي:

- النطاق الشرقي:

ويشمل دول روسيا الاتحادية، أوكرانيا، بيلاروسيا، بولندا، المجر، سلوفينيا، التشيك، سلوفاكيا، المجر، بلغاريا، رومانيا، مولدافيا، استونيا، لاتفيا، ليتوانيا، جورجيا، أرمينيا، أذربيجان، الجانب الأوربي من تركيا، ويتصدر هذا النطاق أقاليم القارة من حيث حجم السكان حيث يقطنه نحو 342,1 مليون نسمة وهو ما يكون 45,4% من جملة سكان القارة، وتشكل مساحته ما يقارب 63% من جملة مساحة أوروبا تقريبا.

- النطاق الغربي:

تشكل أراضي هذا النطاق الذي يضم بريطانيا، أيرلندا، فرنسا، هولندا، بلجيكا، لوكسمبورج، موناكو، سويسرا، النمسا، ألمانيا ما يعادل 10% من جملة مساحة أوروبا، ومع ذلك يقطنه نحو 243,6 مليون نسمة وهو ما يكون 32,4% من جملة سكان القارة، لذا يعد أكثر جهات أوروبا سكانية حيث تبلغ كثافة السكان فيه حوالي 121 نسمة في الكيلومتر المربع الواحد (314 نسمة / ميل²). ويتباين توزيع السكان في هذا النطاق من بقعة لأخرى إلا أن الازدحام السكاني يبلغ أقصاه في أقاليم المدن الرئيسية والأقاليم الصناعية والتعدينية وخاصة في ألمانيا وبريطانيا وفرنسا.

- النطاق الجنوبي:

ويضم دول إيطاليا، إسبانيا، البرتغال، اليونان، صربيا، البوسنة والهرسك، البانيا، كرواتيا، مقدونيا، مالطة، أندورا، الفاتيكان، سان مارينو، مستعمرة جبل طارق. ويمثل أراضي هذا النطاق من القارة ما يقارب 13% من مساحة أوروبا، ويقطنه نحو 143 مليون نسمة وهو ما يكون 19% من جملة سكان القارة.

- النطاق الشمالي:

تشكل أراضي هذا النطاق الذي يضم أيسلندا، النرويج، السويد، فنلندا، الدنمارك نحو 14% من جملة مساحة القارة، ولا يتجاوز عدد سكانه 24 مليون نسمة، وهو ما يعادل 3,2% فقط من جملة سكان أوروبا.

2- الخصائص الديموغرافية للسكان:



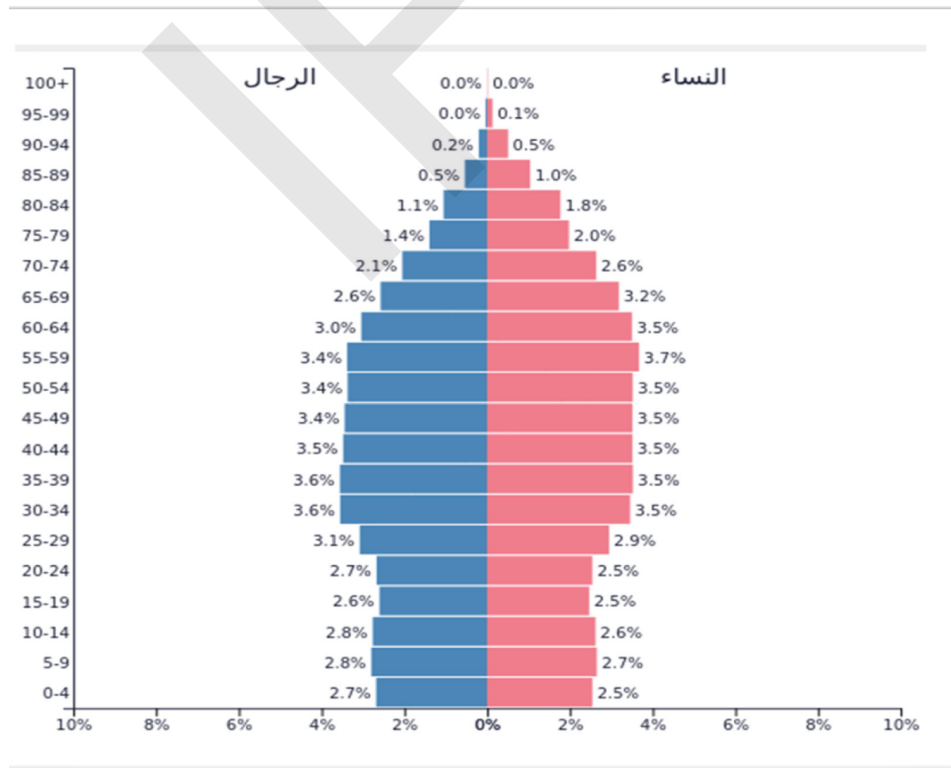
جدول رقم (3): معطيات ديموغرافية لبعض دول القارة الأوروبية

الدولة	معدل المواليد ‰	معدل الوفيات ‰	معدل الزيادة الطبيعية %
المانيا	10.29	13.69	0.3 -
اليونان	6.72	9.01	0.3 -
روسيا	9.36	11.55	0.2 -
النمسا	11.87	13.83	0.2 -
ايطاليا	8.07	9.38	0.1 -
سويسرا	9.56	8.65	0.1
هولندا	10.30	8.78	0.2
اسبانيا	10.91	8.72	0.2
بريطانيا	12.34	9.33	0.3
فرنسا	12.43	8.65	0.4

الجدول (4): الفئات العمرية في القارة الأوروبية

الفئات العمرية	أوروبا %
0 - 14 سنة	16%
15 - 64 سنة	66%
ما فوق 65 سنة	18%

الشكل: هرم قارة أوروبا 2020



من خلال الجدول (1) نلاحظ أن أعداد سكان أوروبا في الفترة الأخيرة تراجع، وذلك يرجع إلى انخفاض في معدلات المواليد والوفيات، وبالتالي تصبح الزيادة الطبيعية في بعض دول

القارة سالبة.

نلاحظ كذلك من خلال الجدول (4) أن نسبة صغار السن قليلة 16%، في حين تصل نسبة كبار السن 18%، وبالتالي فإن المجتمع يميل إلى الشيخوخة.



أن أوروبا من أكبر القارات كثافة بالسكان بحيث تصل 70 نسمة / ك م²، كما تتميز بانخفاض نسبة الزيادة الطبيعية وارتفاع نسبة الشيخوخة.

الملخص

أولاً: المظاهر الطبيعية

الموقع الجغرافي: تقع قارة أوروبا غرب قارة آسيا، يحدها من الشمال المحيط المتجمد الشمالي، ومن الجنوب البحر الأبيض المتوسط، ومن الغرب المحيط الأطلسي، ومن الشرق جبال أورال التي تفصلها عن قارة آسيا، وتبلغ مساحتها حوالي 10,5 مليون كلم مربع.

التضاريس: تنقسم إلى ثلاثة أقسام رئيسية هي:

الجبال: ومنها جبال الألب، وجبال البرانس التي تفصل بين فرنسا وإسبانيا.

الهضاب: ومنها هضبة فرنسا الوسطى، وهضبة بوهيميا في ألمانيا، وهضبة المزيثا في إسبانيا.

السهول: وهي سهول واسعة تشغل نصف مساحة القارة، ومنها السهل الأوروبي العظيم.

المناخ والنبات: إن موقع قارة أوروبا الفلكي جعل مناخها أكثر اعتدالاً من مناخ القارات الأخرى، ومن الأقاليم المناخية الإقليم القطبي، وإقليم شرق أوروبا، وإقليم البحر الأبيض المتوسط، كما توجد في القارة بعض الغابات النفضية والصنوبرية، ونباتات التندرا.

كما تتوفر القارة على عدة أنهار، منها نهر السين، ونهر الدانوب، ونهر الفولغا.

ثانياً: المظاهر البشرية

يعيش في قارة أوروبا 742 مليون نسمة حسب تقديرات سنة 2020، يتركز معظمهم في دول غرب وجنوب أوروبا ووسطها، بينما تنخفض الكثافة السكانية في شمال القارة بسبب البرودة الشديدة.

أما الزيادة الطبيعية في أوروبا فهي ضعيفة جداً بسبب الانخفاض في معدلات المواليد والوفيات، وهذا واضح من خلال هرم سكان أوروبا، حيث ترتفع فئة كبار السن على حساب فئة صغار السن.

نشاط سياقي

تعتبر السهول عاملا أساسيا في تركيز السكان، اذكر أهم السهول الموجودة بموريتانيا، مينا مدى تركيز السكان فيها، وأهم العوامل التي ساهمت في ذلك.

أسئلة للتقويم

- 1 اذكر الموقع الفلكي لقارة أوروبا.
- 2 اذكر أهم الأنهار الموجودة في أوروبا.
- 3 اذكر مناطق تركيز السكان في قارة أوروبا.
- 4 ماهي أسباب ارتفاع نسبة الشيخوخة في أوروبا؟



قارة أوقيانوسيا (المظاهر الطبيعية والبشرية)

الدرس الثامن

أهداف الدرس

- 1 يتوقع في نهاية الدرس أن يكون التلميذ قادرا على:
1 معرفة الخصائص الطبيعية لقارة أوقيانوسيا.
- 2 معرفة الأقاليم المناخية في القارة وتمثيلها على خريطة.
- 3 معرفة الخصائص الديمغرافية للقارة.



العرض



أولا: المظاهر الطبيعية

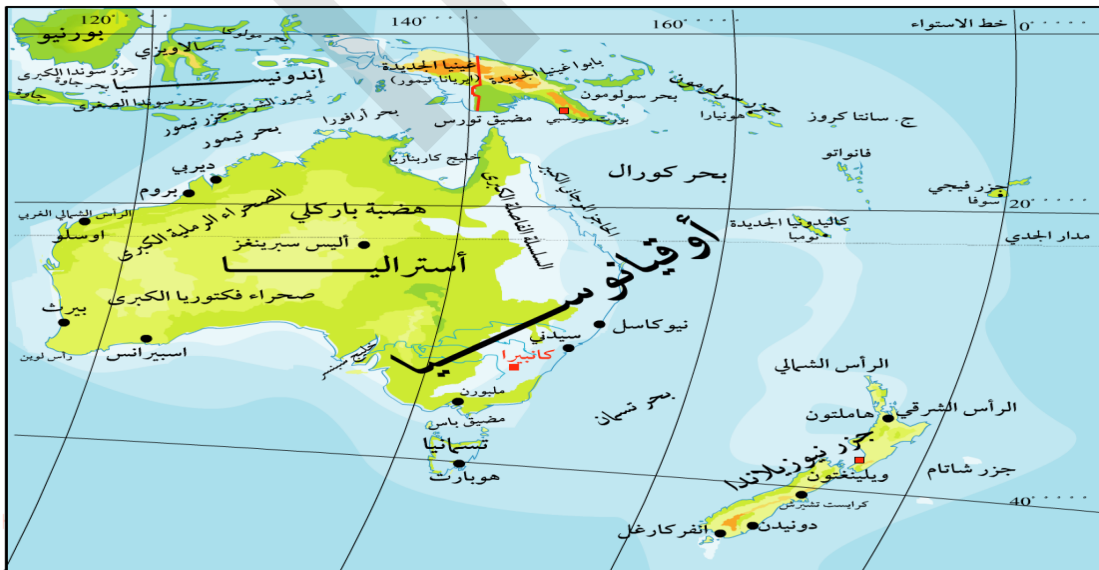
تأمل والخريطة (1-2) الأشكال (1-2-3-4) واقرأ
النص ثم استنتج

النشاط الأول

1- الموقع والتضاريس

* الموقع والمساحة

الخريطة (1): قارة أوقيانوسيا



تقع قارة أوقيانوسيا جنوب شرق قارة آسيا، يحدها شرقا المحيط الهادي، ومن الغرب المحيط الهندي، ومن الجنوب المحيط المتجمد، ويفصلها بحر أرافور عن جزر أندونيسيا شمالا.



أما فلكيا فتتحصرن دائرتي عرض 30° درجة شمالا، و 50° درجة جنوبا، وبين خطي طول 133° حَتَّى 178° شرقا، وتبلغ مساحة أوقيانوسيا 8.5 مليون كلم مربع.

تَنَقَّسِمُ جُزُرُ أوقيانوسيا إلى أربع مجموعات هي:

(1) مَجْمُوعَةُ جزيرة أستراليا والجزر الملحقة بها مثل جزيرة تسمانيا، وكلمة أستراليا تعني «الأرض الجنوبية»، حيث تبلغ مساحتها حوالي 7.6 مليون كيلومتر مربع. وتتصف تضاريسها بوجود الجبال في الشرق والسهول في الوسط، والهضاب في الغرب.

(2) مَجْمُوعَةُ جزر ميلانيزيا، أي مجموعة الجزر السوداء، وهي مجموعة الجزر التي تمتد من جزيرة نيوجينيا غربا حتى جزر فيجي شرقاً، وهي جزر بركانية نشأة، تكثُر بها الجبال البركانية والثربة الخصبة.

(3) مجموعة جزر بولينيزيا أي مجموعة الجزر الكثيرة، وتتكون من عدد كبير جداً من الجزر، وتحتل منطقة كبيرة مثلثة الشكل، رأسه في الشمال عند جزر هاواي، وقاعدته في الجنوب، تمثّل جزر إيستر طرفها الشرقي وجزر نيوزيلندا طرفها الغربي. ومن أهم جزر هذه المجموعة أيضا جزر فينكس، وتونجا، وساموا، وكوك، وتومائي، وتاهيتي وغيرها.

(4) مَجْمُوعَةُ جزر ميكرونيزيا أي مجموعة الجزر الصغيرة، وإذ تتكون من مجموعة جزر مزجائية صغيرة المساحة، نذكر منها ماريانا، وجوام، ومارشال وكارولين وغيرها، وهي جزر قليلة الارتفاع.

*** التضاريس**

الخريطة (2): تضاريس قارة أوقيانوسيا



تنقسم التضاريس في قارة أوقيانوسيا إلى ثلاثة أنواع رئيسية:

● الجبال:

تتمثل في الجبال الشرقية التي تمتد على هيئة قوس من الشمال إلى الجنوب موازية لخط الساحل على المحيط الهادي (جبال الحاجز الكبير)، وتعرف أيضا بالألب الأسترالية، كما توجد جبال في وسط القارة تعرف بسلسلة مانكدونل ومانسغريف.

● الهضاب:

تشبه تضاريس أوقيانوسيا تضاريس إفريقيا، حيث تشغل الهضبة الغربية نصف مساحة أستراليا وتقع في غرب القارة، وهي هضبة مستوية ومحدودة الارتفاع يتراوح ارتفاعها ما بين 300 - 600 م فوق مستوى سطح البحر.

● السهول:

وتتمثل في السهول الوسطى، وهي واسعة الامتداد، مستوية السطح، يمر بها نهر مري ودارلنج.

3 - المناخ والنبات

يتأثر مناخ أوقيانوسيا بمجموعة من العوامل من أهمها:

● الموقع الفلكي:

نتيجة لتكون هذه القارة من مجموعة من الجزر المختلفة؛ فإن مناخها يغلب عليه المناخ المداري في معظم مناطقها؛ وبذلك فإن أراضيها تتمتع بالمناخ الدافئ في كافة أيام السنة، وقد تنخفض درجات الحرارة قليلاً جدًا لتصل إلى نحو 20 درجة مئوية بأغلب المناطق بهذه القارة، وقد تصل درجة الحرارة إلى 27 درجة مئوية في معظم مناطق القارة، وتختلف درجات الحرارة تبعًا لموقع المناطق الفلكية؛ حيث أن المناطق الأكثر قربًا من خط الاستواء تكون أكثر دفئًا من تلك التي تبتعد عن خط الاستواء.

● الارتفاع عن مستوى سطح البحر:

هناك بعض المناطق في القارة تتميز بمناخها البارد، وذلك لأن هذه المناطق جبلية مرتفعة؛ حيث أن درجات الحرارة تختلف بالارتفاع عن مستوى سطح البحر، وهناك تتساقط الثلوج على مرتفعات هذه المناطق، ويختلف تساقط الأمطار بين مناطق قارة أوقيانوسيا؛ حيث أن سقوط الأمطار يكون قليلاً بالمناطق المنخفضة مقارنةً بتساقط الأمطار في الأماكن المرتفعة.

يرتبط النبات بالمناخ، ومن أهم الأقاليم المناخية:

● الإقليم الموسمي:

يتمثل في الأطراف الشمالية من القارة وهو حار بشكل عام، وخاصة في فصل الصيف، ويتعرض الإقليم لتأثير الرياح الموسمية الغربية صيفًا فتسقط الأمطار على طول الساحل وتقل نحو الداخل، وتنمو في الإقليم الغابات المدارية مثل غابات المانجروف.

● إقليم المناخ الصحراوي

هو أكثر الأقاليم المناخية اتساعا ويغطي وسط القارة وغربها، وتنمو فيه الحشائش الشوكية والصبار والسنت الصحراوي وهي نباتات تتحمل الجفاف.

● إقليم المناخ المعتدل البارد

ويشمل تسمانيا ونيوزيلندا وأحيانا شرق فكتوريا حيث يتمتع هذا الإقليم بمناخ بحري، وهبوب الرياح الشمالية مما أدى إلى تساقط الأمطار طوال العام مع زيادة كميات الرطوبة في الجهات الغربية للجزيرة عما هي عليه في الجهات الشرقية، يسجل هذا الإقليم درجات حرارة أقل عما هي عليه في أستراليا لموقعه من خطوط العرض ولعامل التضاريس أيضا، وتنمو فيه الأشجار النفطية وأشجار الكافور.



أن أوقيانوسيا هي أصغر قارات العالم مساحة وتقع جنوب شرق آسيا، وتتكون من آلاف الجزر، ويغلب على مناخها الطابع المداري الذي يتميز بالدفء في معظم أيام السنة.

ثانيا: المظاهر البشرية

تأمل الجدول (1)، (2)، (3)، (4) والخريطة، والشكل
واقرا النص ثم استنتج

النشاط الثاني

- التطور العددي للسكان والتوزيع

* التطور العددي

الجدول (1): يبين تطور عدد سكان أوقيانوسيا في الفترة ما بين (1950 - 2020)

السنة	1950	1975	1980	1997	2000	2010	2016	2020
عدد السكان (مليون نسمة)	13	21	23	29	30	36	38	42

الجدول (2): حجم سكان القارات حسب تقديرات سنة 2020

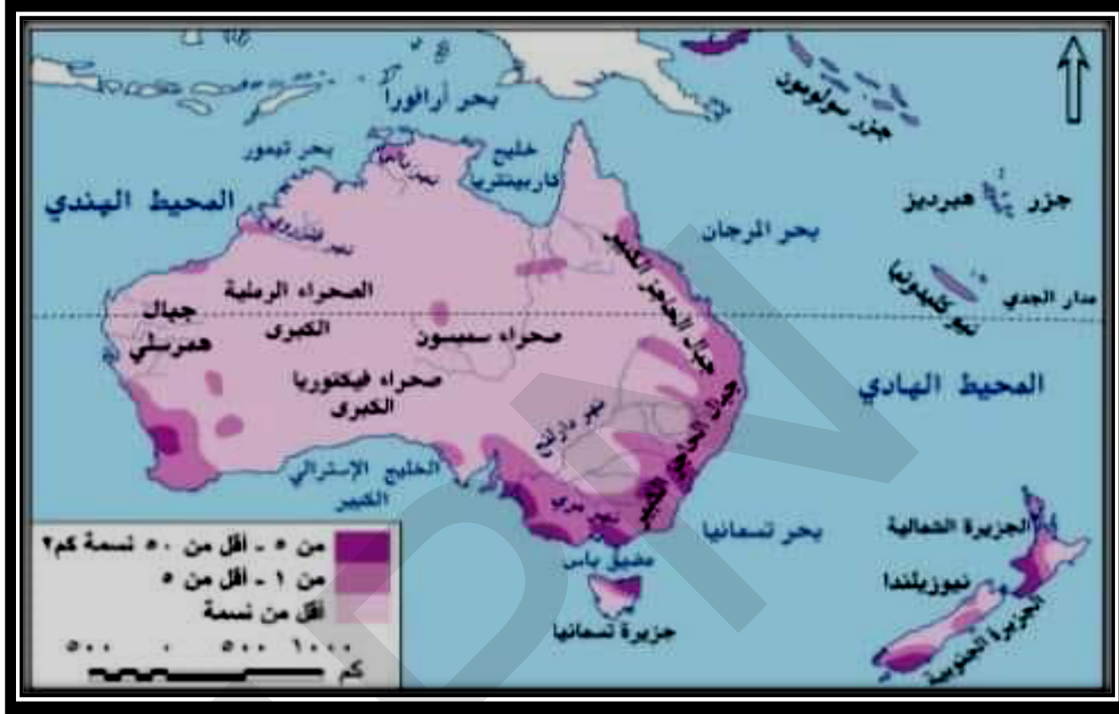
القارة	عدد السكان	نسبة السكان
آسيا	4,4 مليار نسمة	59,64%
افريقيا	1,2 مليار نسمة	16,26%
أمريكا	993 مليون نسمة	13,46%
أوروبا	742 مليون نسمة	10,05%
أوقيانوسيا	42 مليون نسمة	0,56%

من خلال الجدول (1) نلاحظ أن سكان قارة أوقيانوسيا في تزايد بطيء حيث انتقل العدد

من 13 مليون سنة 1950 إلى 23 مليون سنة 1980، ليصل العدد إلى 30 مليون سنة 2000، ثم إلى 42 مليون نسمة سنة 2020.

كما يمثل سكان قارة أوقيانوسيا 0.5% من سكان العالم وهي أصغر قارة من حيث عدد السكان كما هو موضح في الجدول (2).

* توزيع السكان خريطة: الكثافة السكانية



تتحكم العوامل التاريخية في توزيع سكان قارة أوقيانوسيا حيث نجد أن السكان القدماء يتوزعون في المناطق الداخلية، بينما السكان الجدد يتوزعون في السواحل وفي المناطق السهلية من استراليا ونيوزلندا وكذلك الظروف الطبيعية والاقتصادية ومن خلال خريطة توزيع السكان نلاحظ الكثافات السكانية التالية:

- مناطق كثيفة السكان مثل: السواحل الشرقية والمناطق الصناعية الكبرى والمناطق الزراعية الخصبة مثل: سهول نهر مري ودارلنج.
- مناطق قليلة الكثافة تتمثل في وسط وغرب استراليا بسبب الظروف الصحراوية، ومناطق الشمال (حشائش السافانا والغابات المدارية).

2- الخصائص الديموغرافية للسكان:

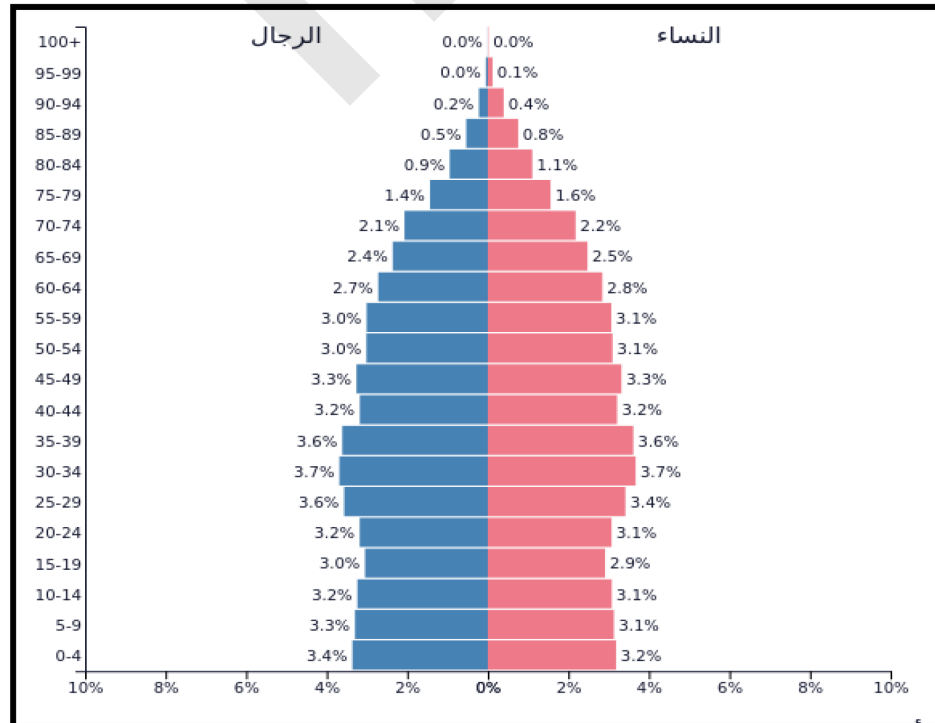
جدول رقم (3): معطيات ديموغرافية لبعض دول قارة أوقيانوسيا

الدولة	معدل المواليد ‰	معدل الوفيات ‰	معدل الزيادة الطبيعية %
استراليا	12.39	6.81	0.5
نيوزيلندا	13.81	7.10	0.6
بولينيزيا	15.67	4.80	1
فانواتو	21.08	7.49	1.3
فيجي	21.52	5.88	1.5
ساموا	22.92	5.36	1.7
جزر مارينا الشمالية	21.05	3.17	1.7
ميكرونيزيا	22.57	4.40	1.8
بابوغينيا الجديدة	26.95	6.62	2
جزر سليمان	28.60	3.96	2.4

الجدول (4): الفئات العمرية في قارة أوقيانوسيا

أوقيانوسيا	الفئات العمرية
23%	0 - 14 سنة
65%	15 - 64 سنة
12%	ما فوق 65 سنة

الشكل: هرم قارة أوقيانوسيا 2020





تتميز قارة أوقيانوسيا بنمو سكاني بطيء بسبب الانخفاض في معدلات المواليد والوفيات في أغلب دول القارة، وقد انعكس هذا على الهرم السكاني، حيث نلاحظ أن فئة صغار السن قليلة 23%، بينما تزداد الفئة المتوسطة السن، وهي الفئة المنتجة على حساب الفئات الأخرى.



أن عدد سكان أوقيانوسيا قليل جدا بحيث لا يمثل سكانها الا نسبة 0,5% من سكان العالم، كما أن أغلب سكانها يوجد في كل من أستراليا ونيوزيلندا، وتنخفض بها نسبة صغار السن بحيث لا تتعدى 23% من مجموع السكان.

الملخص

أولا: المظاهر الطبيعية

الموقع الجغرافي: تقع قارة أوقيانوسيا جنوب شرق قارة آسيا، يحدها من الشمال بحر أفوروتيمور، ومن الجنوب المحيط المتجمد الجنوبي، ومن الشرق المحيط الهادي، ومن الغرب المحيط الهندي، وتبلغ مساحتها حوالي 8,5 مليون كلم مربع.

التضاريس: وتنقسم التضاريس إلى ثلاثة أقسام رئيسة هي:

● الجبال: ومنها الجبال الشرقية وتعرف بجبال الألب الأسترالية، وجبال ماكدونال في الوسط.

● الهضاب: ومنها الهضبة الغربية.

● السهول: تمتد بين الجبال الشرقية والهضبة الغربية ومنها سهول نهري موراي ودارلنج.

المناخ والنبات: يتأثر مناخ القارة بعوامل عديدة منها مرور مدار الجدي وسط القارة، واتساع القارة، ومن الأقاليم المناخية الإقليم الصحراوي والإقليم الموسمي والإقليم المحيطي، وتسود في القارة الغابات الاستوائية والنفضية، كما توجد بعض الفواكه والحمضيات وبعض الحشائش الشوكية.

ثانيا: المظاهر البشرية

يعيش في القارة حوالي 42 مليون نسمة حسب تقديرات سنة 2020، يتركز معظمهم على السواحل الشرقية وفي المناطق الصناعية الكبرى والزراعية الخصبة، بينما تنخفض الكثافة





السكانية في وسط القارة وشمالها حيث الصحاري، ووعورة التضاريس. تتميز القارة بنمو سكاني منخفض في أغلب دول القارة، وهذا واضح من خلال هرم السكان، حيث ترتفع نسبة متوسطي السن على حساب فئة صغار السن.

نشاط سياقي



انطلاقاً مما درست عن تنوع النباتات في قارة أوقيانوسيا نظراً لتوفر الظروف الملائمة لنموها، اذكر أسماء بعض النباتات الموجودة في موريتانيا (أمثلة من المنطقة التي تسكن فيها).

أسئلة للتقويم

- 1 حدّد الموقع الجغرافي و الفلكي لأوقيانوسيا.
- 2 دار نقاش بينك وبين زميلك حول القارات الخمسة فلمست من حديثه خلطه بين تسمية قارة أوقيانوسيا بأستراليا. فطلب منك تصويبه بالإجابة عن أسئلته، كأيّن تقع القارة تحديداً؟ وما الخصائص الطبيعية والبشرية لها؟
- 3 اذكر اسم دولتين من أهم دول أوقيانوسيا.





مشروع صفي



ينجز التلاميذ خلال مراحل تنفيذ الوحدة الثانية مشروعاً صفياً، وذلك تبعا لخطوات تشمل المراحل التالية:



المشروع المقترح:

إطلاق حملة تحسيس حول خطورة الهجرة غير الشرعية، وتوزيع التلاميذ إلى فرق.

• فريق يقوم بإعداد ملصق أو مطوية تتضمن التعريف بهذه الظاهرة ومخاطرها الكثيرة.

• فريق آخر يقدم تمثيلية عن خطورة هذا الموضوع.


- استشارة أستاذ التربية الإسلامية حول رأي الدين في وجوب حفظ النفس من المهالك المحققة (قوارب الموت).





IPN





الوحدة الثالثة:
نماذج من الأنشطة الاقتصادية في القارات





النشاطات الاقتصادية في السودان ونيجيريا

الدرس التاسع

أهداف الدرس

- يتوقع في نهاية الدرس أن يكون التلميذ قادرا على:
- 1 تحديد الموقع الجغرافي للسودان على خريطة إفريقيا.
 - 2 التمكن من التعرف على مقومات ومشاكل الاقتصاد السوداني.
 - 3 تحديد الموقع الجغرافي لنيجيريا على خريطة إفريقيا.
 - 4 التمكن من التعرف على مقومات ومشاكل الاقتصاد النيجيري.



العرض



أولا: الأنشطة الاقتصادية في السودان

الموقع الجغرافي والمساحة

تقع السودان في شمال شرق إفريقيا يحدها من الشرق إثيوبيا وأريتريا ومن الشمال مصر وليبيا ومن الغرب تشاد وجمهورية إفريقيا الوسطى ومن الجنوب جنوب السودان. (انظر خريطة السودان)، وتبلغ مساحتها 1882000 كلم مربع، وعدد سكانه حوالي 44 مليون نسمة حسب تقديرات 2020.

خريطة السودان



تأمل الصورة (1)، (2)، (3)، والجدول واقرأ النص، ثم استنتج

الصورة (1): محاصيل فلاحية في السودان

القطن



القمح



الفول السوداني



الغابات



الثروة الحيوانية والسمكية



1- الفلاحة

إن تباين الظروف المناخية في السودان، أدى إلى تنوع النشاط الزراعي وتعدد المحاصيل الزراعية، وتتمثل المحاصيل التي تزرع في السودان في محاصيل الغلال كالذرة الرفيعة، والدخن، والقمح، والذرة الشامية، ومحاصيل الزيوت كالفول السوداني، والسمسم، والمحاصيل البقولية كالفاصوليا، والحمص، والعدس، ومحاصيل الألياف كالقطن، ومحاصيل الخضروالفاكهة.

تحتل السودان مركزا متقدما من ناحية تعداد الثروة الحيوانية، التي تقدر بحوالي 104.3 مليون رأس، تمثل الأبقار منها 29.6 مليون رأس، والضأن 39.3 مليون رأس، والماعز 30.5 مليون رأس، والإبل 4.7 مليون رأس.

كما يعتمد السكان اعتمادا أساسيا ومباشرا في حياتهم اليومية على الغابات، فهي توفر أكثر من 82% من الطاقة المستهلكة في السودان، كما تنتج 3.6 مليون متر مكعب من الأخشاب، و5 مليون طن من الأعلاف، و300 ألف طن من الثمار، و70 ألف طن من الصمغ. ويزخر السودان بمصادر متنوعة للمياه العذبة والمالحة، والتي يمكن أن تكون أساسا لإنتاج الأسماك، وتتمثل هذه المصادر في نهر النيل وروافده، والوديان الموسمية والدائمة، والبحيرات الصناعية، والبحر الأحمر.

الجدول: ترتيب بعض المحاصيل الزراعية عالميا

الترتيب العالمي	المنتجات الزراعية
3	الذرة البيضاء
3	السهم
6	الفول السوداني غير المقشر
11	الطماطم
15	القمح
14	التمور
18	البطيخ

2 - المعادن

الصورة (2): أنواع المعادن في السودان

النحاس



الفضة



الذهب



يملك السودان ثروات معدنية هائلة ومتنوعة من أهمها:

- **الذهب:** وهو من أقدم المعادن استغلالا، ويوجد في أحزمة ممتدة بين نهر النيل والبحر الأحمر، ومن حدود السودان الشمالية حتى الحدود الكينية، وتأتي في المرتبة السابعة والثلاثون عالميا في إنتاج الذهب سنة 2006.
- **الفضة:** ويتم إنتاجها بكميات تجارية.
- **النحاس:** وكان يستخرج في الماضي من جنوب دافور.

3 - الصناعة

الصورة (4): الطواحين الصناعية



الصورة (3): المنطقة الصناعية في الخرطوم





كانت الصناعة في السودان في البداية صناعات تقليدية تتمثل في طحن الغلال، وعصر الزيوت، ودباغة الجلود. ثم تطورت الصناعة إلى صناعة حديثة مثل الاسمنت والزيوت النباتية والصابون، وبعض الصناعات الغذائية، ومما ساعد على نمو الصناعة توفر الطاقة بأنواعها، والمواد الخام وتنوعها، وتوفر وسائل النقل، والأسواق.

مشاكل الاقتصاد السوداني :

يعاني الاقتصاد السوداني من التناقض بين الموارد والثروات الكبيرة التي يتمتع بها والتي تجعله من أغنى دول العالم، وبين الواقع الاقتصادي الصعب، ومن أهم التحديات التي تواجه الاقتصاد السوداني:

1 - **عدم الاستقرار السياسي للدولة:** فمنذ الاستقلال إلى يومنا هذا مرت على السودان العديد من الحكومات سواء كانت عبر المؤسسات المدنية أو من خلال المؤسسات العسكرية، فكل حكومة قادمة تنسخ ما قامت به الحكومة السابقة، وبهذا السبب تضيع المشاريع الاقتصادية.

2 - **وجود أزمة الديون** التي تجاوزت أكثر من 55 مليار دولار، وهي عبارة عن تراكمات لديون وفوائد.

3 - **عدم إلمام المزارعين بالتقنية الزراعية، والبذور المحسنة** مما أدى إلى ضعف الإنتاج.



أن السودان من الدول ذات المساحة الكبيرة والغنية بالموارد الطبيعية كالأراضي الزراعية، والثروة الحيوانية والمعدنية والغابات والثروة السمكية، ومع ذلك فإن اقتصادها يعاني من مشاكل متعددة منها عدم الاستقرار السياسي.



ثانياً: الأنشطة الاقتصادية في نيجيريا

الموقع الجغرافي والمساحة

تقع نيجيريا في غرب إفريقيا، تحدها النيجر من الشمال، وتشاد في الشمال الشرقي والكاميرون في الشرق، وبنين في الغرب، ويقع ساحلها الجنوبي على خليج غينيا على المحيط الأطلسي. (انظر الخريطة)، وتبلغ مساحتها 924 ألف كلم مربع، وعدد سكانه 206 مليون نسمة حسب تقديرات 2020.





خريطة نيجيريا



النشاطات الاقتصادية

النشاط الثاني تأمل الصور (1)، (2)، (3)، والجدول، واقرأ النص، ثم استنتج

الصورة (1): محاصيل فلاحية في نيجيريا

شجرة زيت النخيل

شجرة المطاط

الأرز



الأسماك

الأبقار

الغابات



الجدول: الإنتاج النيجيري 2018

المرتبة عالميا	الإنتاج	المحاصيل
14	6.8 مليون طن	الأرز
4	572 ألف طن	السمسم
3	2.8 مليون طن	الفول السوداني
4	332 ألف طن	الكاكاو
4	7.8 مليون طن	زيت النخيل

1- الفلاحة

يرتبط غالبية سكان نيجيريا بالزراعة، إذ يعمل بها وما يتبعها من رعي وصيد وقطع الأخشاب قرابة 75% من السكان، ومن أهم المحاصيل الزراعية:

- المطاط يزرع في الجنوب، وتعتبر الأولى إفريقيا في إنتاجه.
- الأرز يزرع في دلتا نهر النيجر، وتعد ثاني دولة إفريقية إنتاجا له بعد مصر.
- الذرة الشامية والذرة الرفيعة والكاكاو والفول السوداني وزيت النخيل تزرع هذه المحاصيل في الوسط والشمال.

كما تتركز تربية الماشية في الأجزاء الشمالية من نيجيريا، ويقدر أعداد الثروة الحيوانية بحوالي 19 مليون رأس، وتعتبر جلود الماعز من الصادرات الرئيسية. كما تنتج نيجيريا كميات كبيرة من الأسماك، حيث تتمتع بساحل طويل على خليج غينيا، وبها أنهار وبحيرات في الداخل.


2- الثروة المعدنية ومصادر الطاقة

الصورة (2): بعض المعادن ومصادر الطاقة

شركة شل البترولية



الفحم



القصدير



توجد ثروات معدنية في نيجيريا أهمها القصدير، والفحم، والبترول حيث تعد نيجيريا من أهم الدول الإفريقية المنتجة للنفط، وهي عضو في منظمة الدول المصدرة للنفط (أوبك)، وتحتل المرتبة الثالثة عشر في قائمة أهم الدول المصدرة للنفط على المستوى العالمي 2018، وتتركز معظم حقول النفط النيجيرية في منطقة دلتا النيجر جنوب ووسط البلاد، وتعتبر الولايات المتحدة الأمريكية أهم مستورد للنفط النيجيري.

3 - الصناعة

الصورة (4): صناعة تجميع السيارات



الصورة (3): صناعة النسيج في نيجيريا



تقوم الصناعة على الإنتاج الزراعي والحيواني والمعدني مثل صناعة السكر، والمنتجات النفطية والمنتجات المعدنية والمنسوجات والمنتجات الخشبية لتوفر الغابات.

مشاكل الاقتصاد النيجيري

1 - تراجع أسعار النفط: يعتبر تراجع أسعار النفط أبرز التحديات التي تواجه اقتصاد نيجيريا، لأن البلاد تعتمد بشكل كبير على تصدير النفط.

2 - مشكلة التطرف والإرهاب: فهناك تنشط جماعة (بوكو حرام) التي تطلق على نفسها اسم (جماعة أهل السنة للدعوة والجهاد)، وغيرت اسمها بعد مبايعة تنظيم الدولة الإسلامية (داعش)، إلى (ولاية غرب افريقيا)، وهي جماعة إسلامية نيجيرية سلفية جهادية مسلحة تتبنى العمل على تطبيق الشريعة الإسلامية في جميع ولايات نيجيريا. وتبنت الجماعة تفجيرات في منطقة دلتا النيجر الغنية بالنفط (جنوب ووسط البلاد)، مما أثار بشدة على سمعة نيجيريا، وتخوف المستثمرون من اتساع نطاق الهجمات.

3 - ديون شركات النفط العالمية الكبرى



أن الموارد الاقتصادية في نيجيريا تشمل الموارد الزراعية، والغابات، والثروات المعدنية والبتروول. ويعاني الاقتصاد النيجيري من مشاكل متعددة من أهمها مشكلة التطرف والإرهاب.

الملخص

أولاً: النشاطات الاقتصادية في السودان

تتنوع النشاطات الفلاحية في السودان بسبب تنوع المناخ، ومن أهم المحاصيل الزراعية الذرة الرفيعة والقمح والبقول السوداني والعدس والخضروات والفواكه، كما تمتلك البلاد ثروة حيوانية وسمكية هائلة وموارد معدنية متنوعة مثل الذهب والفضة والنحاس، كما أن الصناعة في السودان تطورت من صناعات تقليدية إلى صناعات حديثة، ومن أهم



المنتجات الصناعية السكر والزيت النباتية والصابون.
يعاني الاقتصاد السوداني من مشاكل متعددة منها عدم الاستقرار السياسي وتراكم الديون.

ثانياً: النشاطات الاقتصادية في نيجيريا

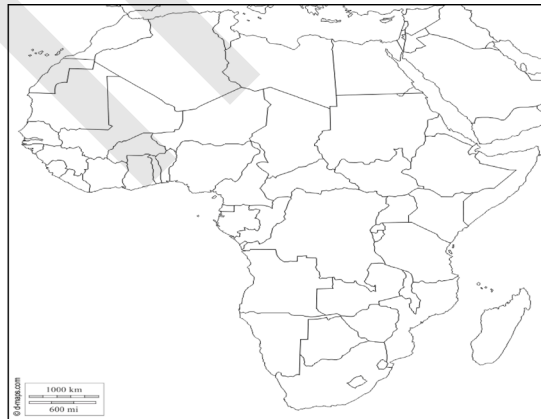
تتميز المنتجات الفلاحية في نيجيريا بالتنوع بسبب تنوع المناخ وتغلب عليها المزروعات المعيشية خاصة الحبوب، ثم تليها المزروعات التسويقية خاصة الكاكاو، والفول السوداني، والقطن، كما تعتبر نيجيريا أول منتج للبترول في القارة الأفريقية، كما تتوفر البلاد على ثروات معدنية هامة مثل الحديد؛ كما أن الصناعة تعتمد أساساً على الإنتاج الزراعي والحيواني والمعدني، ومن أهم الصناعات صناعة السكر.
كما يعاني الاقتصاد النيجيري من مشاكل متعددة منها تراجع أسعار النفط، ومشكلة التطرف والإرهاب.

نشاط سياقي

ابحث في المكتبات أو الانترنت عن الزراعة والرعي في موريتانيا ودورهما في الاقتصاد الوطني، واكتب تقريراً واعرضه على زملائك للنقاش.

أسئلة للتقويم

1 حدّد على خريطة صماء لإفريقيا الموقع الجغرافي لكل من السودان ونيجيريا.



2 اختر الإجابة الصحيحة

- تحتل السودان المرتبة الخامسة عشر في إنتاج - الطماطم - القمح - الأرز.
- تعتبر نيجيريا أول دولة إفريقية منتجة ل - الأرز - المطاط - القمح.

3 اذكر أنواع الصناعات في كل من السودان ونيجيريا.

4 حدّد معوقات الاقتصاد في السودان ونيجيريا.





الأنشطة الاقتصادية في البرازيل والولايات المتحدة الأمريكية

الدرس العاشر

الأهداف الخاصة

في نهاية الدرس يجب علي التلميذ أن يكون قادرا علي:

- 1 تحديد الموقع الجغرافي للبرازيل على خريطة قارة أمريكا.
- 2 التمكن من معرفة مقومات ومشاكل الاقتصاد في البرازيل.
- 3 تحديد الموقع الجغرافي للولايات المتحدة الأمريكية على خريطة قارة أمريكا.
- 4 التمكن من معرفة مقومات ومشاكل اقتصاد الولايات المتحدة الأمريكية.



العرض



أولا: الأنشطة الاقتصادية في البرازيل

الموقع الجغرافي والمساحة

تقع البرازيل في أمريكا الجنوبية، يحدها من الشمال جيانا الفرنسية وسورينام وجويانا وفنزويلا وكولومبيا، ومن الغرب بيرو، بوليفيا، باراغواي، والأرجنتين، ومن الجنوب أورغواي، ومن الشرق المحيط الأطلسي. (انظر الخريطة).
وتقدر مساحتها بحوالي 8.5 مليون كلم مربع، أما عدد السكان فبلغ حوالي 212 مليون نسمة حسب تقديرات 2020.



تتنوع الأنشطة الاقتصادية في البرازيل وأهمها:

1- الفلاحة

تحتل الفلاحة البرازيلية مراكز متقدمة على الصعيد العالمي، وتتركز على الزراعات التسويقية في المناطق الساحلية خاصة الجنوب الشرقي، حيث تنتج كميات كبيرة من المحاصيل الزراعية المتنوعة، وأهمها البن وقصب السكر، وتأتي في المرتبة الأولى عالمياً في إنتاجهما، كما تنتج الكاكاو والأرز والقمح والمطاط والقطن والموز والتبغ، بينما تسود الزراعات المعيشية في المناطق الداخلية.

وتعد البرازيل ثاني أكبر منتج للحوم بعد الولايات المتحدة الأمريكية، وتنتج إجمالي سنوي بحوالي 10 مليون طن، ويمارس رعي الأبقار والأغنام والخنازير على السفوح الشرقية للهضبة المطلة على السهل الساحلي.

الجدول: ترتيب بعض المحاصيل الزراعية عالمياً

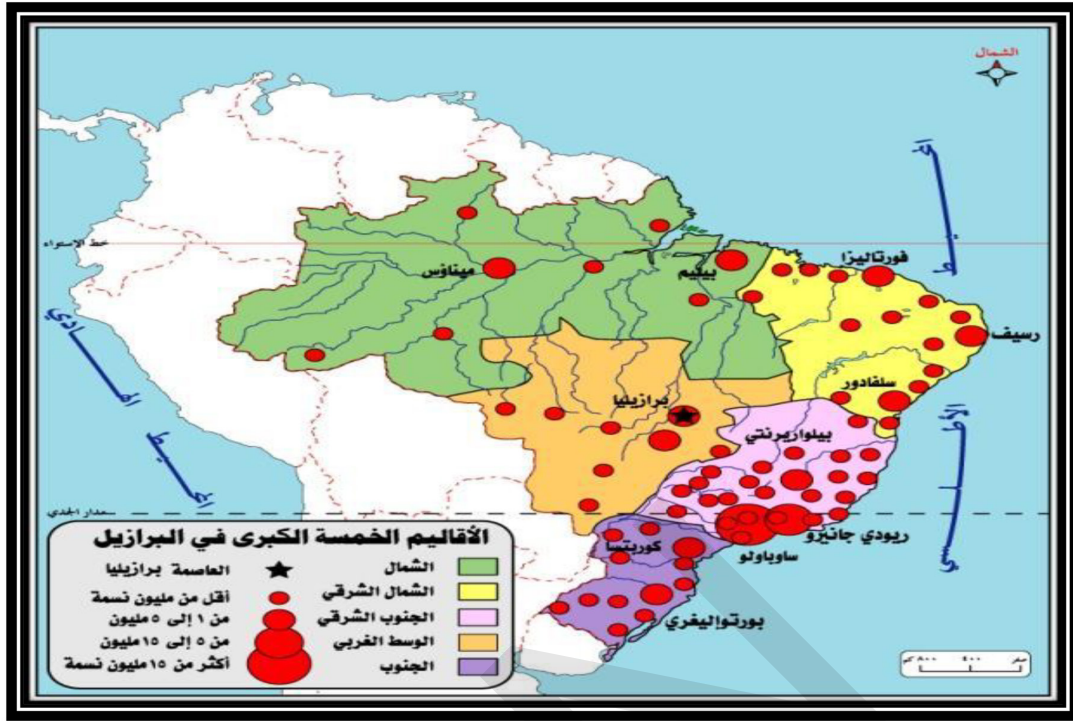
الترتيب	المحاصيل الزراعية
2	فول الصويا
3	الذرة
9	الأرز
10	الطماطم
14	البصل

2- المعادن

تتوفر البرازيل على معادن متنوعة أهمها الحديد والذهب والبوكسيت، وتحتل المرتبة الثالثة عالمياً في إنتاج الحديد والبوكسيت سنة 2014، والخامسة عشر عالمياً في إنتاج الذهب سنة 2008.

3 - الصناعة

خريطة: الأقاليم الصناعية في البرازيل



تعتبر البرازيل من الدول الصناعية في العالم، وتتركز مناطق الصناعة في الجزء الشرقي منها لتوفر مقومات الصناعة، وأهم الصناعات (الصناعات الغذائية والصناعة النسيجية والصناعة التعدينية والصناعة الميكانيكية والصناعة الكيماوية والصناعة الإلكترونية).

4 - التجارة

تصدر البرازيل المواد الأولية، وبعض المنتجات الزراعية، ومنها البن والكافو والقطن والسكر واللحوم والجلود والأخشاب، وتستورد الفحم والقمح والنفط والمطاط.

مشاكل الاقتصاد البرازيلي:

1 - **عدم الاستقرار السياسي:** إن التطورات السياسية التي عرفتها البرازيل مؤخرًا قد تزعزع حالة الاستقرار السياسي والعملية الديمقراطية.

2 - **الظروف الصحية العالمية:** انتشار جائحة كورونا أثربشكل سلبي على الاقتصاد البرازيلي بسبب توقف عمليات الإنتاج في أغلب المصانع. وبالتالي خفض معدلات التصدير.

3 - **الاعتماد على الدول الأجنبية:** تعتمد البرازيل على الصادرات أكثر من الدول المتقدمة مثل الولايات المتحدة الأمريكية، كما تعتمد بشكل كبير على التمويل الخارجي.



أن البرازيل تحتل مكانة هامة على المستوى العالمي في الفلاحة والصناعة.



ثانياً: الأنشطة الاقتصادية في الولايات المتحدة الأمريكية

الموقع الجغرافي والمساحة

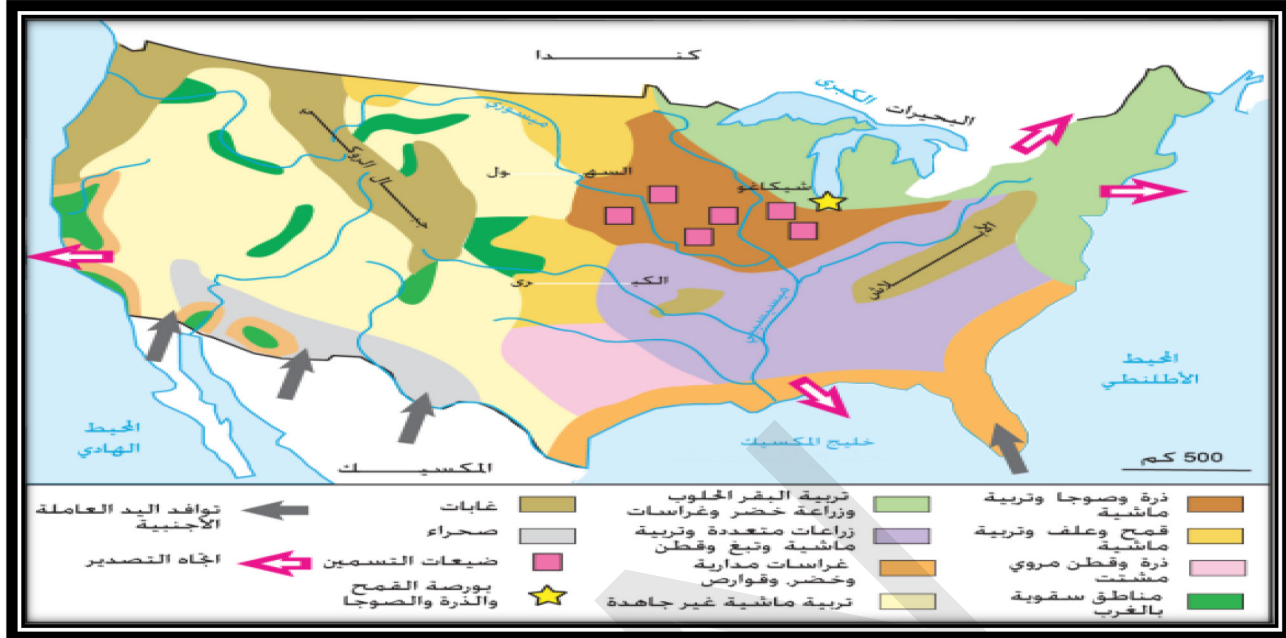
تقع الولايات المتحدة الأمريكية في قارة أمريكا الشمالية، تحدها من الشمال كندا، ومن الجنوب خليج المكسيك والمكسيك ومن الشرق المحيط الأطلسي، ومن الغرب المحيط الهادي، (أنظر الخريطة)، وتبلغ مساحتها 9,8 مليون كلم مربع وعدد سكانها 329 مليون نسمة سنة 2020.

خريطة الولايات المتحدة الأمريكية



تأمل الخريطة (1)، (2)، (3)، واقراً النص، ثم استنتج

الخريطة (1): خريطة الفلاحة في الولايات المتحدة الأمريكية



تتنوع الأنشطة الاقتصادية في الولايات المتحدة الأمريكية، ومنها:

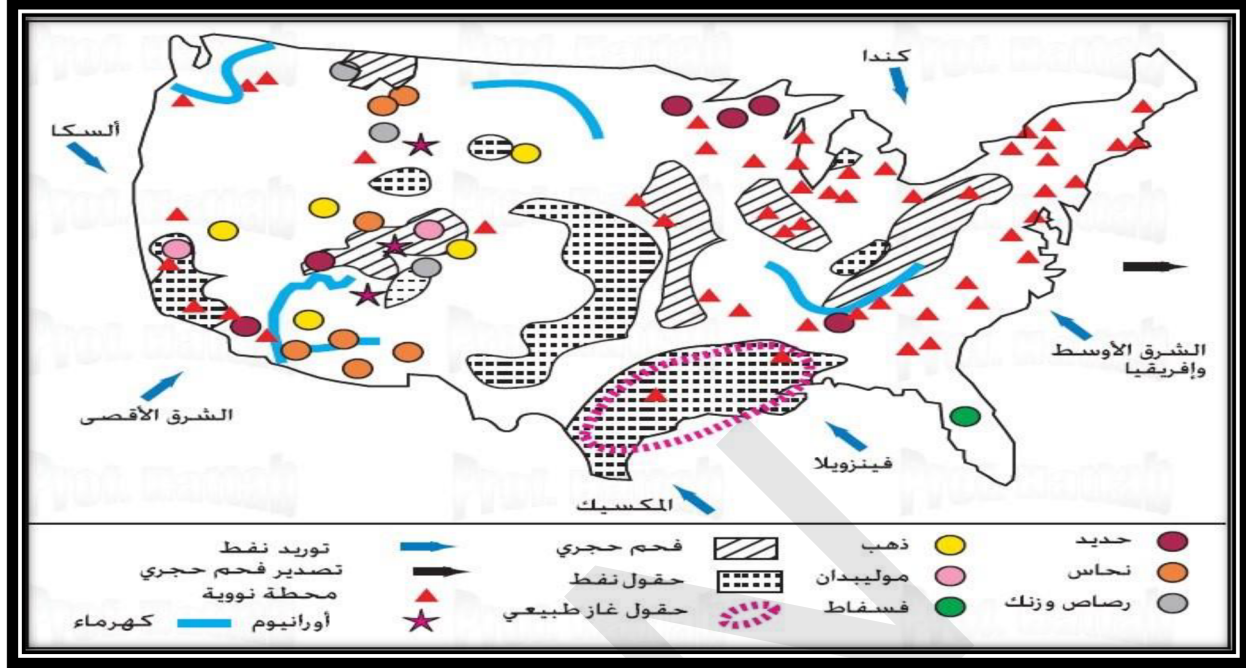
1 - الفلاحة

تعتبر الزراعة في الولايات المتحدة الأمريكية حديثة وعصرية، فالمزارع الأمريكي ليس مزارعاً تقليدياً، بل هو رجل أعمال ينتج المزروعات المرهقة، ويراقب الأسواق والأسعار، ويستعمل الآلات الحديثة، لذلك تحتل الولايات المتحدة الأمريكية مكان الصدارة بين دول العالم في الإنتاج الزراعي، وأهم المحاصيل القمح، الذرة، الخضار، الفواكه، الأرز، الفول السوداني، القطن.

كما تعتبر الولايات المتحدة الأمريكية من أغنى دول العالم في إنتاج اللحوم ومنتجات الألبان، ويمتد إقليم المراعي في السهول الوسطى حتى جبال الروكي، وتنمو فيه الأعشاب التي ترعى فيها ملايين الماشية التي تستغل لحومها ومنتجاتها.

2 - التعدين

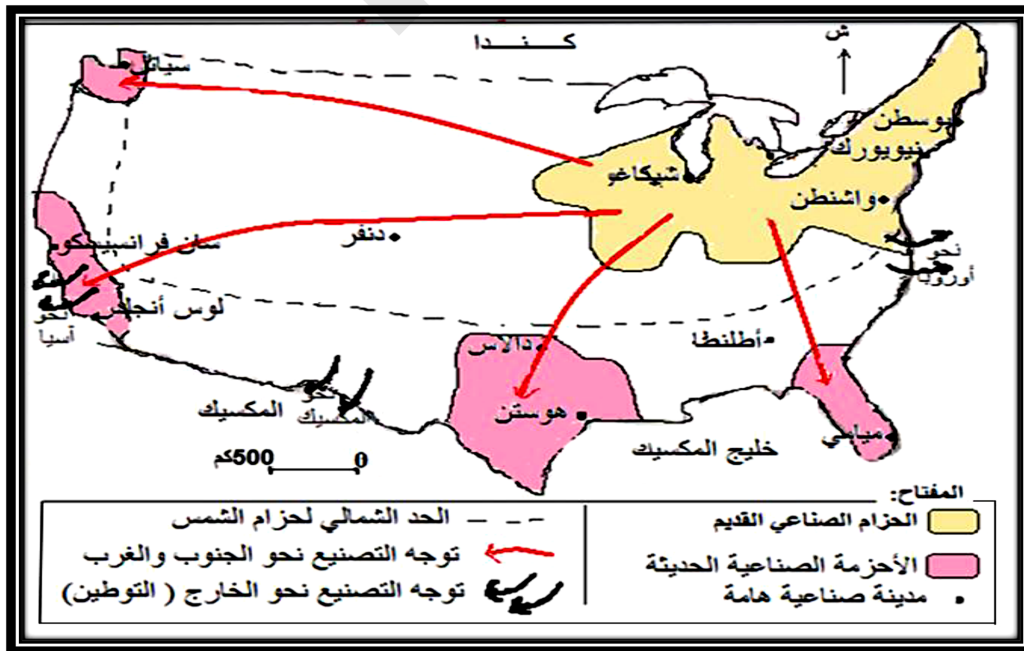
الخريطة (2): المعادن ومصادر الطاقة



تتوفر الولايات المتحدة الأمريكية على إمكانيات هائلة في مجال المعادن ومصادر الطاقة من أهمها الذهب (الرابعة عالميا 2006) والنحاس (الرابعة عالميا 2014) والحديد (المرتبة الثامنة عالميا 2014)، والفحم (المرتبة الثانية عالميا 2007) والغاز الطبيعي (الثانية عالميا بعد روسيا 2009) والنفط (المرتبة الأولى عالميا 2018)، ولكن الطاقة الإنتاجية الهائلة للبلاد جعلتها لا تضمن قدرتها على سد حاجتها في هذا المجال.

3 - الصناعة

الخريطة (3): مراكز الصناعة في الولايات المتحدة الأمريكية





تعد الولايات المتحدة الأمريكية أول قوة صناعية في العالم، بإنتاج 20% من الإنتاج العالمي، وصناعتها تستوعب 22% من اليد العاملة، وتساهم بـ 23% من الناتج الداخلي الإجمالي. وقد ساعد على ازدهار صناعتها وتنوعها توفر مجموعة من العوامل الضرورية لقيام أي صناعة، ومن هذه العوامل: توفر مواد الطاقة من بترول وفحم وكهرباء، ووجود اليد العاملة الفنية، والأسواق المحلية الاستهلاكية، وسياسة التصدير التي تنتهجها الولايات المتحدة الأمريكية بالنسبة لكثير من صناعاتها التي تغدي بها حاجة السوق الخارجية لكثير من دول العالم.

أهم مناطق الصناعة في الولايات المتحدة الأمريكية:

● منطقة شمال شرق الولايات المتحدة الأمريكية، وأهم الصناعات صناعة الطائرات، والإلكترونيات والسفن.

● منطقة جنوب الولايات المتحدة الأمريكية، وأهم الصناعات فيها الغزل والنسيج بالإضافة إلى صناعات كيماوية وهندسية و ميكانيكية.

● المناطق الوسطى ومن أهم الصناعات الصناعة الغذائية.

● المناطق الغربية: وفيها صناعات بترولية وكيماوية في لوس انجلوس.

4 - التجارة

تصدر الولايات المتحدة الأمريكية الآلات والسيارات والقمح والقطن، وتستورد بعض المنتجات منها المطاط والشاي والكاكاو، وبعض المعادن ومصادر الطاقة مثل القصدير والبتترول.

مشاكل الاقتصاد الأمريكي

تواجه الولايات المتحدة الأمريكية بعض المشاكل الاقتصادية منها:

● **على المستوى الفلاحي:** تمثل مشاكل الفلاحة في مشكل فائض الإنتاج بسبب صعوبة التسويق الناتجة عن انخفاض الطلب الخارجي، وتزايد مديونية البلدان النامية.

● **على مستوى الصناعة:** تعاني الصناعة الخارجية من مشكل المنافسة الخارجية، وخاصة من دول شرق آسيا وأمريكا اللاتينية.

● **على مستوى التجارة:** تعاني الولايات المتحدة الأمريكية من عجز تجاري كبير بفعل ارتفاع قيمة الواردات وانخفاض قيمة الصادرات.



أن الولايات المتحدة الأمريكية تتميز بتعدد الأنشطة الاقتصادية من فلاحة وموارد معدنية متنوعة وصناعة وتجارة وبالرغم من ذلك تواجه عدة تحديات منها المنافسة العالمية في ظل العولمة.



أولاً: النشاطات الاقتصادية في البرازيل

تحتل البرازيل مكانة هامة على المستوى الفلاحي حيث تأتي في المرتبة الأولى في إنتاج البن وقصب السكر، كما تعد ثاني أكبر دولة بعد الولايات المتحدة الأمريكية في إنتاج اللحوم، كما تتوفر على معادن متنوعة أهمها الحديد والذهب والبوكسيت، كما تعتبر البرازيل من الدول الصناعية الكبرى في العالم وتتركز مناطق الصناعة في شرق البرازيل. يعاني الاقتصاد البرازيلي من عدة تحديات منها عدم الاستقرار السياسي والاعتماد على الدول الأجنبية من خلال الصادرات.

ثانياً: النشاطات الاقتصادية في الولايات المتحدة الأمريكية

تحتل الولايات المتحدة الأمريكية المرتبة الأولى عالمياً في الإنتاج الفلاحي بسبب اتساع المساحة الزراعية وتنوع المناخ وتوفر المياه ومن أهم المحاصيل الفلاحية القمح والذرة والخضروات والفواكه واللحوم والألبان، كما تتوفر على إمكانيات هائلة في مجال المعادن ومصادر الطاقة مثل الحديد والذهب والنحاس والبتترول، كما أن الولايات المتحدة الأمريكية هي أول قوة صناعية في العالم، وتتركز الصناعة في مناطق كبرى هي الشمال الشرقي ومنطقة البحيرات الخمس وسواحل خليج المكسيك والساحل الغربي، وأهم الصناعات هي صناعة السفن والسيارات والأسلحة. يعاني اقتصاد الولايات المتحدة الأمريكية من عدة تحديات منها المنافسة الخارجية وصعوبة التسويق وارتفاع مديونية الدول النامية.

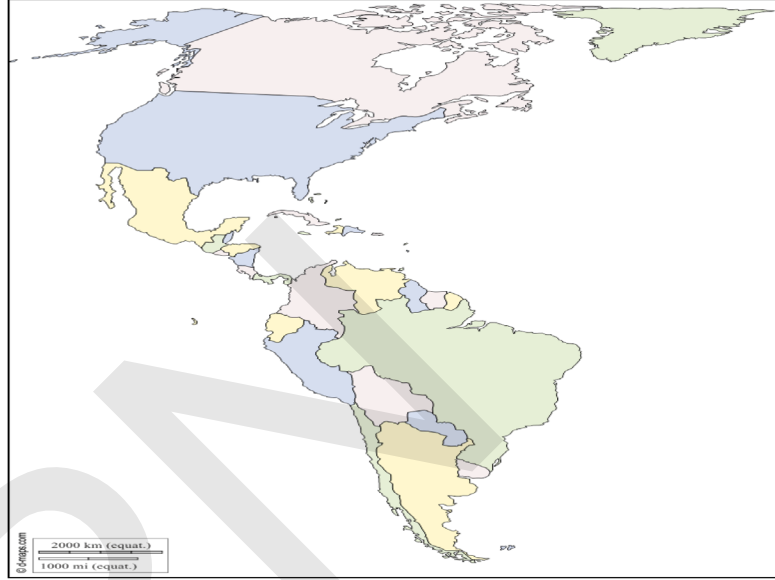
نشاط سياقي

على ضوء ما درست، ابحث ثم اكتب ورقة عن المعادن في موريتانيا ودورها في الاقتصاد الوطني، واعرضه على زملائك في الفصل للنقاش.



أسئلة للتقويم

1 حدد الموقع الجغرافي للبرازيل والولايات المتحدة الأمريكية على خريطة صماء لقارة أمريكا.



2 اختر الإجابة الصحيحة:

- تعتبر البرازيل أول دولة منتجة في العالم ل: القمح - البن - الخضروات.
- تعد الولايات المتحدة الأمريكية أول قوة صناعية في العالم بإنتاج يصل إلى 20% - 22% - 23%.

3 حدد مراكز الصناعة في كل من البرازيل والولايات المتحدة الأمريكية.

4 ماهي أهم التحديات الاقتصادية في كل من البرازيل والولايات المتحدة الأمريكية؟





الأنشطة الاقتصادية في ماليزيا واليابان

الدرس الحادي عشر

أهداف الدرس:

يتوقع في نهاية الدرس أن يكون التلميذ قادرا على:

- 1 تحديد الموقع الجغرافي لماليزيا على خريطة لقارة آسيا.
- 2 التمكن من معرفة مقومات ومشاكل الاقتصاد الماليزي.
- 3 تحديد الموقع الجغرافي لليابان على خريطة لقارة آسيا.
- 4 التمكن من معرفة مقومات ومشاكل الاقتصاد الياباني.



العرض



أولا: الأنشطة الاقتصادية في ماليزيا

الموقع الجغرافي والمساحة

تقع ماليزيا في جنوب شرق آسيا، وتتكون من جزأين رئيسيين يفصل بينهما بحر الصين الجنوبي، الجزء الأول هو شبه جزيرة ماليزيا في الغرب التي يقع جنوب تايلاند وشمال سنغافورة، والجزء الثاني هو ماليزيا الشرقية وتتشترك فيها ماليزيا حدوديا مع اندونيسيا وبروناي. (انظر الخريطة) وتبلغ مساحتها حوالي 329847 كلم مربع، ويبلغ عدد سكانها حوالي 32 مليون حسب تقديرات 2020.





خريطة ماليزيا



تأمل الصورة (1)، (2)، (3)، وقرأ النص، ثم استنتج

النشاط الأول

الصورة (1): محاصيل زراعية في ماليزيا
المطاط الطبيعي

زيت النخيل



تتنوع الأنشطة الاقتصادية في ماليزيا ومن أهمها:

1 - الفلاحة

تعد ماليزيا أكبر منتج للمطاط الطبيعي، وزيت النخيل في العالم، إذ تنتج البلاد أكثر من نصف زيت النخيل في العالم، وأكثر من ثلث إنتاج العالم من المطاط الطبيعي، وهي رابع أكبر منتج للكافو، ومن المحاصيل الأخرى المهمة الأرز، الفلفل، التبغ، جوز الهند، التوابل وقصب السكر والتبغ والخضروات والفاكهة في مناطق متعددة من البلاد.

كما أن الثروة الحيوانية محدودة، فهي تتألف من حوالي 750 ألف رأس من الماشية. ويساهم قطاع الفلاحة بحوالي 11.2% من الناتج الداخلي الخام.

2 - الثروة المعدنية

الصورة (2): بعض المعادن

معدن البوكسيت



النحاس



معدن القصدير



مناجم الحديد في ماليزيا



تتوفر ماليزيا على موارد معدنية ومصادر الطاقة، منها القصدير، وتأتي في المرتبة التاسعة عالمياً 2016، والحديد في المرتبة الثامنة عشر عالمياً 2011 كما تحتل ماليزيا المركز الرابع عشر عالمياً سنة 2007 من حيث حجم إنتاج الغاز الطبيعي، والمرتبة السادسة والعشرين عالمياً في إنتاج النفط 2018، بالإضافة إلى البوكسيت والنحاس.



3 - الصناعة

الصورة (3): أنواع الصناعات

صناعة السيارات



مصنع الاسمنت



يساهم قطاع الصناعة بنحو 36.8% من الناتج الداخلي الخام، ويعمل فيه حوالي 30% من العاملين، وتشمل الصناعة في ماليزيا قطاع الإلكترونيات، وصناعات البلاستيك والأقمشة، والمطاط ومنتجات الأخشاب، والصناعات الثقيلة كالصلب والسيارات. كما أن قطاع التجارة والخدمات يساهم بحوالي 53% من الناتج الداخلي الخام.

معوقات الاقتصاد الماليزي

1 - **الظروف المناخية:** تتمثل في التغيرات المناخية التي تضرب ماليزيا مثل هطول الأمطار الغزيرة على مدار العام وخاصة في ولاية هوجور في أقصى الجنوب.

2 - **الأزمة المالية العالمية 2008:** حيث أثرت على ماليزيا من خلال انخفاض صادراتها إلى العالم الخارجي حيث أن ماليزيا تعتمد على نمو التجارة الخارجية والطلب العالمي.


3 - **ارتفاع أسعار السلع الأساسية:** وهذه الظاهرة مرتبطة بارتفاع الأسعار عالميا، وارتفاع الأسعار تلجأ الحكومة الماليزية لتخزين الأرز لضمان توفير إمدادات كافية من السلع الأساسية.



أن الاقتصاد الماليزي يعتمد أساسا على قطاع الخدمات الذي يساهم بـ 56.2% من الناتج الداخلي الخام، ثم يليه قطاع الصناعة بنسبة 36.8%، وأخيرا قطاع الزراعة بنسبة 7% من الناتج الداخلي الخام.

يعاني اقتصاد ماليزيا من مشاكل منها ارتفاع أسعار السلع الأساسية.



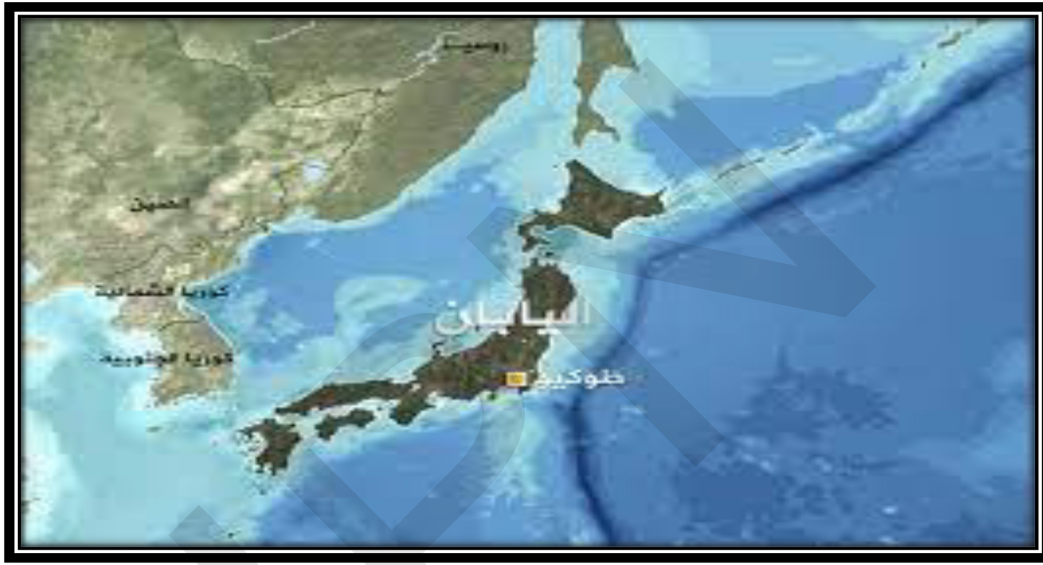


ثانيا: الأنشطة الاقتصادية في اليابان

الموقع الجغرافي والمساحة

تتألف اليابان من أرخبيل يضم عدة آلاف من الجزر الواقعة شرق آسيا، وأهم هذه الجزر جزيرة هوكايدو، جزيرة هونشو، جزيرة شيكوكو، جزيرة كيوشو، وتمثل هذه الجزر الأربعة نسبة 98,9% من مساحة البلاد البالغة 372480 كلم مربع. وعدد سكانها حوالي 125 مليون حسب تقديرات 2020.

خريطة اليابان



النشاطات الاقتصادية

تأمل الصور (1)، (2)، واقراً النص ثم استنتج

النشاط الأول

الصورة (1): محاصيل فلاحية في اليابان
مزارع الشاي في اليابان

مزارع التبغ





غابة



صياد ياباني



تتنوع الأنشطة الاقتصادية في اليابان، ومن أهمها:

1 - الفلاحة

تشكل الأراضي المستغلة زراعياً نحو 15% من مساحة البلاد، ومن أهم المحاصيل الزراعية زراعة الأرز التي تنتشر في جزيرتي كيوشو وشيكوكو والأجزاء الجنوبية من هونشو، ويبلغ إنتاج الأرز نحو 13 مليون طن سنوياً، وهو ما يشكل 3% من الإنتاج العالمي، ولا يكفي لسد حاجيات السوق اليابانية.

كما تعد اليابان من دول العالم الرئيسية المنتجة لمحصول الشاي حيث تأتي في المرتبة العاشرة عالمياً، وتنتشر مزارعه حول السواحل الشرقية لجزر هونشو، شيكوكو، كيوشو. وتحتل اليابان المركز الثالث والثلاثين عالمياً في إنتاج التبغ، وتنتشر مزارعه في الجزء الجنوبي من جزيرة هونشو.

ولللغابات أهمية اقتصادية، كما تعتمد الثروة الحيوانية على المراعي وتشمل الأبقار والأغنام، وصيد السمك من الحرف المهمة في اليابان وقد بلغ إنتاجهم للسمك عشرة ملايين طن في العام.

2 - التعدين


تفتقر اليابان إلى الكثير من المعادن، ولا يتوفر فيها سوى الفحم والنحاس والكبريت، بالإضافة إلى كميات قليلة من خام الحديد الذي تتركز مناجمه في جنوب غرب جزيرة هوكايدو، وشمال شرق جزيرة هونشو والبتروول والرصاص واليوكسيت والنيكل، لذا تعتمد الصناعة اليابانية على استيراد موادها الأولية من دول العالم الثالث.

3 - الصناعة

الصورة (2): أنواع الصناعة في اليابان

مصنع لإنتاج الصلب والحديد

مصنع الروبوتات





تتصدر اليابان الدول الآسيوية في مجال الصناعة، ومن أهم الصناعات:

● **صناعة الصلب:** تأتي اليابان في المرتبة الثالثة عالمياً حيث صناعة الصلب

بعد الصين والهند.

● **صناعة السفن.**

● **صناعة النسيج.**

كما تعد صناعة الانسان الآي أحد أهم المجالات الواعدة للنمو الاقتصادي المستقبلي، والذي تتفوق فيه التكنولوجيا اليابانية على باقي دول العالم.

مشاكل الاقتصاد الياباني:

1 - **ضعف الفلاحة اليابانية:** تشكل الجبال الجزء الأكبر من مساحة اليابان، وبالتالي فالأراضي الزراعية تمثل نسبة ضعيفة مما أدى إلى نقص الإنتاج الفلاحي، وجعل اليابان أول مستورد للمنتجات الفلاحية والغذائية في العالم.

2 - **الافتقار إلى مصادر الطاقة والمعادن:** باستثناء الكبريت، وبالتالي استيرادها بكميات كبيرة، حيث يعد اليابان ثاني مستورد للبتروول في العالم بعد الولايات المتحدة الأمريكية.

3 - **شيخوخة السكان:** ترتبط بتطبيق سياسة تحديد النسل والذي ينعكس على الإنتاج والاستهلاك.



أن الاقتصاد الياباني يعتمد أساساً على الصناعة الثقيلة القائمة على تحويل المواد الأولية المستوردة، فهي أول منتج للحديد والصلب في العالم وثالث قوة في تكرير البترول، وأول منتج للسيارات.

ويعاني الاقتصاد الياباني من عدة مشاكل منها قلة الثروات الطبيعية.

الملخص

أولاً: النشاطات الاقتصادية في ماليزيا

تعتبر ماليزيا من أكبر الدول المصدرة للمطاط الطبيعي وزيت النخيل، بالإضافة إلى منتجات الأخشاب والكاكاو والفلفل والأناناس، كما يعد التصدير والنفط من أهم الموارد المعدنية في الاقتصاد الماليزي.

تعتمد معظم الصناعات في الدولة على الخامات المحلية سواء كانت زراعية أو معدنية، لذلك تنتشر صناعات تحويل المطاط، وإنتاج الزيوت النباتية والصابون والمنتجات الخشبية، إلى جانب صناعة الإسمت وبعض الصناعات الخفيفة.

يواجه الاقتصاد الماليزي عدة تحديات منها الأزمة المالية العالمية 2008، وارتفاع أسعار السلع الأساسية.



ثانياً: النشاطات الاقتصادية في اليابان

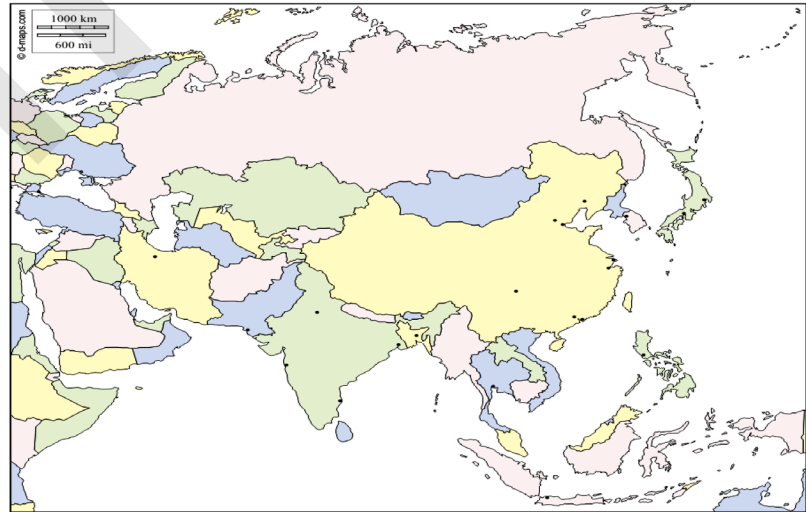
لا يحتل القطاع الأول مكانة مهمة في الاقتصاد الياباني حيث لا يعمل فيه سوى 5% من السكان النشطين، ويوفر 1.4% من الناتج الداخلي الخام، وتعد اليابان من دول العالم الرئيسية المنتجة لمحصول الشاي بعد الهند وسيرى لانكا والصين، وتنتشر مزارع الشاي حول السواحل الشرقية لجزر هونشو، شيكوكو، كيوشو. أما القطاع الثاني فيعمل فيه 31% من السكان النشطين، ويساهم بنسبة 31.8% من الناتج الداخلي الخام، وتعد صناعة السيارات من أهم الصناعات في اليابان. كما أن القطاع الثالث يستوعب 63% من السكان النشطين، ويوفر ما نسبته 66.8% من الناتج الداخلي الخام. يواجه الاقتصاد الياباني عدة تحديات منها الافتقار إلى مصادر الطاقة والمعادن والمنافسة الأجنبية.

نشاط سياقي

على ضوء ما درست، اكتب تقريراً عن الصناعة ومعوقاتها في موريتانيا، ومكانتها في الاقتصاد الوطني، واعرضه على زملائك في الفصل للنقاش

أسئلة للتقويم

1 حدّد الموقع الجغرافي لكل من ماليزيا واليابان على خريطة صماء لقارة آسيا.



2 اذكر أهم الموارد المعدنية في كل من ماليزيا واليابان.

3 ماهي أهم أنواع الصناعات في كل من ماليزيا واليابان؟

4 حدّد أبرز التحديات الاقتصادية في كل من ماليزيا واليابان.




الأنشطة الاقتصادية في فرنسا وألمانيا

الدرس الثاني عشر

أهداف الدرس:

- 1 يتوقع في نهاية الدرس أن يكون التلميذ قادرا على:
تحديد الموقع الجغرافي لفرنسا على خريطة قارة أوروبا.
- 2 معرفة مقومات ومشاكل الاقتصاد الفرنسي.
- 3 تحديد الموقع الجغرافي لألمانيا على خريطة قارة أوروبا.
- 4 معرفة مقومات ومشاكل الاقتصاد الألماني.



أولا: الأنشطة الاقتصادية في فرنسا

الموقع الجغرافي والمساحة:

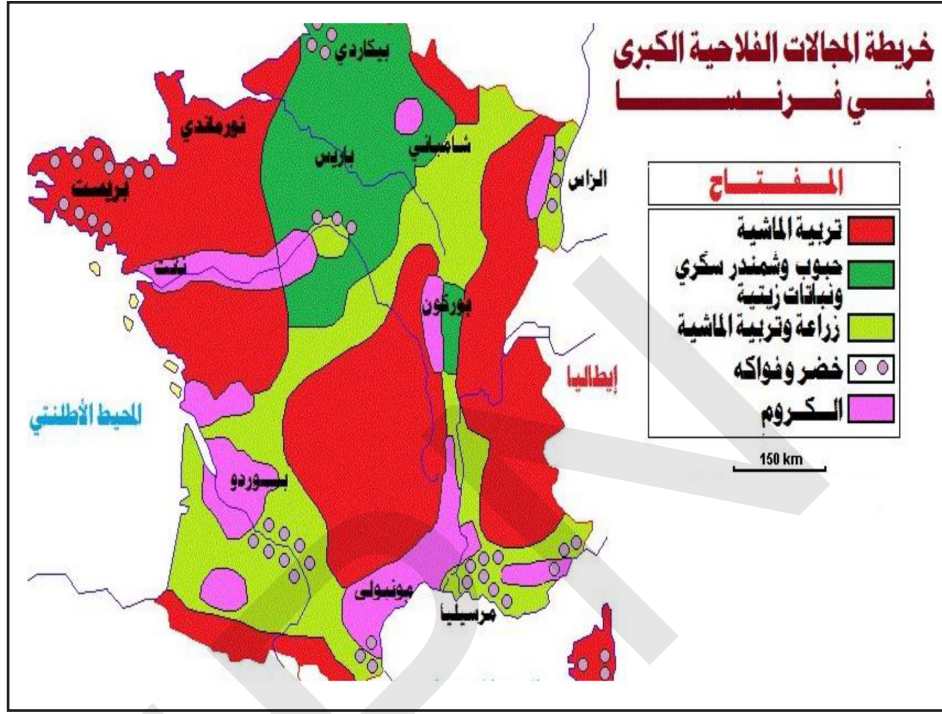
تقع فرنسا في الجزء الغربي من القارة الأوروبية، يحدها من الشمال بلجيكا وبحر المانش، ومن الغرب المحيط الأطلسي، ومن الجنوب البحر الأبيض المتوسط، ومن الشرق ألمانيا، سويسرا، إيطاليا، ولكسمبورغ (انظر الخريطة)، وتبلغ مساحتها 551602 كلم مربع، ويبلغ عدد سكان فرنسا حوالي 67 مليون نسمة حسب تقديرات 2020.

خريطة فرنسا



تأمل الخريطة (1)، والصورة (1)،
واقرا النص، ثم استنتج

الخريطة (1): الفلاحة في فرنسا



1- الفلاحة

لا يساهم القطاع الفلاحي في الناتج الداخلي الخام إلا بنسبة 1.2 % سنة 2002، ولم يستوعب من العاملين سوى 4 %، ومع ذلك تظل فرنسا قوة فلاحية كبرى في العالم، إذ تؤمن ما نسبته 20 % من الإنتاج الفلاحي داخل الاتحاد الأوروبي، وهي ثاني مصدر للمنتجات الفلاحية في العالم، وتمتلك فرنسا ثروة هامة من المواشي (الأبقار المرتبة 14 عالميا، الخنازير المرتبة 12 عالميا، والدواجن المرتبة الأولى أوروبيا)، وتعد فرنسا من أهم دول العالم المنتجة للحبوب (المرتبة الحادية عشر عالميا)، وفي إنتاج بنجر السكر (المرتبة الثانية بعد روسيا)، وهي ثالث منتج للخمور عالميا 2014 بعد إيطاليا وإسبانيا. وهي منتجة للألبان وتأتي في المرتبة الثانية أوروبيا بعد ألمانيا والسابعة على مستوى العالم بالإضافة إلى إنتاج اللحوم والصوف.



تعد فرنسا الوجهة الأكثر شعبية في العالم، حيث تستقبل حوالي 85.7 مليون سائح كل عام، وهذه الحركة السياحية الضخمة تعني أنها تحتل المرتبة الخامسة في العالم من حيث الإنفاق السياحي، ومن المعالم السياحية برج إيفل ومدينة شاموني.

مشاكل الاقتصاد الفرنسي

- 1 - تضخم إنتاج الفلاحة وصعوبة تسويق فائض الإنتاج في الخارج بسبب المنافسة.
- 2 - ارتفاع تكاليف الإنتاج الفلاحي، وتزايد المنافسة الأجنبية، وتراجع الدعم المخصص للفلاحين.
- 3 - قلة اليد العاملة بسبب شيخوخة المجتمع وهجرة السكان النشيطين إلى المدن للعمل في الصناعة والخدمات.
- 4 - تراجع بعض الصناعات بسبب قدم التجهيزات وتأخر الصناعات الإلكترونية والمعلوماتية.
- 5 - ضعف صمود الصناعة الفرنسية أمام المنافسة الأجنبية.
- 6 - مشكلة التبعية للخارج فيما يتعلق باستيراد مصادر الطاقة والمعادن.



أن فرنسا تشكل قوة فلاحية وصناعية على المستويين الأوروبي والعالمي رغم المنافسة العالمية، ورغم ذلك يعاني اقتصادها من عدة مشاكل من بينها المنافسة الأجنبية.



ثانيا: الأنشطة الاقتصادية في ألمانيا

الموقع الجغرافي والمساحة:

تقع ألمانيا في غرب القارة الأوروبية، يحدها من الشمال بحر الشمال والدانمارك وبحر البلطيق، ومن الجنوب النمسا وسويسرا، ومن الشرق بولندا وتشيك، ومن الغرب فرنسا ولوكسمبورغ وبلجيكا، وهولندا. (انظر الخريطة)، ومساحتها 357022 كلم مربع، وعدد سكانها 83 مليون نسمة حسب تقديرات 2020.



خريطة ألمانيا



الأنشطة الاقتصادية

تأمل الصور (1)، (2)، والجدول، واقرأ النص،
ثم استنتج

النشاط الثاني

الصورة (1): محاصيل زراعية في ألمانيا

الشعير



الشمندر



القمح



الجدول: مرتبة بعض المحاصيل الزراعية في ألمانيا عالميا وأوربيا

المنتجات الزراعية	المرتبة العالمية	المرتبة الأوروبية
القمح	8	2
الشعير	3	1
الشمندر	4	2

1- الفلاحة

تعتمد الزراعة في ألمانيا على الوسائل الحديثة والمتطورة، لذلك الإنتاج الزراعي يلبي 75% من حاجيات السكان، ومن أهم المحاصيل الزراعية القمح والشعير والشمندر السكري، كما تهتم ألمانيا بتربية المواشي ومن بينها الأبقار (16 مليون رأس)، وهي تصدر الدول الأوربية في إنتاج الحليب، بينما تأتي في المرتبة الخامسة على مستوى العالم.

2 - التعدين ومصادر الطاقة

تتوفر ألمانيا على موارد معدنية أهمها الفحم الحجري (المرتبة السابعة عالمياً سنة 2007) والحديد (31 عالمياً)، ونظراً لتوفر النفط والغاز الطبيعي بكميات محدودة، اتجهت ألمانيا إلى إنتاج الطاقة النووية وتوليد الطاقة الكهرومائية.

3 - الصناعة

الصورة (2): أنواع الصناعات

صناعة الصلب والحديد

صناعة السيارات



الصناعة هي العمود الفقري للاقتصاد الألماني، حيث يعمل بها ثلث القوى العاملة، وتتميز الصناعة الألمانية بالجودة والتنوع، وأهم هذه الصناعات، صناعة الحديد والصلب والسيارات والمنسوجات والسفن والصناعات الإلكترونية والكهربائية.

4 - التجارة

تصدر ألمانيا السلع التي تحتاج تقنية عالية، ومنها الأجهزة الإلكترونية، أما وارداتها فتشمل المواد الأولية الزراعية والمعدنية والبتروولية. ويحتل قطاع الخدمات دوراً أساسياً في اقتصاد ألمانيا، حيث يساهم بنسبة 72% من الناتج الداخلي الخام.

مشاكل الاقتصاد الألماني

- 1 - ارتفاع معدلات البطالة والديون في الدول المجاورة، أثر ذلك على التعاملات التجارية والمالية، وبالتالي تراجع معدل النمو الاقتصادي الألماني.
- 2 - ضعف الطلب العالمي على السلع والخدمات الألمانية.
- 3 - نمو الأجور والتضخم.
- 4 - شيخوخة المجتمع وفائض الميزانية.



أن الاقتصاد الياباني يعتمد أساسا على قطاع الخدمات الذي يساهم بنسبة 72% من الناتج الداخلي الخام، والصناعة 27.1%، ثم قطاع الزراعة ب 0.9% من الناتج الداخلي الخام، كما يعاني الاقتصاد من عدة مشاكل من بينها ضعف الطلب العالمي على السلع والخدمات.

الملخص

أولا: النشاطات الاقتصادية في فرنسا

- 1 - تعتبر فرنسا أول منتج زراعي في الاتحاد الأوروبي، ومن أهم المحاصيل الزراعية القمح وبنجر السكر والخمور، وهي منتجة للألبان واللحوم والصوف. كما تمتلك فرنسا ثروات معدنية متنوعة أهمها خام الحديد.
- 2 - تعتمد الصناعة أساسا على إنتاج الطاقة النووية، ومن أهم الصناعات الفرنسية السيارات والطائرات والإلكترونيات.
- 3 - وتعد فرنسا الوجهة المفضلة للكثير من السياح، ومن أهم الأماكن السياحية برج إيفل.
- 4 - يواجه اقتصاد فرنسا تحديات عديدة منها المنافسة الأجنبية وقلة الأيدي العاملة بسبب شيخوخة المجتمع.

ثانيا: النشاطات الاقتصادية في ألمانيا

- 1 - تعد ألمانيا أول قوة اقتصادية في أوروبا وثالث قوة اقتصادية في العالم بعد الولايات المتحدة الأمريكية واليابان، كما تتوفر على ثروات معدنية هامة أهمها الحديد والفحم الحجري.
- 2 - تشكل الصناعة عمود الاقتصاد الألماني ومن أهمها صناعة السيارات والطائرات وصناعة الحديد والصلب.
- 3 - يواجه الاقتصاد الألماني عدة تحديات منها ضعف الطلب العالمي على السلع والخدمات، وارتفاع معدلات البطالة والديون في الدول المجاورة.

نشاط سياقي

ابحث في المكتبات أو عن طريق الأترنت وكتب ورقة عن الصيد ومشاكلة في موريتانيا واعرضها على زملائك في الفصل للنقاش.



أسئلة للتقويم

1 حدد الموقع الجغرافي لكل من فرنسا وألمانيا على خريطة صماء لأوروبا.



2 أيهما أكثر قوة في المجال الصناعي فرنسا أم ألمانيا؟

3 عدد أهم النشاطات الاقتصادية في فرنسا.

4 حدد أبرز معوقات الاقتصاد الألماني.





الأنشطة الاقتصادية في أستراليا ونيوزيلندا

الدرس الثالث عشر

أهداف الدرس:

- 1 يتوقع في نهاية الدرس أن يكون التلميذ قادرا على:
تحديد موقع أستراليا على خريطة قارة أوقيانوسيا.
- 2 معرفة مقومات ومشاكل الاقتصاد الأسترالي.
- 3 تحديد موقع نيوزيلندا على خريطة قارة أوقيانوسيا.
- 4 معرفة مقومات ومشاكل الاقتصاد نيوزيلندي.



أولا: الأنشطة الاقتصادية في أستراليا

الموقع الجغرافي والمساحة

تقع أستراليا في نصف الكرة الجنوبي غرب المحيط الهادي يحدها من الغرب المحيط الهندي، ومن الشرق المحيط الهادي، ومن الشمال بحر تيمور، ومن الجنوب المحيط المتجمد الجنوبي. (انظر الخريطة)، ومساحتها 7.7 مليون كلم مربع، وعدد سكانها أكثر من 25 مليون حسب تقديرات 2020.

خريطة الموقع الجغرافي لأستراليا



الصورة (1): محاصيل فلاحية

الأغنام



العنب



القمح



تتنوع الأنشطة الاقتصادية في استراليا نتيجة لاتساع مساحة أستراليا وتنوع المناخ ومن أهم الأنشطة الاقتصادية:

1 - الفلاحة

تتميز الزراعة في استراليا بتنوع المنتجات تبعا لتنوع المناخ فيها حيث يستخدم الاستراليون في الزراعة الأساليب العلمية الحديثة.

ويعتبر القمح المحصول الرئيسي في البلاد، حيث يحتل نصف المساحة المزروعة في أستراليا، كما يزرع قصب السكر، وتقوم استراليا بتصدير الموالح والعنب والتفاح إلى الأسواق الأوروبية، كما تصدر أستراليا دول العالم في أعداد رؤوس الأغنام، وتتركز تربيتها في وسط وجنوب غرب أستراليا.

2 - الثروة المعدنية ومصادر الطاقة

الصورة (2): بعض المعادن

الماس



البوكسيت






تتوفر أستراليا على ثروات معدنية هامة منها البوكسيت (المرتبة الأولى عالمياً)، والماس (المرتبة الثالثة بعد روسيا وبتسوانا) والحديد (المرتبة الثانية بعد الصين) والذهب (المرتبة الثالثة بعد جنوب أفريقيا والصين)، والفضة في المرتبة الخامسة سنة 2013، وفي إنتاج الفحم (المرتبة الرابعة عالمياً)، وتفتقر إلى النفط، كما تعد من الدول المنتجة والمصدرة للغاز الطبيعي.

3 - السياحة

الصورة (3): أماكن سياحية في أستراليا

قصر الملكة فكتوريا



برج سيدني



تعد أستراليا واحدة من أكثر الوجهات السياحية المرغوبة بسبب المناظر الطبيعية الجميلة، والمناطق الساحلية، والغابات المطيرة، وقد زار أكثر من 7 مليون سائح أستراليا سنة 2017، حيث جذبتهم الشواطئ الرملية الجميلة، والنباتات والحيوانات الفريدة.

4 - الصناعة

تركز الصناعة في النصف الشرقي من أستراليا، والساحل الغربي لها والمدن الكبرى بسبب توفر مصادر الطاقة والأيدي العاملة الماهرة وتوفير رؤوس الأموال ووسائل النقل، وترتبط كثير من الصناعات الأسترالية بالإنتاج الحيواني والزراعي مثل صناعة الألبان ومشتقاتها، وطحن الغلال، والغزل والنسيج، وتقوم فيها صناعات ثقيلة، مثل صناعة السيارات، والقطارات وبناء السفن.

كما أن قطاع الخدمات يضم أكثر من 70% من الناتج المحلي الإجمالي، وهو يهيمن على الاقتصاد، ويعمل أكثر من 79% من القوى العاملة في هذا القطاع.

مشاكل الاقتصاد الأسترالي

1 - ارتفاع قيمة الدولار الأسترالي أضعف تنافسية السلع الأسترالية.

2 - ارتفاع تكاليف الإنتاج بسبب ارتفاع تكاليف العمالة.





أن اقتصاد أستراليا يركز أساساً على قطاع الخدمات الذي يساهم بـ 70% من الناتج المحلي الإجمالي، ويعمل فيه أكثر من 79% من القوى العاملة في هذا القطاع. يعاني اقتصاد أستراليا من عدة مشاكل من بينها ارتفاع تكاليف الإنتاج بسبب ارتفاع تكاليف الأجور.



ثانياً: الأنشطة الاقتصادية في نيوزيلندا

الموقع الجغرافي والمساحة

تقع نيوزيلندا جنوب غرب المحيط الهادي، وجنوب شرق أستراليا، وتتكون نيوزيلندا من جزيرتين كبيرتين هما: الجزيرة الشمالية والجزيرة الجنوبية، وعدد من الجزر الصغيرة الأخرى، وليس لها حدود برية مع أي دولة، (انظر الخريطة)، وتبلغ مساحتها 268021 كلم مربع، وعدد سكانها 5 ملايين نسمة حسب تقديرات 2020.

خريطة نيوزيلندا



تأمل الصور (1)، (2)، والجدول، واقرأ النص،
ثم استنتج

الصورة (1): بعض المحاصيل الفلاحية

العنب

زراعة القمح وتربية الأبقار



1 - الفلاحة

تقدر مساحة الأراضي الزراعية والقابلة للزراعة بحوالي نصف مساحة البلاد، ويعد القمح من أهم المحاصيل الزراعية، وتتركز زراعته بالأراضي السهلية سواء في الجزيرة الشمالية أو الجنوبية، أما الشعير فتتركز زراعته في الجزء الشرقي من هضبة أوتاجو، وفي السهول الجنوبية الغربية من الجزيرة الشمالية.

تعد تربية الأغنام النشاط الريفي الرئيسي في نيوزيلندا ويقدر عدده بخمسة ملايين بقرة، وتنتشر مزارعه في جميع أنحاء البلاد، وتعتبر ثامن أكبر منتج للحليب في العالم.

الجدول: إنتاج بعض المحاصيل الزراعية في نيوزيلندا

المحاصيل الزراعية	الإنتاج
فاكهة كيوي	414 ألف طن
فاكهة العنب	426 ألف طن
القمح	265 ألف طن
بطاطس	511 ألف طن

2 - الثروة المعدنية

تفتقر نيوزيلندا إلى مواد الطاقة والخامات المعدنية، ذلك أن إنتاجها من الفحم لا يزيد عن 2.5 مليون طن يأتي من الجزيرة الجنوبية، أما البترول فلا يزيد إنتاجه عن 500 ألف طن، إلا أن هذا الفقر بمواد الطاقة يعوضه كثرة المحطات الكهربائية التي شيدت على المجاري النهرية.



وإنتاج نيوزيلندا من الحديد لا يتعدى بضعة آلاف من أطنان تستخرج من منطقة نلسون، كما أن إنتاجها من الذهب تضاءل كثيرا، ويستخرج من أراضيها أيضا كميات محدودة جدا من المنغنيز والفوسفات والفضة والكبريت.

3 - الصناعة

الصورة (2): بعض أنواع الصناعة

مصنع الاسمنت



صناعة تعليب اللحوم



توجد العديد من الصناعات في نيوزيلندا ومن أهم المراكز الصناعية في الجزيرة الشمالية مدينتي أوكلاند وويلنغتون، حيث يصنع في أوكلاند منتجات الألبان، وتعليب اللحوم، والغزل والنسيج والزجاج والاسمنت، أما أهم المراكز الصناعية في الجزيرة الجنوبية فتتمثل في منطقتي كريستشيرش ودندين، حيث صناعة منتجات الألبان ودبغ الجلود والمنسوجات المختلفة.

يشكل قطاع الخدمات نسبة كبيرة من الناتج الداخلي المحلي الإجمالي، ففي سنة 2013 ساهم قطاع الخدمات بنسبة 63% من الناتج الإجمالي، ويعتمد اقتصادها أساسا على الاتفاقيات التجارية الدولية مع البلدان الأخرى.

مشاكل الاقتصاد النيوزيلندي

- 1 - الازمة المالية العالمية 2008 أثرت على التجارة.
- 2 - الظروف الصحية العالمية كفيروس كورونا أدت إلى توقف أغلب المصانع.
- 3 - الاعتماد على التجارة الخارجية.



أن اقتصاد نيوزيلندا يعتمد أساسا على قطاع الخدمات الذي يساهم بنسبة 63% من الناتج الداخلي الخام، ويعاني اقتصادها من مشاكل متعددة من بينها الاعتماد على التجارة الخارجية



الملخص

أولاً: النشاطات الاقتصادية في أستراليا

تتنوع الأنشطة الاقتصادية في أستراليا نتيجة لاتساع مساحتها وتنوع مناخها ومنها الزراعة حيث يستخدم الأستراليون فيها الأساليب العلمية الحديثة، ومن أهم المنتجات الزراعية القمح وقصب السكر، كما تتوفر على ثروات معدنية متنوعة كالبوكسيت والحديد والذهب.

كما تعد أستراليا واحدة من أكثر الوجهات السياحية المرغوبة بسبب المناظر الطبيعية الجميلة، والمناطق الساحلية، والغابات المطيرة، ومن أهم الأماكن السياحية برج سيدني، وقصر الملكة فيكتوريا.

أما الصناعة فيرتبط أغلبها بالإنتاج الحيواني والزراعي مثل صناعة الألبان ومشتقاته، كما توجد صناعات ثقيلة منها صناعة السيارات، والقطارات وبناء السفن. يواجه الاقتصاد الأسترالي عدة تحديات منها ارتفاع الدولار الأسترالي، وتكاليف الإنتاج.

ثانياً: النشاطات الاقتصادية في نيوزيلندا

تتنوع الأنشطة الاقتصادية في نيوزيلندا حيث تعتبر من الدول الزراعية الناجحة بسبب الموقع الجغرافي ومن أهم المحاصيل الزراعية القمح وفاكهة الكيوي والعنب. كما تفتقر نيوزيلندا إلى موارد الطاقة والخامات المعدنية.

توجد العديد من الصناعات في نيوزيلندا ومن أهم المراكز الصناعية في الجزيرة الشمالية مدينتي أوكلاند وويلينغتون، حيث يصنع في أوكلاند منتجات الألبان، وتعليب اللحوم، والإسمنت، أما أهم المراكز الصناعية في الجزيرة الجنوبية فتتمثل في منطقتي كريستشيرش ودندين، حيث صناعة منتجات الألبان ودبغ الجلود والمنسوجات المختلفة.

يواجه اقتصاد نيوزيلندا عدة تحديات منها الأزمة المالية العالمية 2008، والاعتماد على التجارة الخارجية.

نشاط سياقي

على ضوء ما درست، ابحث، واكتب تقريراً عن أهمية الثروة الحيوانية في الاقتصاد الوطني، واعرضه على زملائك للنقاش.



أسئلة للتقويم

1 حدد الموقع الجغرافي في كل من أستراليا ونيوزيلندا على خريطة صماء لقارة أوقيانوسيا.



2 اذكر ثلاثة محاصيل زراعية في كل من أستراليا ونيوزيلندا.

3 اذكر مثالا من الصناعات المرتبطة بالإنتاج الحيواني في أستراليا.

4 حدد أبرز تحديات الاقتصاد النيوزيلندي.





ينجز مشروع صفي خلال مراحل تنفيذ الوحدة الثالثة عبر خطوات تتطلب تخطيط مشروع تنفيذه، تقديمه للتلاميذ، وتقاسم نتائجه.

المشروع المقترح:

اقترح مشروع معرض مدرسي يتعلق بعرض صور للتعريف ببعض الأنشطة الاقتصادية في عدة دول، وقد تم تقسيم الطلاب إلى خمس فرق هي:

- الفريق الأول: مكلف بجمع صور والتعليق عليها تتعلق بالأنشطة الاقتصادية في السودان.

- الفريق الثاني: مكلف بجمع صور والتعليق عليها تتعلق بالأنشطة الاقتصادية في الولايات المتحدة الأمريكية.

- الفريق الثالث: مكلف بجمع صور والتعليق عليها تتعلق بالأنشطة الاقتصادية في ماليزيا.

- الفريق الرابع: مكلف بجمع صور والتعليق عليها تتعلق بالأنشطة الاقتصادية في ألمانيا.

- الفريق الخامس: مكلف بجمع صور والتعليق عليها تتعلق بالأنشطة الاقتصادية في أستراليا.

- استشارة أستاذ الرياضيات حول ميزانية المعرض.

- استشارة اقتصادي حول أهمية الصناعة في الاقتصاد.

- استشارة مهندس زراعي حول أهمية قطاع الزراعة في الأمن الغذائي وتوفير فرص العمل.

- استشارة أستاذ الجغرافيا حول الخرائط المتعلقة بالأنشطة الاقتصادية.

المراجع

- 1 - جودة حسنين جودة - جغرافية افريقيا (دراسات في الجغرافيا الإقليمية)، دارالمعرفة الجامعية، الإسكندرية، 2000
- 2 - أحمد نجم الدين فليحة، افريقيا دراسة عامة وإقليمية، مؤسسة شباب الجامعة، الإسكندرية
- 3 - د. محمد صبري محسوب وآخرون جغرافية العالم وتاريخ مصر الحديث والمعاصر (الصف الثالث الاعدادي)
- 4 - وزارة التربية والتعليم في اليمن، جغرافية القارات للصف الثامن من مرحلة التعليم الأساسي، 2017
- 5 - وزارة التعليم العام، الجغرافيا والدراسات البيئية للصف الثاني الثانوي، السودان، 2012
- 6 - د أحمد عقلة المومني وآخرون، الجغرافيا الإقليمية للعالم قارة آسيا، دارالكندي للنشر والتوزيع، 1999.
- 7 - المعهد التربوي الوطني، كتاب الجغرافيا السنة الثالثة إعدادية، دارالفكر، بيروت، 2007.
- 8 - دولة فلسطين، الدراسات الجغرافية الصف 12
- 9 - جمهورية مصر العربية: الجغرافيا السياسية الصف الثالث ثانوي
- 10 - د محمد خميس الزوكة، الجغرافيا الاقتصادية
- 11 - محمد رياض، الجغرافيا السياسية، دارالنشر: مؤسسة هنداوي
- 12 - د. علي موسى / د. محمد الحمادي، جغرافية القارات - دارالفكر بدمشق - 2001.
- 13 - د. محمد خميس الزوكة - جغرافية العالم الجديد، دارالمعرفة الجامعية - الاسكندرية، 2000.
- 14 - د. حسن عبد العزيز احمد - جغرافية أوروبا دراسة موضوعية، دارالمريخ للنشر- الرياض، 1982.

الفهرست

الصفحة	العنوان
3	تقديم
5	مقدمة
7	محتويات الكتاب
9	الوحدة الأولى: مفاهيم جغرافية
10	مفاهيم في الجغرافيا الإقليمية
16	مفاهيم في الجغرافيا الاقتصادية
20	مفاهيم في الجغرافيا السياسية
27	الوحدة الثانية: قارات العالم (المظاهر الطبيعية والبشرية)
29	المظاهر الطبيعية والبشرية في قارة إفريقيا
39	المظاهر الطبيعية والبشرية في قارة أمريكا
50	المظاهر الطبيعية والبشرية في قارة آسيا
59	المظاهر الطبيعية والبشرية في قارة أوروبا
69	المظاهر الطبيعية والبشرية في قارة أوقيانوسيا
79	الوحدة الثالثة: نماذج من الأنشطة الاقتصادية في القارات
80	الأنشطة الاقتصادية في السودان ونيجيريا
88	الأنشطة الاقتصادية في البرازيل والولايات المتحدة الأمريكية
98	الأنشطة الاقتصادية في ماليزيا واليابان
106	الأنشطة الاقتصادية في فرنسا وألمانيا
114	الأنشطة الاقتصادية في أستراليا ونيوزيلاندا
123	المراجعة
124	الفهرست